

Croquis

Pôles et flux de la mondialisation

Ce croquis relève de la question « La mondialisation en fonctionnement ». Signalé par l'inspection générale comme sujet probable au Bac, il présente des difficultés de mise en œuvre certaines. En effet, ce croquis doit vous permettre de traduire par le graphisme les échanges mondiaux ; c'est-à-dire à « mettre en scène graphiquement » les principaux pôles (centres d'impulsions et lieux privilégiés comme les détroits, les interfaces...) mais aussi les flux majeurs. Or, à cette échelle, l'enchevêtrement des flèches et notamment des têtes de flèches (de tailles proportionnelles) peut très vite rendre le croquis illisible. Ajoutez à cela les figurés ponctuels proportionnels et vous comprendrez la difficulté de réalisation d'un tel croquis. Ici, le Munigraphe devient indispensable.

Soulignons enfin, que contrairement à beaucoup de croquis, ici, l'accent étant mis sur les pôles et les flux par voie de conséquence, de grands espaces (des territoires, des pays) seront blancs car, exclus du champ du sujet.

Sinon, le sujet en lui-même ne pose aucune difficulté quant à la problématique. Il s'agit tout simplement de mettre en évidence les pôles qui organisent les flux dans le cadre de la mondialisation.

Avec le plan de légende suivant :

- 1) **Les pôles et les espaces majeurs**
 - 1.1 **Les centres d'impulsion**
 - 1.2 **Des lieux privilégiés**
- 2) **Les flux**
 - 2.1 **Les flux majeurs**
 - 2.2 **D'autres flux**

Pour bien réussir il faut :

- *Faire cet exercice en vous aidant du Carto_Flash_SDVL Espace Mondial*



- *Vérifier vos différentes réponses sous forme de schémas avec ceux du corrigé.*



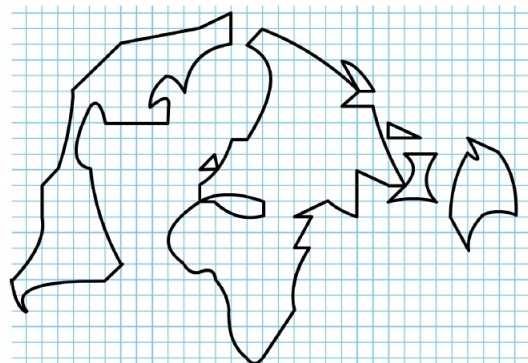
- *Enfin après correction éventuelle, réaliser votre propre croquis à l'aide du Munigraphe.*



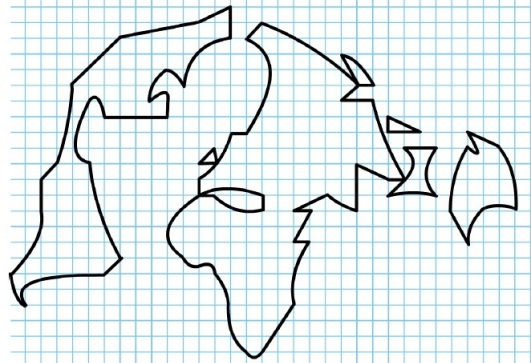
A) Les pôles et les espaces majeurs

1.1 Des centres d'impulsion

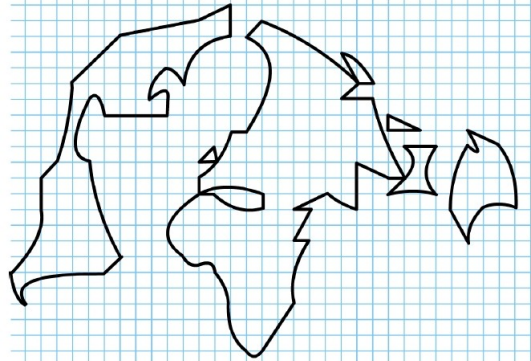
- 1) Les échanges mondiaux sont dominés par quelques grandes puissances économiques. Comment allez-vous les représenter ?



2) Certaines métropoles avec leurs sièges sociaux, leurs bourses, leurs aéroports, etc.. constituent aussi d'importants centres d'impulsion des échanges mondiaux. Comment allez-vous les représenter ?

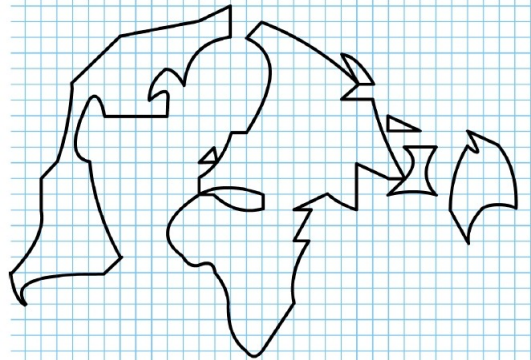


3) Les grandes organisations régionales (exemple l'Union Européenne) constituent également des centres d'impulsion des échanges mondiaux. Comment allez-vous les représenter ?

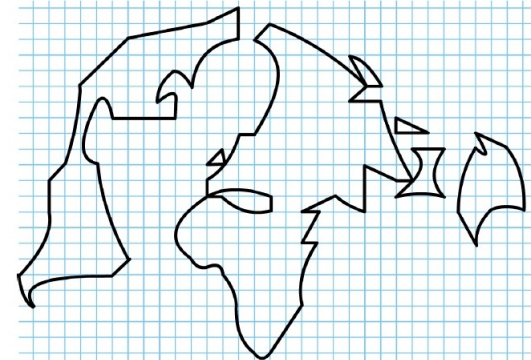


1.2 Des lieux privilégiés

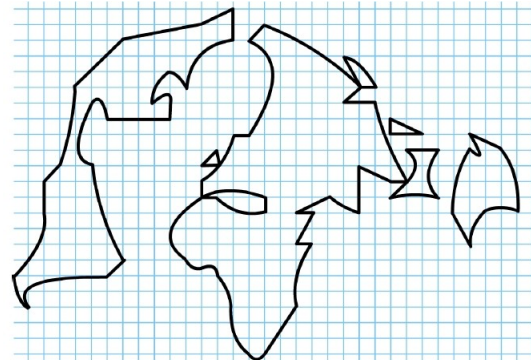
4) Les échanges mondiaux transitent par des lieux privilégiés comme les interfaces maritimes. Comment allez-vous les représenter ?



5) Parmi les lieux privilégiés où transitent les échanges mondiaux il faut également mentionner les détroits. Comment allez-vous les représenter ?



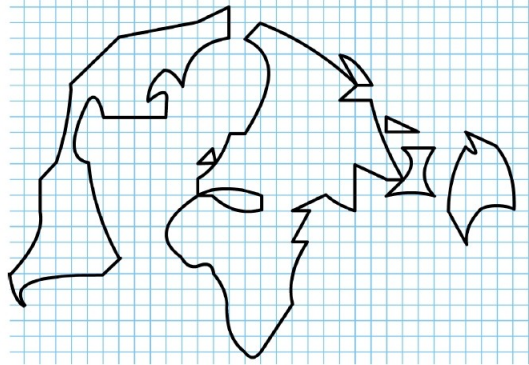
6) Il faut également identifier les BRICS, véritables lieux privilégiés participant au monde en réseau. Comment allez-vous les représenter ?



B) Les flux

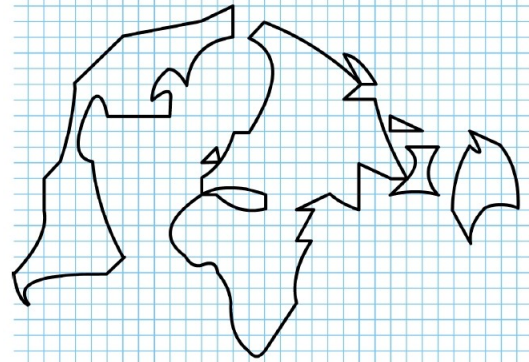
2.1 Les flux majeurs

7) Après les pôles, il vous faut représenter les flux. Et tout d'abord les plus importants, les flux de marchandises, services, informations, capitaux.... Comment allez-vous les représenter ?

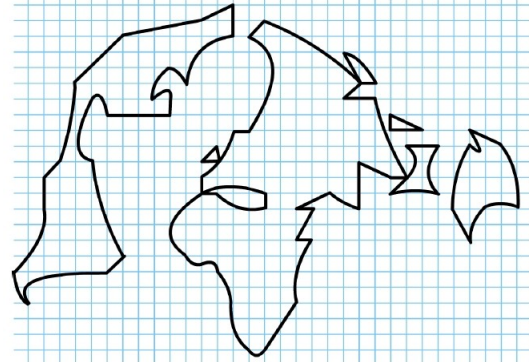


2.2 D'autres flux

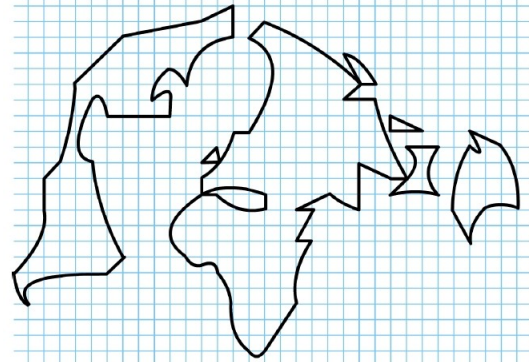
8) Dans le cadre des autres flux, il faut aussi représenter les flux des principales migrations internationales. Comment allez-vous les représenter ?



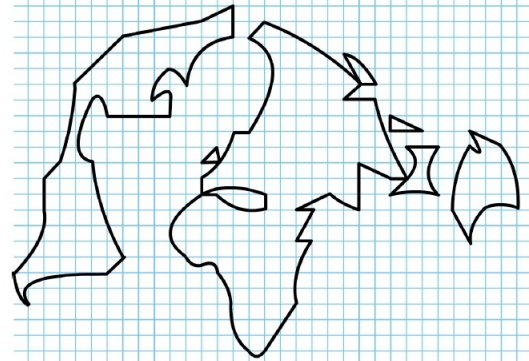
9) Mais il y a aussi les flux de matières premières et énergétiques. Comment allez-vous les représenter ?



10) Il y a également les flux de produits manufacturés et de produits agricoles. Comment allez-vous les représenter ?



11) Il nous reste enfin à signaler les flux financiers. Comment allez-vous les représenter ?



Pôles et flux majeurs des échanges mondiaux



Légende :