

Croquis

L'organisation du territoire belge dans la dynamique de la mondialisation

Ce croquis doit vous permettre de traduire par le graphisme l'organisation du territoire de la Belgique, territoire ouvert sur le monde.

Pour cela il faut :

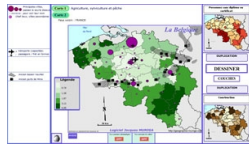
- faire apparaître les métropoles (mondiale et aux fonctions internationales)
- les autres métropoles importantes qui organisent le territoire
- les territoires d'innovation
- relever les contrastes et les dynamiques spatiales du territoire
- tracer les voies de communications qui assurent l'organisation du territoire
- faire figurer les ouvertures régionales et mondiales

Avec le plan de légende suivant :

- 1) **Les métropoles, moteur du dynamisme**
- 2) **Contrastes et dynamiques spatiales du territoire**
- 3) **Un territoire ouvert sur le monde**

Pour bien réussir il faut :

- Faire cet exercice en vous aidant du Carto_Flash_Prof_SDVL la Belgique,



- Vérifier vos différentes réponses sous forme de schémas avec ceux du corrigé,



- Enfin après correction éventuelle, réaliser votre propre croquis à l'aide du Munigraphe.



A) Les métropoles, moteur du dynamisme

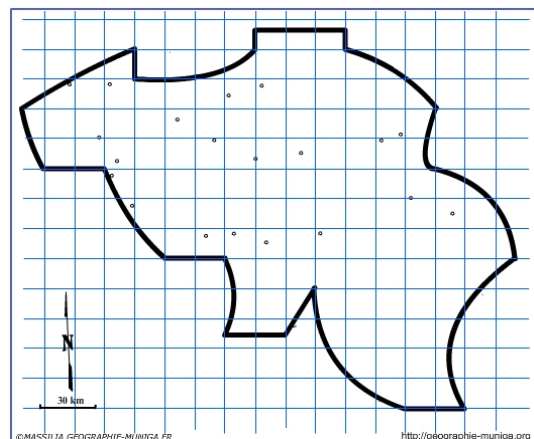
1) Bruxelles n'est pas à une ville mondiale. Néanmoins, compte tenu de son importance et de son influence, elle est qualifiée de 'petite ville mondiale'. Comment allez-vous la représenter ?

Aide Carto Flash Prof SDLV la Belgique :

Couches : Villes importantes

Catégories : Population / Carte : Densités 2013

Catégories : Population / Carte : Population en 2013 - % du total national



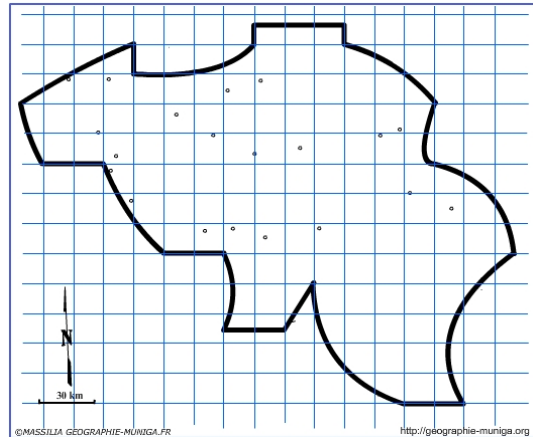
2) Hormis Bruxelles, quatre autres métropoles ont des fonctions importantes, voire internationales. Comment allez-vous les représenter ?

Aide Carto Flash Prof SDLV la Belgique :

Couches : Villes importantes

Catégories : Population / Carte : Densités 2013

Catégories : Population / Carte : Population en 2013 - % du total national



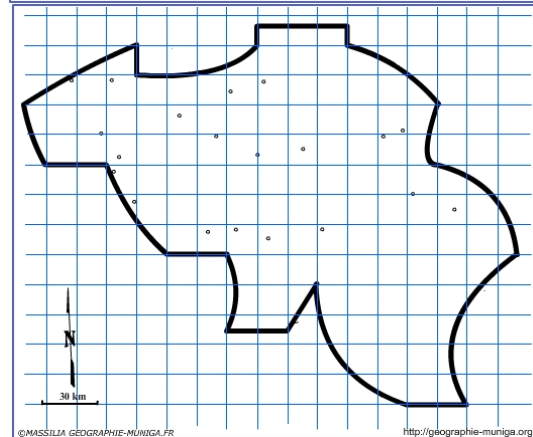
3) Mais le territoire belge comprend de nombreuses autres métropoles plus ou moins importantes qui participent à son organisation. Comment allez-vous représenter les plus importantes ?

Aide Carto Flash Prof SDLV la Belgique :

Couches : Villes importantes

Catégories : Population / Carte : Densités 2013

Catégories : Population / Carte : Population en 2013 - % du total national

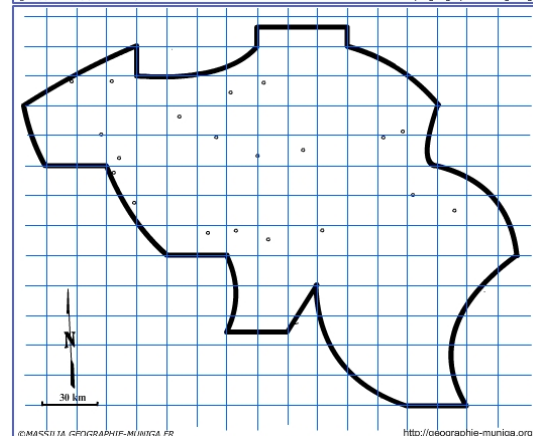


4) Des technopôles, véritables territoires de l'innovation, ont été implantés dans de nombreux arrondissements pour renforcer leur dynamisme. Comment allez-vous les représenter ?

Aide Carto Flash Prof SDLV la Belgique :

Couches : Technopoles – territoires d'innovation

Catégories : Secteurs d'activités / Carte : Activités spécialisées, scientifiques/techniques



B) Contrastes et dynamiques spatiales du territoire

5) Deux métropoles et leur environnement proche dominent très largement l'espace belge. Comment allez-vous représenter ce « cœur », cet espace central ?

Aide Carto Flash Prof SDLV la Belgique :

Catégories : Travailleurs indépendants / Carte : Progression 1999-2013

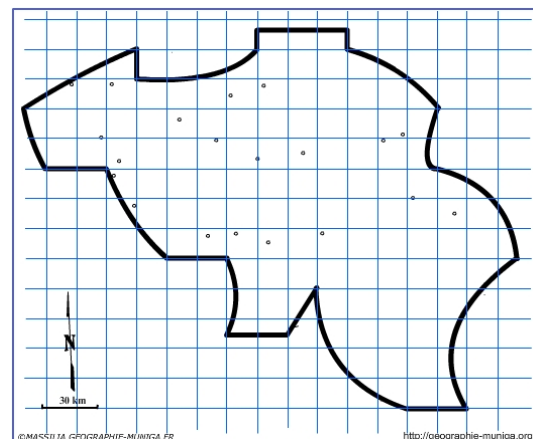
Catégories cercles : Travailleurs indépendants / Nombre de travailleurs indépendants en 2013

Catégories cercles : Salaries en nombre / Carte : Nombre de salariés en 2013

Catégories : PIB en chiffres absolus et en % / Carte : PIB% / total pays en 2013

Catégories : Occupation du sol / Carte : 2011 - % terrains commerciaux

Catégories : Occupation du sol / Carte : 2011 - % terrains industriels



6) Nonobstant la prééminence de Bruxelles et Anvers une périphérie dynamique s'est au fil des ans imposée. Comment allez-vous représenter cette périphérie ?

Aide Carto Flash Prof SDLV la Belgique :

Catégories : Travailleurs indépendants / Carte : Progression 1999-2013

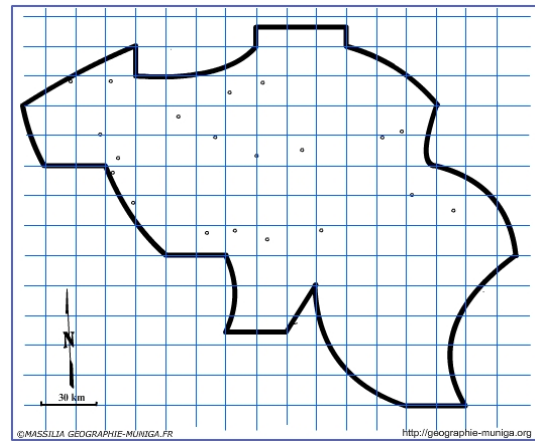
Catégories cercles : Travailleurs indépendants / Nombre de travailleurs indépendants en 2013

Catégories cercles : Salaries en nombre / Carte : Nombre de salariés en 2013

Catégories : PIB en chiffres absolus et en % / Carte : PIB% / total pays en 2013

Catégories : Occupation du sol / Carte : 2011 - % terrains commerciaux

Catégories : Occupation du sol / Carte : 2011 - % terrains industriels



7) La Belgique possède également de nombreux espaces à dominante rurale qui jouent « un rôle de plus en plus important sur le plan environnemental et énergétique » (Statistiques belges 2014). Comment allez-vous représenter cet espace ?

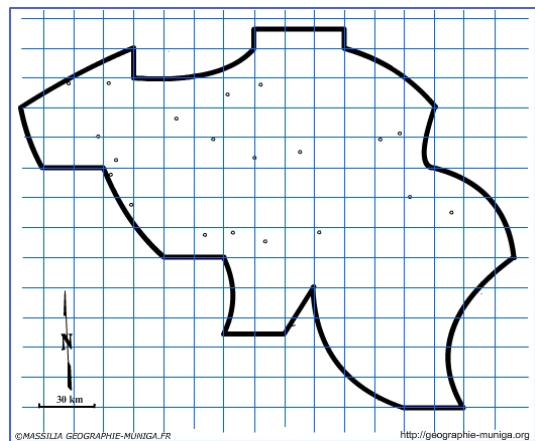
Aide Carto Flash Prof SDLV la Belgique :

Catégories : Secteurs d'activités / Carte : Agriculture

Catégories : Occupation du sol / Carte : 2001 % Terrains non bâtis

Catégories : Niveau d'études / Carte : Personnes sans diplôme ou certificat

Catégories : Revenus fiscaux, salaire moyen brut / Carte : Salaire mensuel brut 2012

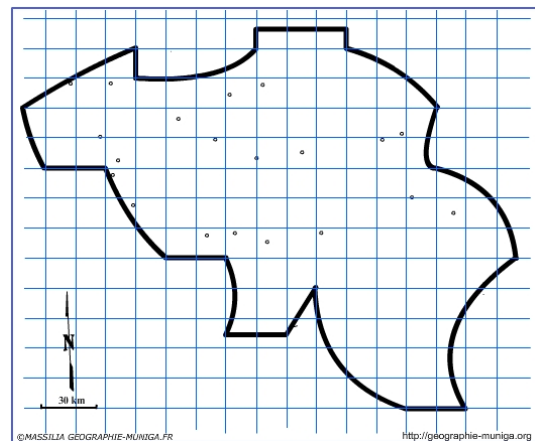


8) La Belgique a connu ses heures de gloire avec ses bassins houillers. Avec le concours des pouvoirs publics, ces territoires ont entamé une reconversion pour se fondre dans d'autres espaces. Comment allez-vous les représenter ?

Aide Carto Flash Prof SDLV la Belgique :

Couches : Anciens Bassins Houillers

Catégories : Occupation du sol / Carte : 2011 % Terrains industriels



C) Un territoire ouvert sur le monde

9) L'organisation du territoire relève en grande partie de la densité et de la distribution spatiale de ses axes de communications. Comment allez-vous représenter les axes majeurs ?

Aide Carto Flash Prof SDLV la Belgique :

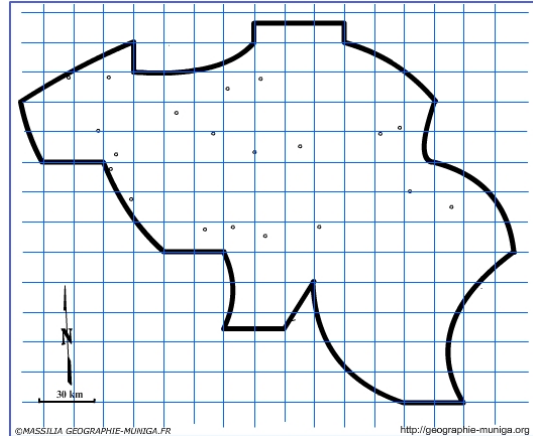
Couches : Autoroutes

Couches : Trains

Couches : Voies navigables

Couches : Trafic des Poids Lourds

Couches : Trafic ferroviaire



10) Outre ces axes majeurs, la Belgique compte d'autres axes importants qui achève le maillage de son territoire et qui contribuent ainsi à son organisation. Comment allez-vous les représenter ?

Aide Carto Flash Prof SDLV la Belgique :

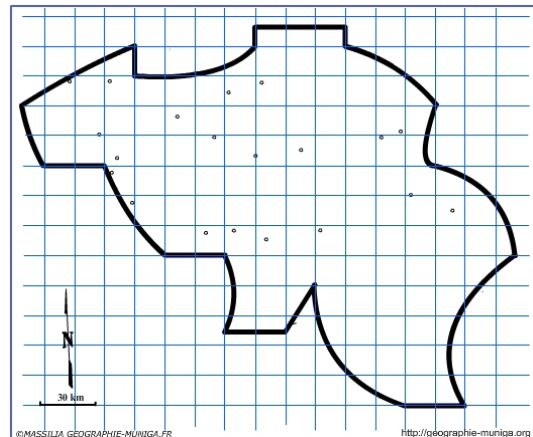
Couches : Autoroutes

Couches : Trains

Couches : Voies navigables

Couches : Trafic des Poids Lourds

Couches : Trafic ferroviaire



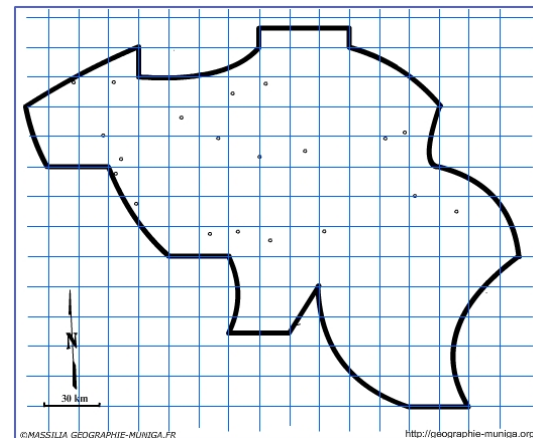
11) Grâce à sa façade maritime, la Belgique possède des ports maritimes qui, avec leurs échanges assurent une ouverture sur le monde. Comment allez-vous représenter ces échanges maritimes ?

Aide Carto Flash Prof SDLV la Belgique :

Couches : Ports maritimes

Couches : Ports fluviaux

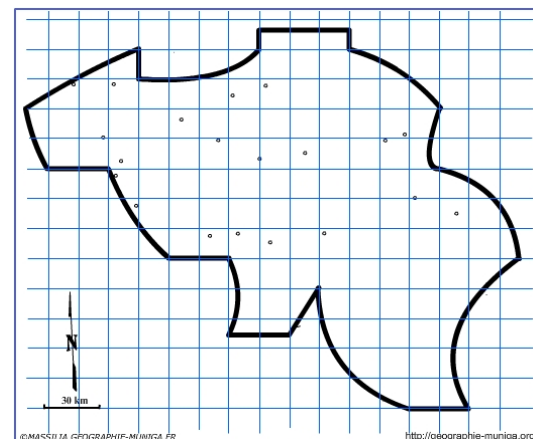
Couches : Voies navigables



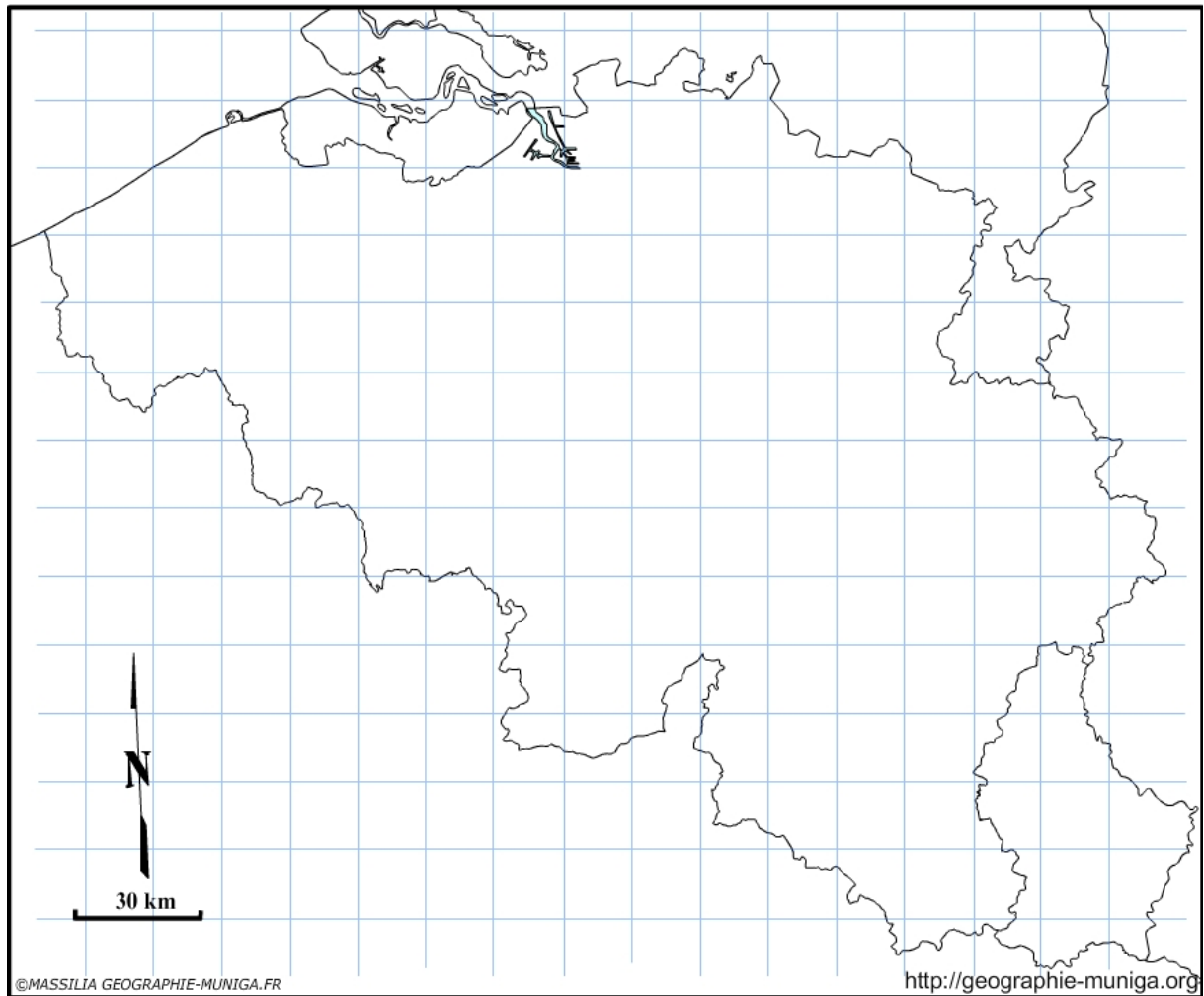
12) La Belgique possède aussi quelques grands aéroports qui, avec leurs échanges assurent une ouverture sur le monde. Comment allez-vous représenter ces aéroports ?

Aide Carto Flash Prof SDLV la Belgique :

Couches : Aéroports



L'organisation du territoire belge dans la dynamique de la mondialisation



LEGENDE :

1) Les métropoles, moteur du dynamisme

Bruxelles, "petite" ville mondiale

Métropoles aux fonctions importantes voire internationales

Autres métropoles régionales

Technopôle / territoire de l'innovation

2) Contrastes et dynamiques spatiales du territoire

Espace central, le "cœur"

Périphérie dynamique

Espace à dominante rurale

Anciens bassins houillers

3) Un territoire ouvert sur le monde

Axes majeurs (autoroute, LGV, canaux...)

Autres axes importants

Échanges maritimes

Aéroport international