

Croquis

Des territoires inégalement intégrés à la mondialisation

Ce croquis répond aux exigences des directives de l'inspection générale qui écrit dans la rubrique « orientation pour le baccalauréat » de la question « les territoires dans la mondialisation » : « trois réalisations cartographiques sont possibles à l'examen : [...], un croquis de l'inégale intégration des territoires dans la mondialisation ».

A partir de ces indications, plusieurs sujets sont possibles. Certes très proches les uns des autres mais il faut toujours respecter la problématique induite par le sujet. Ici, il s'agit d'un sujet constat. Le mot clef est inégalement. Il faut donc décliner cette inégalité pour tous les territoires (pays, métropoles, mégapoles...).

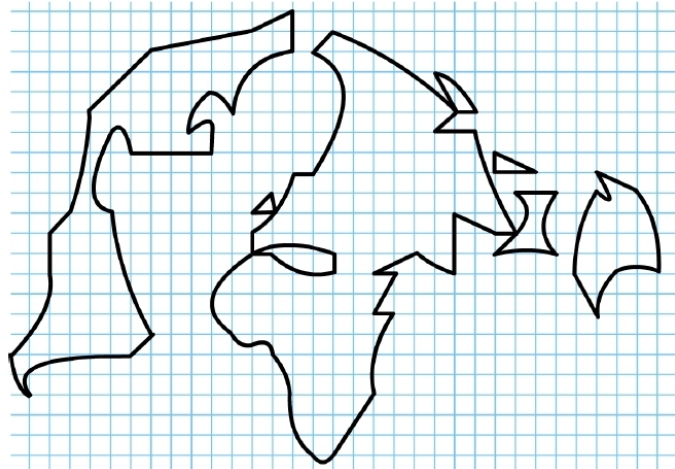
En principe, pour satisfaire au sacro-saint plan en trois parties nous pourrions avoir 1) Intégrés 2) Les périphéries 3) Marges.

Mais comme la troisième partie n'aurait qu'un élément (les territoires en marge), il est plus judicieux de proposer un plan en deux parties à savoir :

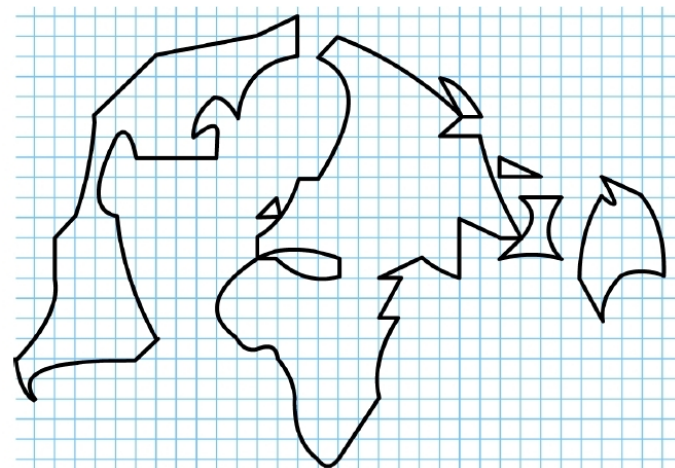
- 1) Des territoires et des lieux très intégrés à la mondialisation
- 2) Des périphéries inégalement intégrées et des territoires en marge

A) Des territoires et des lieux très intégrés à la mondialisation

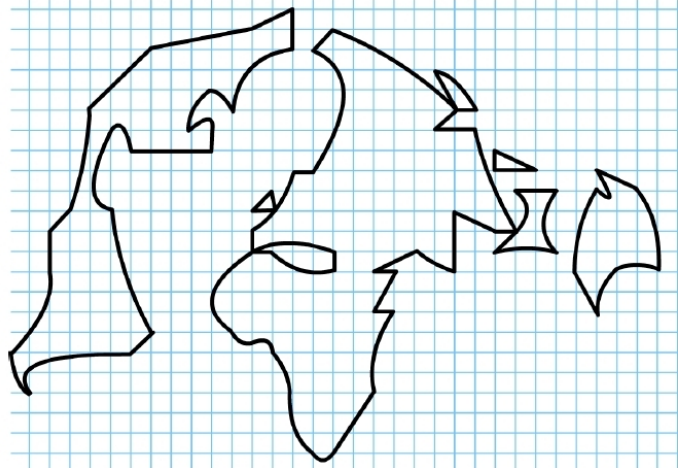
a) Le sujet invite à traiter des territoires inégalement intégrés à la mondialisation. En toute bonne logique il faut commencer par ceux qui sont très intégrés : les pays développés. Comment allez-vous les représenter ?



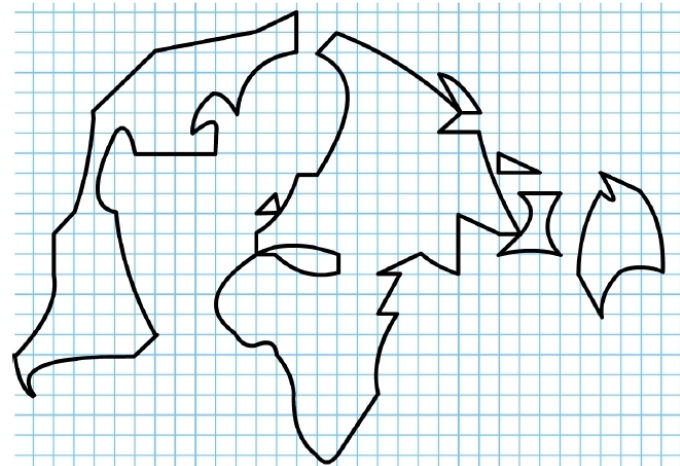
b) Mais, tous ces pays développés, pays territoires très intégrés à la mondialisation sont reliés par des flux majeurs (marchandises, capitaux, informations) ce qui renforce leur intégration. Comment allez-vous les représenter ?



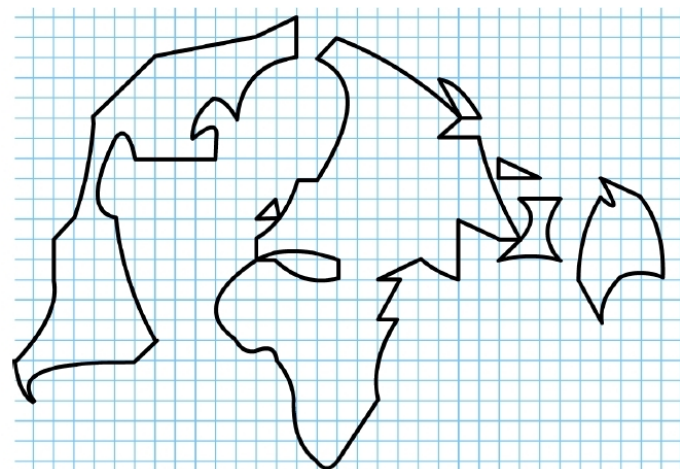
c) Vous avez également appris qu'un groupe de pays appelé BRICS, constituaient des territoires très intégrés à la mondialisation. Comment allez-vous les représenter ?



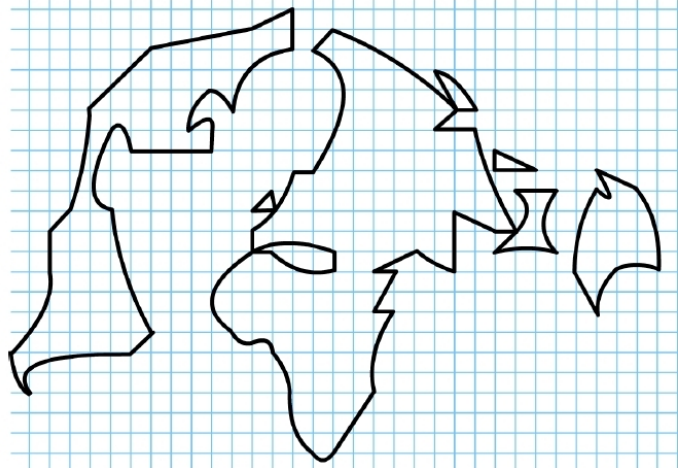
d) Enfin, vous savez qu'il y a encore d'autres pays qui constituent des territoires très intégrés à la mondialisation que l'on nomme pays émergés. Comment allez-vous les représenter ?



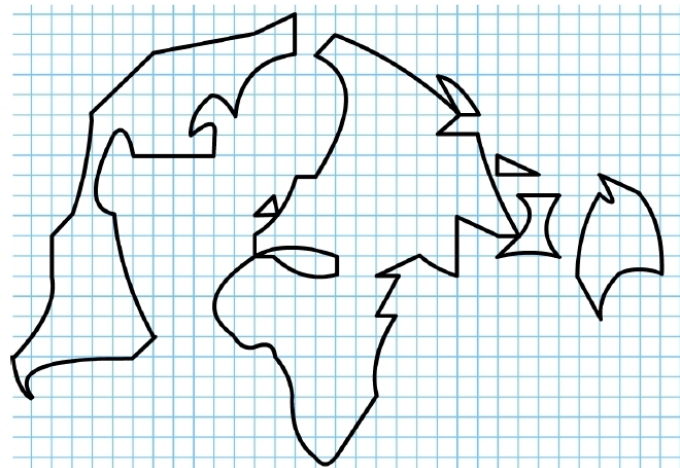
e) Par ailleurs, les métropoles mondiales, véritables centres d'impulsion de la mondialisation constituent à n'en pas douter des territoires très intégrés à la mondialisation. Comment allez-vous les représenter ?



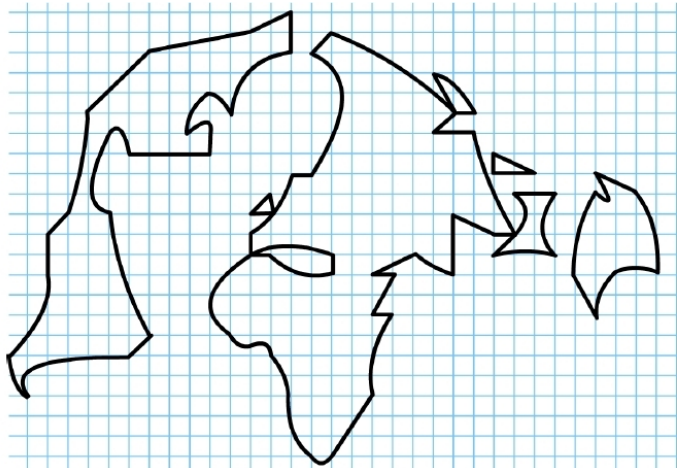
f) Plus important que les métropoles mondiales, il y a les mégalo-poles qui, avec leur chapelet de mégapoles constituent à n'en pas douter des territoires très intégrés à la mondialisation. Comment allez-vous les représenter ?



g) Mais il y a aussi les façades maritimes les plus importantes qui constituent assurément des territoires très intégrés à la mondialisation. Comment allez-vous les représenter ?

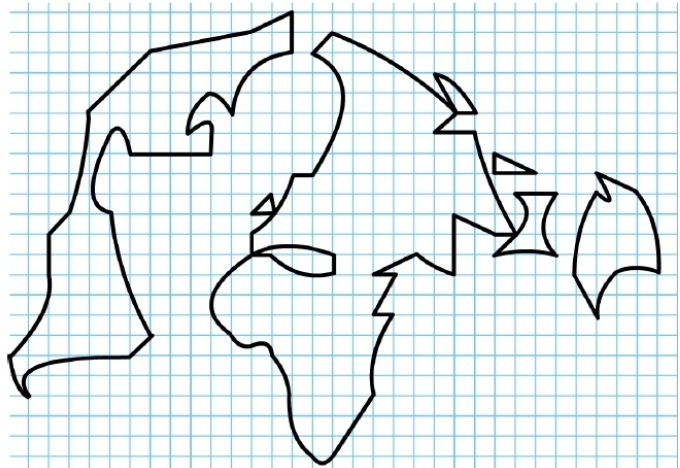


h) On ne saurait finir sans signaler les paradis fiscaux qui constituent certainement des territoires très intégrés à la mondialisation. Comment allez-vous les représenter ?

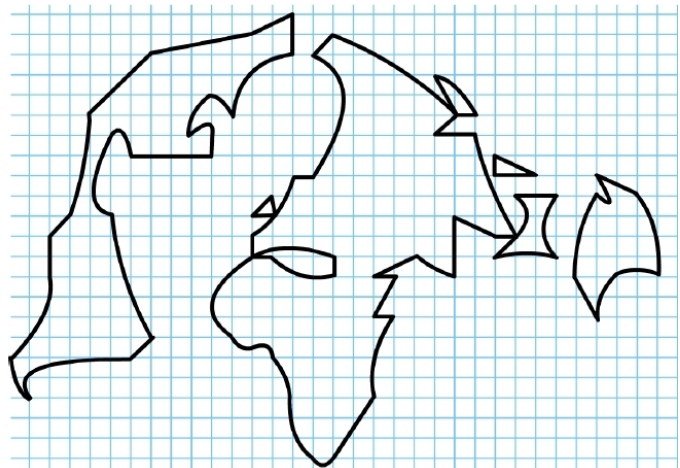


B) Des périphéries inégalement intégrées et des territoires en marge

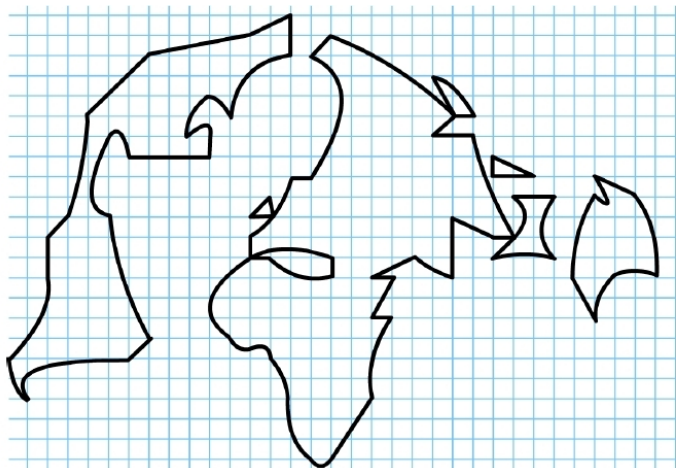
i) Passons à présent aux périphéries moins intégrées et même aux marges. Il y a tout d'abord des pays dont une partie du territoire est intégrée à la mondialisation. Comment allez-vous les représenter ?



j) Mais il y a aussi l'exportation du pétrole qui constitue pour certains territoires un facteur d'intégration à la mondialisation. Comment allez-vous représenter cet élément ?



k) Il reste enfin à représenter les territoires en marge de la mondialisation. Comment allez-vous les représenter ?



Des territoires inégalement intégrés à la mondialisation



LEGENDE