

Croquis / Schéma

Les échanges de blé dans le monde

Il s'agit ici d'un schéma de géographie qui est devenu obligatoire en classe de première.

C'est un sujet qui « colle » à l'intitulé de votre programme à savoir : Gérer les ressources terrestres - Nourrir les hommes. Le blé, produit indispensable pour nourrir les hommes est aussi l'expression de la mondialisation. En effet, les pays du Nord augmentent leurs productions pour assurer une sécurité alimentaire tant au Nord qu'au Sud. Mais dans le même temps, ils essaient de développer des agricultures durables

D'où nous pouvons nous interroger :

Quels sont les principaux flux de blé dans le monde ?

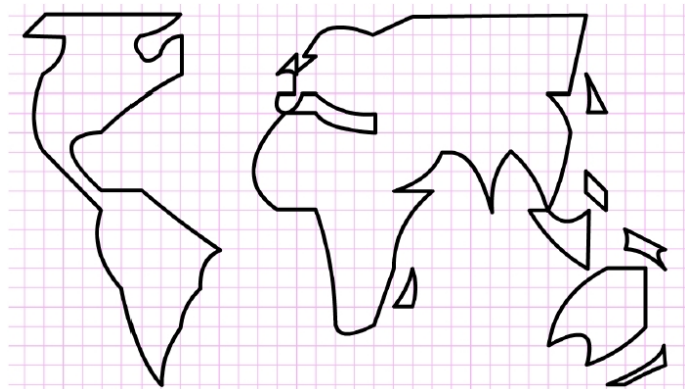
Prenons donc le plan suivant :

- 1) Pays exportateurs de blé
- 2) Pays importateurs de blé
- 3) Principaux flux de blé dans le monde

Note : les données peuvent être téléchargées sur : http://geographie-muniga.org/SDLV_2e/Cereals_MUNIGA_SDLV.pdf

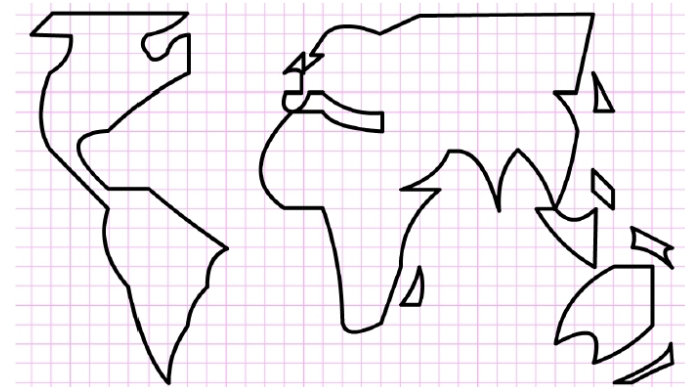
A) Pays exportateurs de blé

- a) Certains pays produisent beaucoup de blé, d'autres en importent. Comment allez-vous représenter les plus gros pays producteurs ?



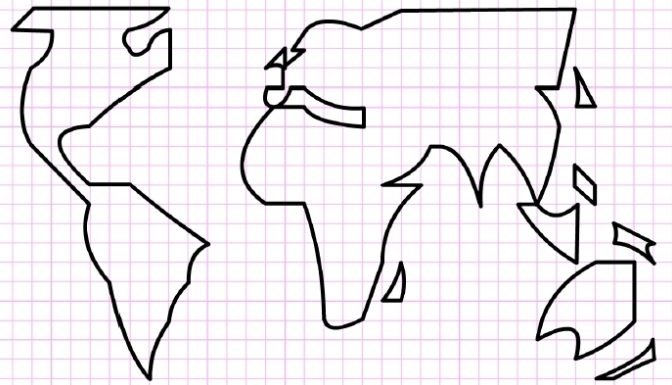
B) Pays importateurs de blé

- b) Qui dit pays exportateurs, dit pays importateurs. Comment allez-vous représenter les principaux pays importateurs ?

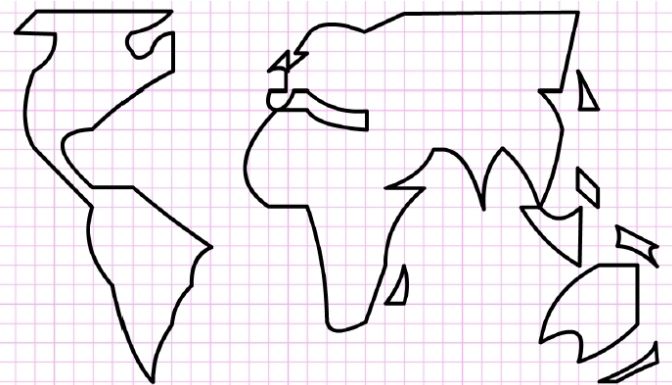


c) Principaux flux de blé dans le monde

c) Vous venez d'attribuer des figurés ponctuels aux pays exportateurs et importateurs. Vous devez à présent relier les uns et les autres pour faire apparaître les flux. Mais à ce stade, ne pourrait-on pas regrouper certains pays pour 'alléger' les flux ? Comment ?



d) Le principe de l'exportation et de l'importation étant basé sur des flux, comment allez-vous représenter les principaux flux de blé dans le monde ?



Les échanges de blé dans le monde



LEGENDE