

Croquis

L'organisation de l'espace de la région Languedoc-Roussillon

Ce croquis répond aux exigences des directives de l'inspection générale puisque l'étude de l'organisation spatiale de la région dans laquelle se trouve le lycée de l'élève est obligatoirement au programme.

Dès lors, pour produire un croquis de l'organisation de cet espace, il faut en dégager les points forts afin de les mettre en valeur graphiquement à savoir : c'est une région française relativement peu peuplée avec de surcroît de forts contrastes de peuplement ; et surtout une importante opposition entre la plaine littorale et l'arrière pays montagneux. Mais c'est aussi une région qui peu apparaître comme une région de transit.

Toute la difficulté de ce croquis réside dans son « montage ». Il ne s'agit pas de jeter sur le papier tous les éléments structurants et les espaces différenciés qui en découlent, il faut construire un graphisme qui visuellement puisse traduire :

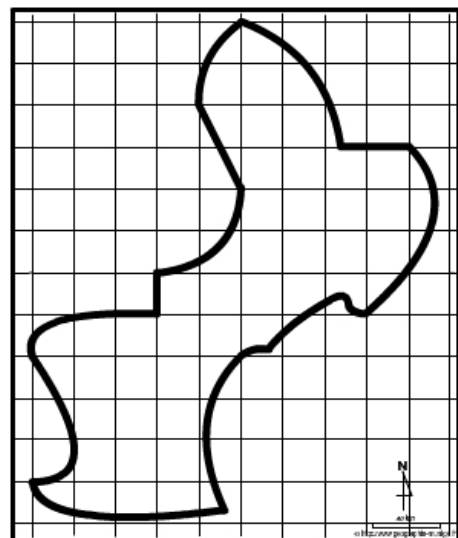
- Les principales zones de peuplement
- Les espaces « vides »
- L'armature urbaine
- Les réseaux de communications et leur connexions avec l'UE, la Méditerranée
- Le contraste littoral / intérieur

C'est ce que nous allons vous proposer avec cette méthodologie complète, pas à pas, d'après le plan suivant :

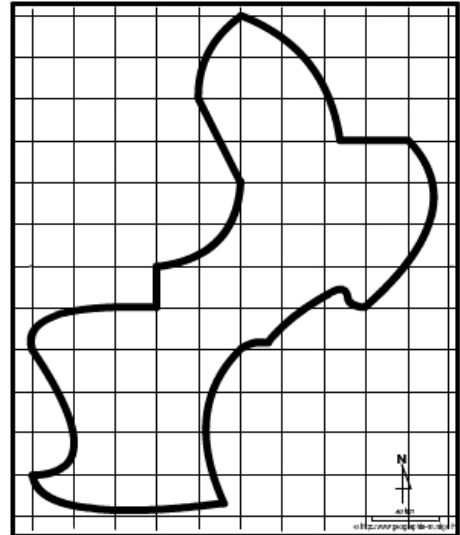
- 1) Le Languedoc-Roussillon, une région ouverte sur l'UE et la Méditerranée...
- 2) ... dotée d'un axe structurant et/ou de transit...
- 3) ...et d'un important contraste littoral / intérieur

A) Le Languedoc-Roussillon, une région ouverte sur l'UE et la Méditerranée...

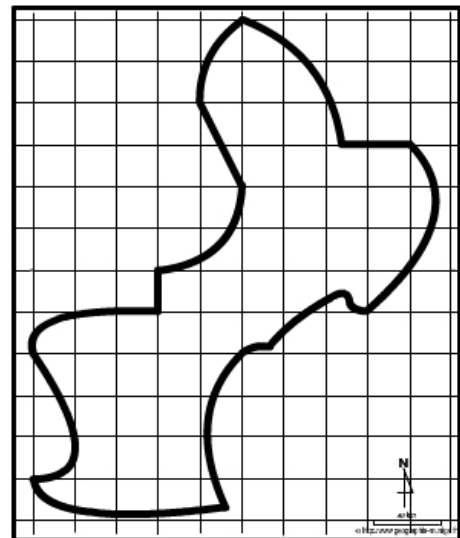
1) La région Languedoc-Roussillon est traversée par un grand axe national et européen. Cet axe important longe le littoral. Et c'est sur lui que viennent se greffer tous les autres axes. Comment allez-vous le représenter ?



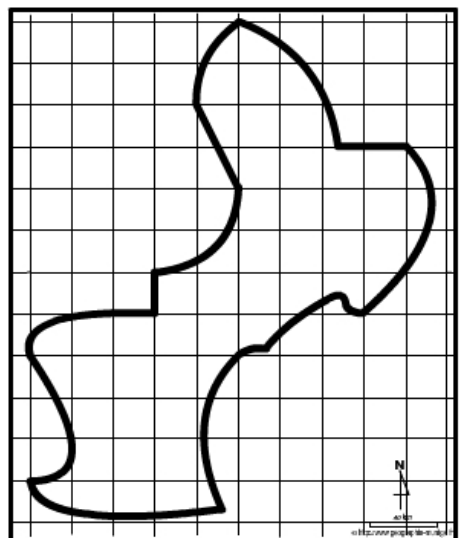
2) L'axe national et européen qui traverse la région Languedoc-Roussillon se prolonge notamment en Espagne. Et à la frontière s'est créée depuis plusieurs années, une véritable interface d'ailleurs en forte expansion. Comment allez-vous la représenter ?



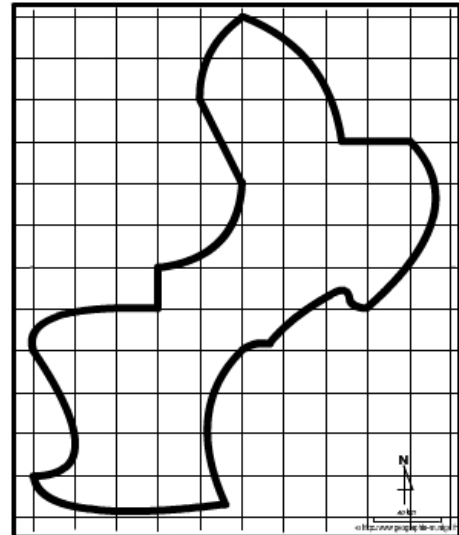
3) La région Languedoc-Roussillon dispose de deux ports maritimes, modestes certes, mais qui génèrent des échanges maritimes et participent ainsi à l'ouverture de la région. Comment allez-vous représenter ces flux ?



4) Aux quatre points cardinaux, la région Languedoc-Roussillon subit les influences de métropoles extra-régionales (Barcelone, Toulouse, Clermont-Ferrand, Marseille) plus ou moins grandes. Comment allez-vous représenter ce phénomène ?

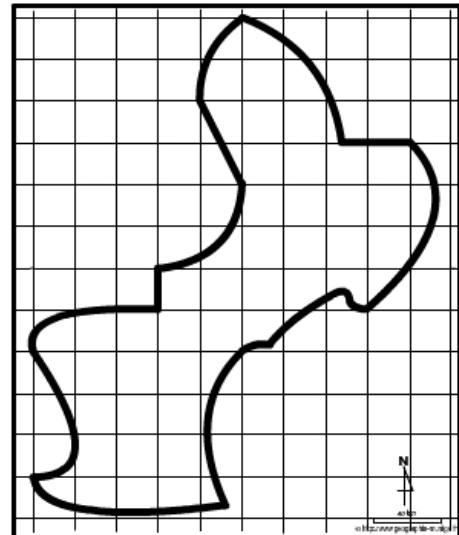


5) La région Languedoc-Roussillon est une région attractive. Les nombreux flux migratoires en témoignent. Comment allez-vous représenter ces flux ?

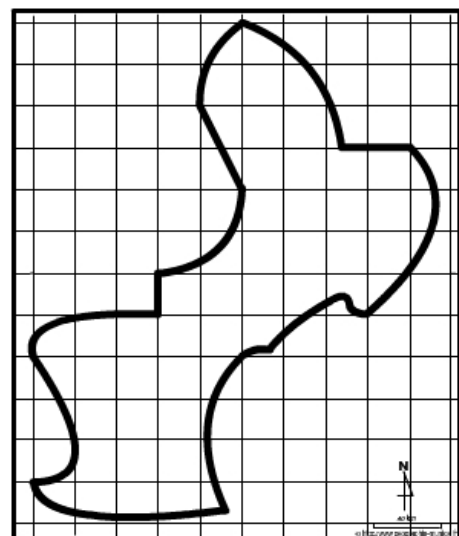


B) ...dotée d'un axe structurant et/ou de transit...

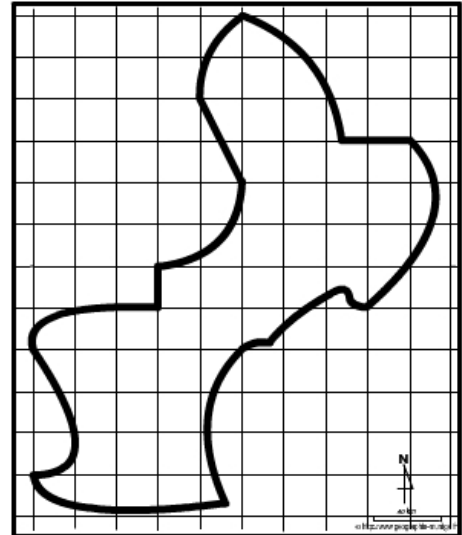
6) La région Languedoc-Roussillon est indubitablement dominée par la ville de Montpellier, métropole régionale. Comment allez-vous la représenter ?



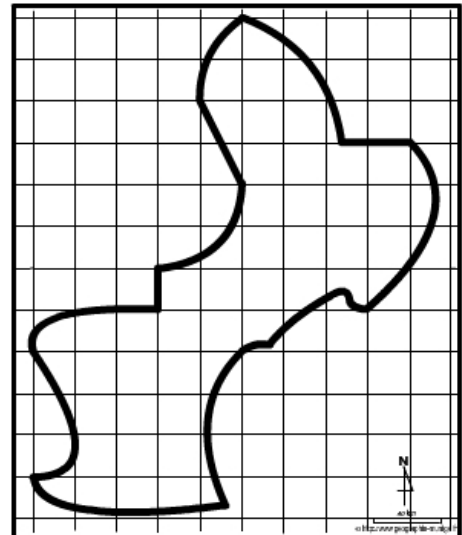
7) Hormis la métropole régionale, le Languedoc-Roussillon a également d'autres agglomérations plus ou moins importantes qui structurent son espace. Comment allez-vous les représenter ?



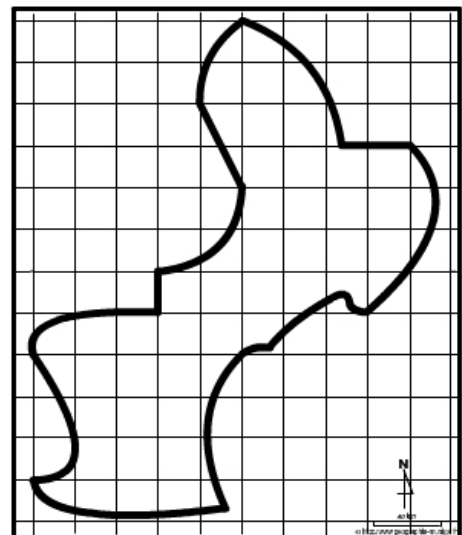
8) Outre le grand axe national et européen déjà représenté, le Languedoc-Roussillon dispose de réseaux de communications secondaires et toutefois importants. Comment allez-vous les représenter ?



9) L'axe national et européen qui traverse la région Languedoc-Roussillon comprend aussi une ligne TGV que nous devons dessiner séparément car elle est divisée en deux au niveau de Montpellier : une partie réalisée, l'autre en cours. Comment allez-vous les représenter ?

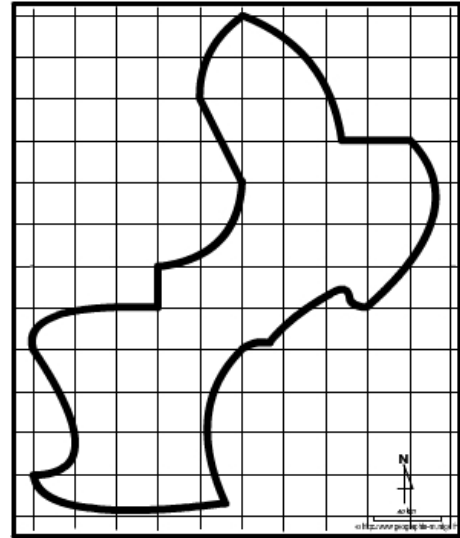


10) Mais la région Languedoc-Roussillon dispose aussi de nombreux aéroports. Bien qu'ils ne soient pas de très grandes capacités (comme Béziers par exemple), ils permettent néanmoins à la région une ouverture sur l'extérieur. Comment allez-vous les représenter ?

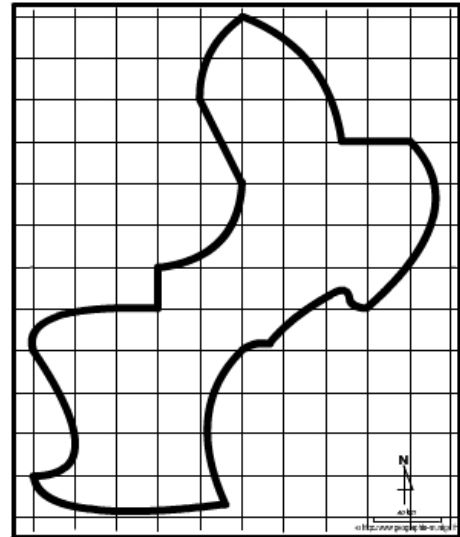


c) ...et d'un important contraste littoral / intérieur

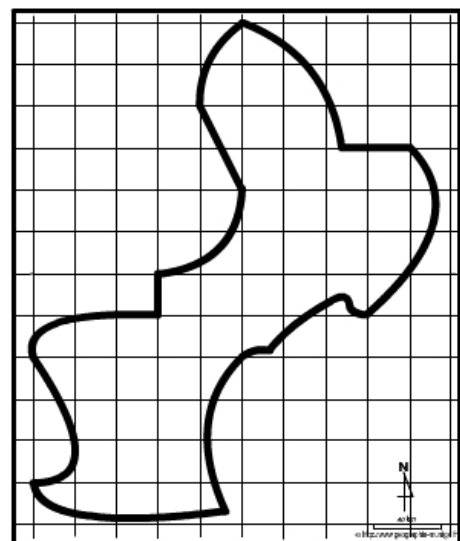
11) La région Languedoc-Roussillon qui s'articule autour d'un axe structurant qui peut apparaître comme un axe de transit, affiche un fort contraste littoral/intérieur. Comment allez-vous représenter l'espace littoral fortement urbanisé ?



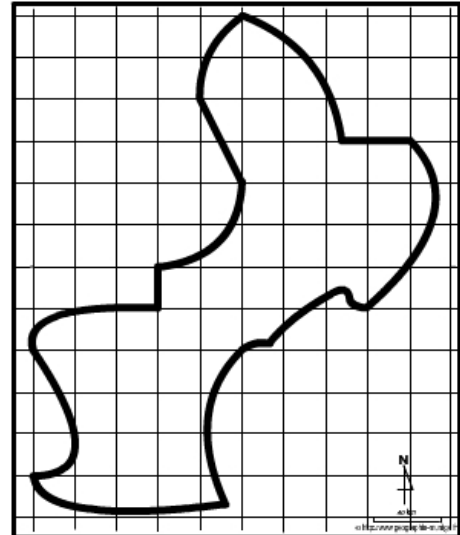
12) A l'arrière de cet espace littoral fortement urbanisé s'étend un espace à dominante agricole mais qui est en reconversion. Comment allez-vous le représenter ?



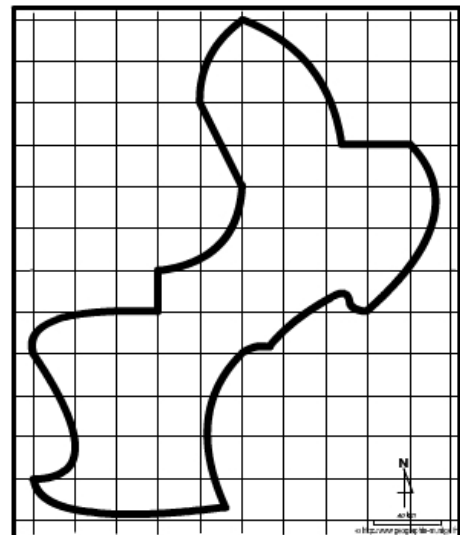
13) Et nous avons sur toute la partie arrière de la région Languedoc-Roussillon, un vaste espace montagnard peu peuplé en retrait mais avec un tourisme toutefois diffus. Comment allez-vous le représenter ?



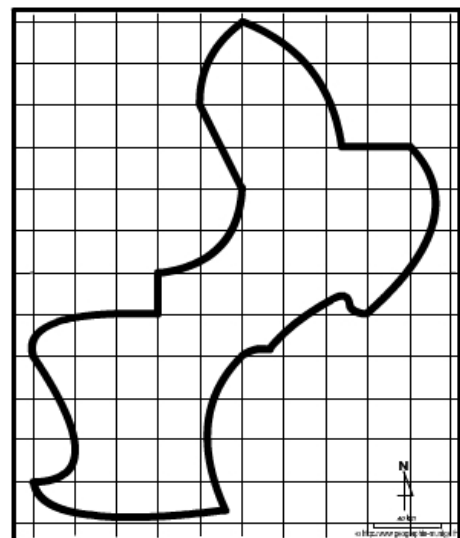
14) Enfin, la région Languedoc-Roussillon est surtout connue pour son littoral balnéaire aménagé. Comment allez-vous le représenter ?



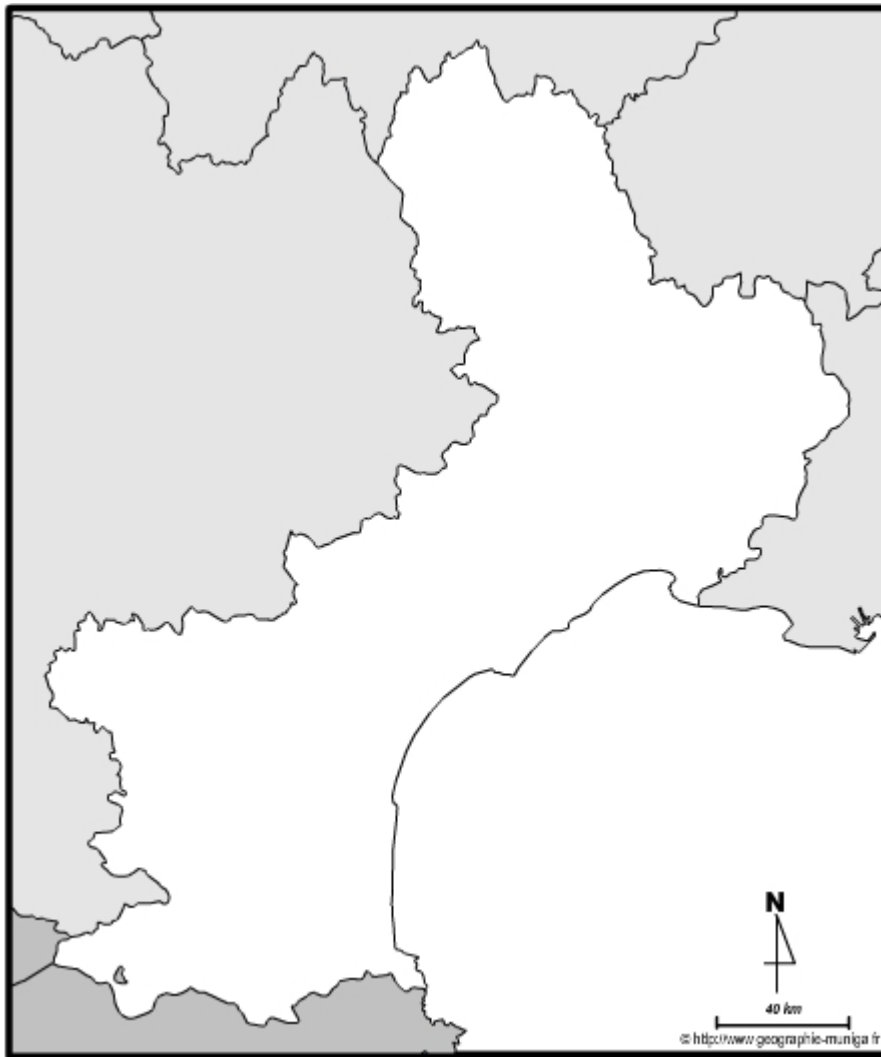
15) Mais l'activité touristique ne se résume pas seulement au littoral balnéaire aménagé, la région dispose aussi de hauts lieux touristiques comme les arènes ou le pont du Gard par exemple. Comment allez-vous les représenter ?



16) Et pour finir il est important de représenter la chaîne pyrénéenne qui constitue une barrière, fermeture pour la région Languedoc-Roussillon. Comment allez-vous la représenter ?



L'organisation de l'espace de la région Languedoc-Roussillon



LEGENDE