

Croquis

L'organisation de l'espace de la région Bretagne

Ce croquis répond aux exigences des directives de l'inspection générale puisque l'étude de l'organisation spatiale de la région dans laquelle se trouve le lycée de l'élève est obligatoirement au programme.

Dès lors, pour produire un croquis de l'organisation de cet espace, il faut en dégager les points forts afin de les mettre en valeur graphiquement à savoir : cette région qui a une forte dominante du secteur primaire et sous-industrialisation caractérisée, est dans une dépendance économique vis-à-vis de la capitale. Malgré cela, la Bretagne est la 1^{ère} région française pour la pêche et la 2^{ème} région touristique. Toute la difficulté de ce croquis réside dans son « montage ». Il ne s'agit pas de jeter sur le papier tous les éléments structurants et les espaces différenciés qui en découlent, il faut construire un graphisme qui visuellement puisse traduire :

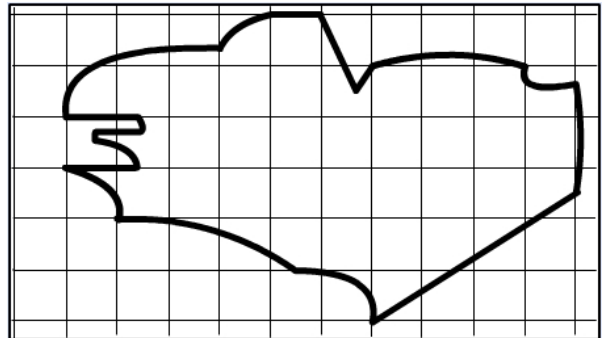
- L'armature urbaine avec sa distribution littorale et la rivalité Rennes/Brest
- L'organisation des réseaux de communications qui souligne que la Bretagne est encore périphérique
- Le contraste littoral / intérieur
- La diversité des espaces

C'est ce que nous allons vous proposer avec cette méthodologie complète, pas à pas, d'après le plan suivant :

- 1) Un espace encore périphérique
- 2) Des pôles urbains et des réseaux traduisant un fort contraste littoral / intérieur
- 3) Des espaces régionaux d'une grande diversité

A) Un espace encore périphérique

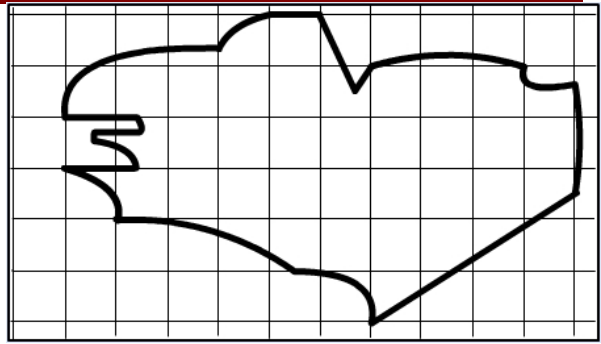
1) Aujourd'hui, la Bretagne est encore un espace largement en périphérie. Les grands axes de communications nationaux frôlent simplement l'est de la région. Comment allez-vous les représenter ?



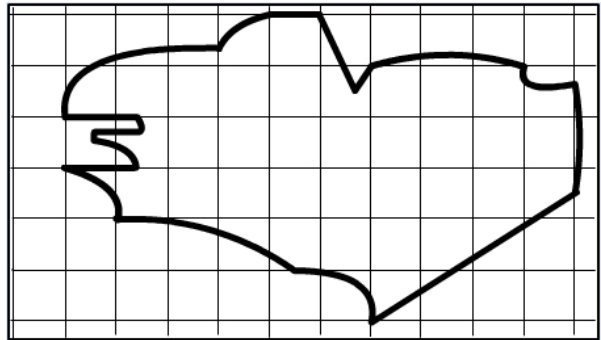
2) La Bretagne n'est pas seulement en périphérie des grands axes de communications terrestres, elle l'est aussi par rapport aux grandes routes maritimes mondiales alors qu'elle baigne toute entière dans l'océan. . Comment allez-vous les représenter ?



3) La Bretagne est par ailleurs amputée de Nantes, capitale historique. De fait la limite sud-est de la région est contestée et en débat. Comment allez-vous représenter cette particularité ?

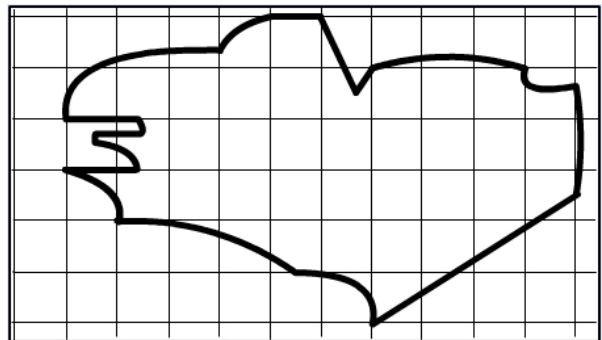


4) La Bretagne, espace périphérique, est sous l'influence de Paris d'une part et de Nantes d'autre part. Comment allez-vous représenter ces influences ?

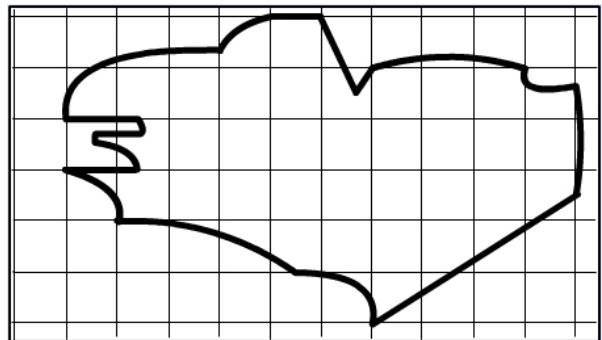


B) Des pôles urbains et des réseaux traduisant un fort contraste littoral / intérieur

5) Les pôles et les réseaux urbains traduisent en Bretagne, un fort contraste entre le littoral et l'intérieur. Mais il y a aussi deux métropoles en rivalité l'une à l'extrême est et l'autre à l'extrême ouest : Rennes et Brest. Comment allez-vous les représenter ?



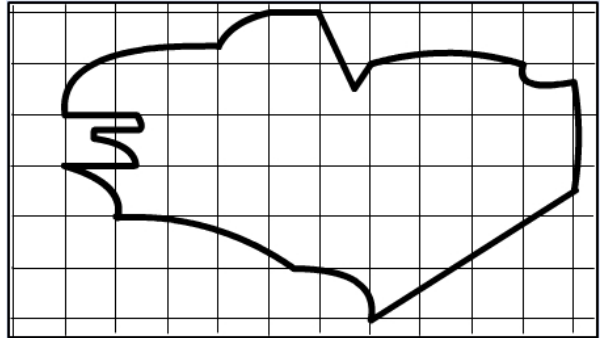
6) La distribution des pôles urbains importants en Bretagne est elle aussi périphérique. Comment allez-vous représenter les autres pôles urbains importants ?



7) Hormis les grands axes de communications (terrestre et maritime) que vous avez représentés, la Bretagne est dotée d'autres axes de communications importants. Comment allez-vous les représenter ?




8) La Bretagne est une région agricole qui a su développer son modèle agricole avec ses Industries Agro-Alimentaires (IAA). Comment allez-vous représenter les sièges des IAA ?




C) Des espaces régionaux d'une grande diversité

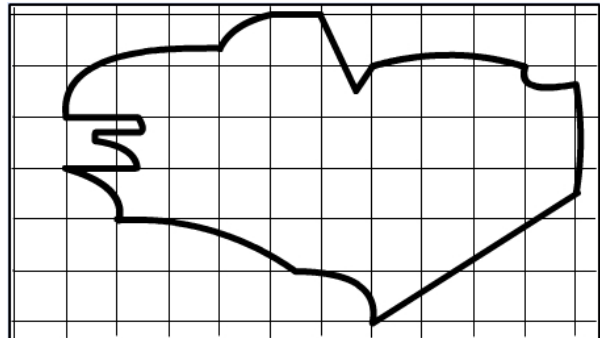
9) Si le modèle agricole breton a su s'imposer en Bretagne, il n'en demeure pas moins que les productions varient de fort à faible. Comment allez-vous représenter les zones de fortes productions ?



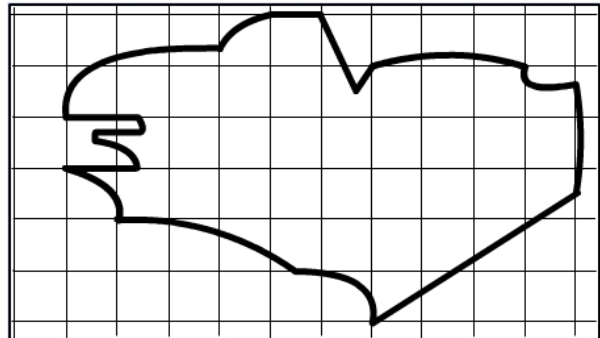
10) Après avoir situé les zones d'exploitations à fortes productions, nous devons situer celles à moyennes productions. Comment allez-vous les représenter ?



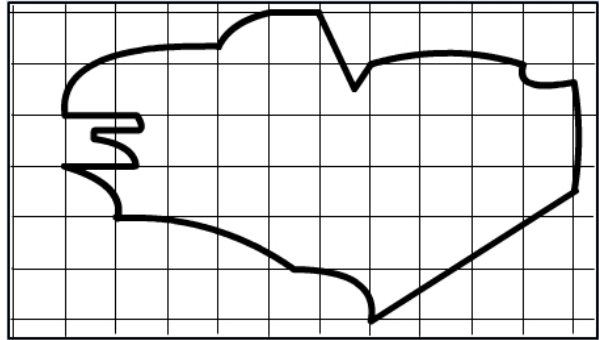
11) Enfin, après avoir situé les zones d'exploitations à fortes et moyennes productions, nous devons situer celles à faibles productions. Comment allez-vous les représenter ?




12) Mais la Bretagne baigne dans l'océan et a, à ce titre, de nombreuses activités littorales comme le tourisme. Comment allez-vous représenter le littoral touristique ?



13) La Bretagne qui s'avance dans l'océan a également développé la pêche et a, à ce titre, d'importants ports de pêche. Comment allez-vous les représenter ?



14) Bien que la Bretagne n'ait pas de très grand port de commerce, elle en a tout de même trois qui sont spécialisés dans le commerce. Comment allez-vous les représenter ?



15) Depuis le « rééquilibrage » du territoire français, la Bretagne a profité d'un plan d'industrialisation. Nous avons ainsi, des pôles industriels sur tout son territoire. Comment allez-vous représenter les plus importants ?



16) Nous venons de représenter les pôles industriels les plus importants. Mais, en Bretagne il y a aussi d'autres pôles industriels que l'on peut qualifier de secondaires. Comment allez-vous les représenter ?



17) Enfin, la Bretagne est dotée d'un technopôle important proche de Rennes, il nous appartient de le signaler. Comment allez-vous le représenter ?



L'organisation de l'espace de la région Bretagne

