

Croquis

Le bassin caraïbe : interface américaine, interface mondiale

Ce croquis répond aux exigences des directives de l'inspection générale puisque la question : l'Amérique : puissance du Nord, affirmation du Sud est obligatoire au programme. Et plus précisément, il est noté dans les programmes d'accompagnement que le bassin caraïbe : interface américaine, interface mondiale (étude de cas) peut donner lieu à la réalisation d'un croquis pour les épreuves du Bac. Il est même précisé que c'est la situation d'interface.

Dès lors, pour produire un croquis traitant de cette situation d'interface américaine et mondiale il faut en dégager les points forts afin de les mettre en valeur graphiquement.

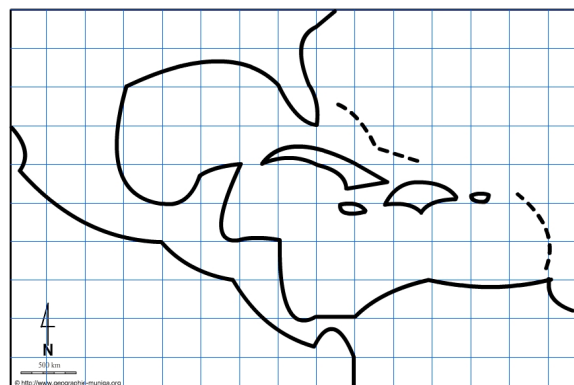
Toute la difficulté de ce croquis réside dans son « montage ». Il ne s'agit pas de jeter sur le papier tous les éléments relatifs à la situation d'interface américaine et mondiale. Il faut autant que faire se peut, faire apparaître une distinction entre les éléments relevant de la situation américaine de ceux relevant de la situation mondiale. C'est d'autant plus difficile qu'il s'agit d'interfaces donc de relations à représenter graphiquement. Le piège à éviter c'est l'entrelacement qui mène à la confusion. Il faudra donc un subtil mélange de hiérarchie de taille et de couleur pour rendre ce croquis lisible.

C'est ce que nous allons vous proposer avec cette méthodologie complète, pas à pas, d'après le plan classique suivant :

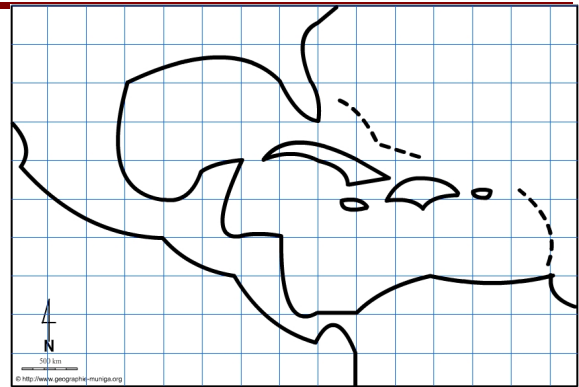
- 1) Le Bassin caraïbe, une interface américaine
- 2) Le Bassin caraïbe, une interface mondiale

A) Le Bassin caraïbe, une interface américaine

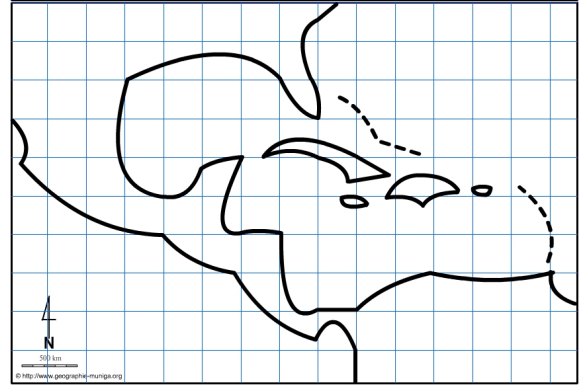
1) En Les éléments relatifs à la situation d'interface américaine sont nombreux. Débutons donc par la « Méditerranée américaine » prisée par les croisiéristes américains. Comment allez-vous la représenter ?



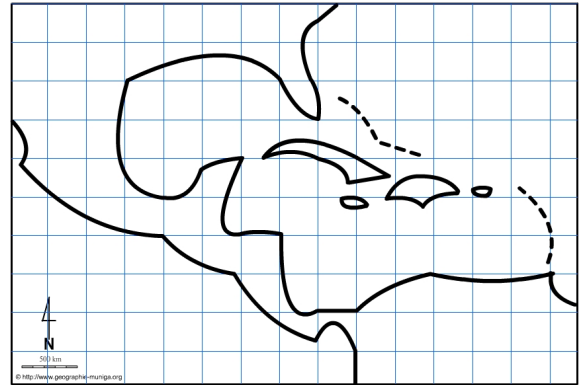
2) Le nord de ce Bassin caraïbe présente d'importantes interfaces portuaires. Comment allez-vous les représenter ?




3) Hormis ces importantes interfaces portuaires, nous avons aussi les principaux axes maritimes régionaux qui, reliant les principaux ports, soulignent la singularité de l'interface américaine du Bassin caraïbe. Comment allez-vous les représenter ?



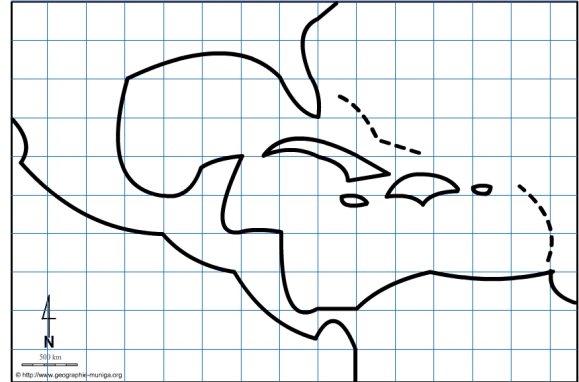
4) Dans le Bassin caraïbe, de nombreux pays se sont regroupés dans une association dite « des Etats de la Caraïbe » dont la vocation est de promouvoir la consultation, la coopération et l'action concertée de ces pays. Comment allez-vous les représenter ?



5) Une des particularités du Bassin caraïbe, est constituée par les mouvements migratoires en direction des États-Unis. Comment allez-vous les représenter ?



6) Une autre caractéristique du Bassin caraïbe c'est le contraste du niveau de développement des différents Etat. L'IDH permet de l'identifier. Comment allez-vous représenter le pays à l'IDH le plus important ?



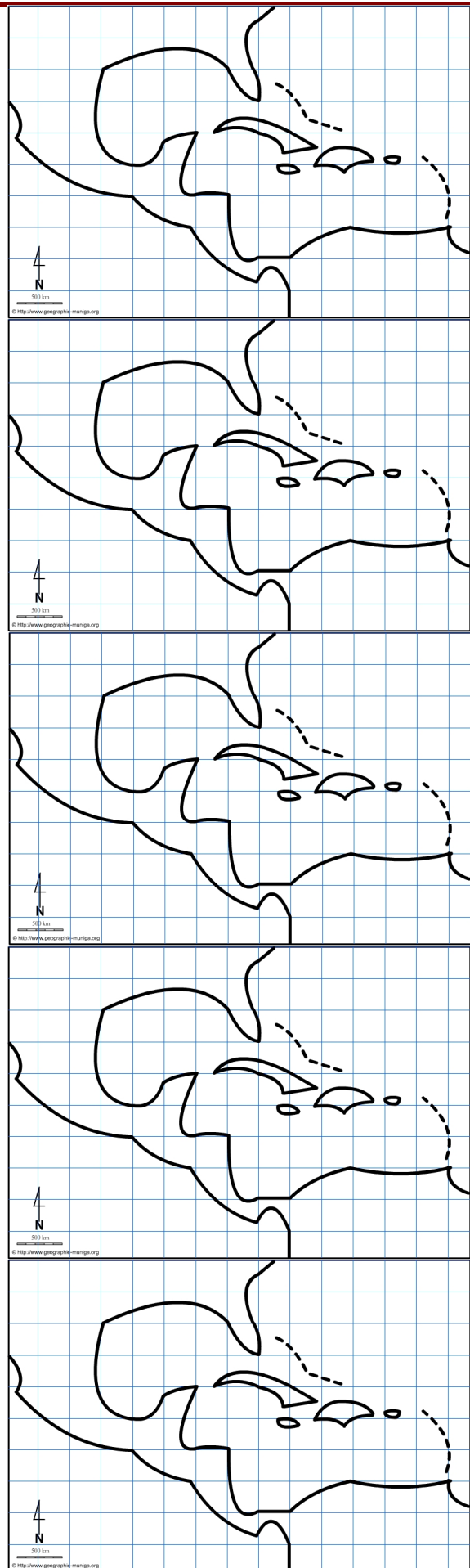
7) Pour poursuivre la hiérarchisation du niveau de développement des Etats du Bassin caraïbe, nous devons passer aux Etats à l'IDH moyen. Comment allez-vous les représenter ?

8) Et, nous avons aussi des Etats à l'IDH faible parmi les pays du Bassin caraïbe. Comment allez-vous les représenter ?

9) Enfin, nous avons un Etat à l'IDH très faible parmi les pays du Bassin caraïbe du type des PMA (pays les moins avancés). Comment allez-vous le représenter ?

10) Mais le contraste est également flagrant au niveau des métropoles les plus importantes du Bassin caraïbe. Celles situées au nord l'emportent sur celles du sud. Comment allez-vous représenter les principales métropoles du nord et du sud ?

11) Et, il existe dans cet espace du Bassin caraïbe un point de tension qui porte le nom de Cuba parce que ce pays est officiellement sous embargo des Etats-Unis. Comment allez-vous le représenter ?



B) **Le Bassin caraïbe, une interface mondiale**

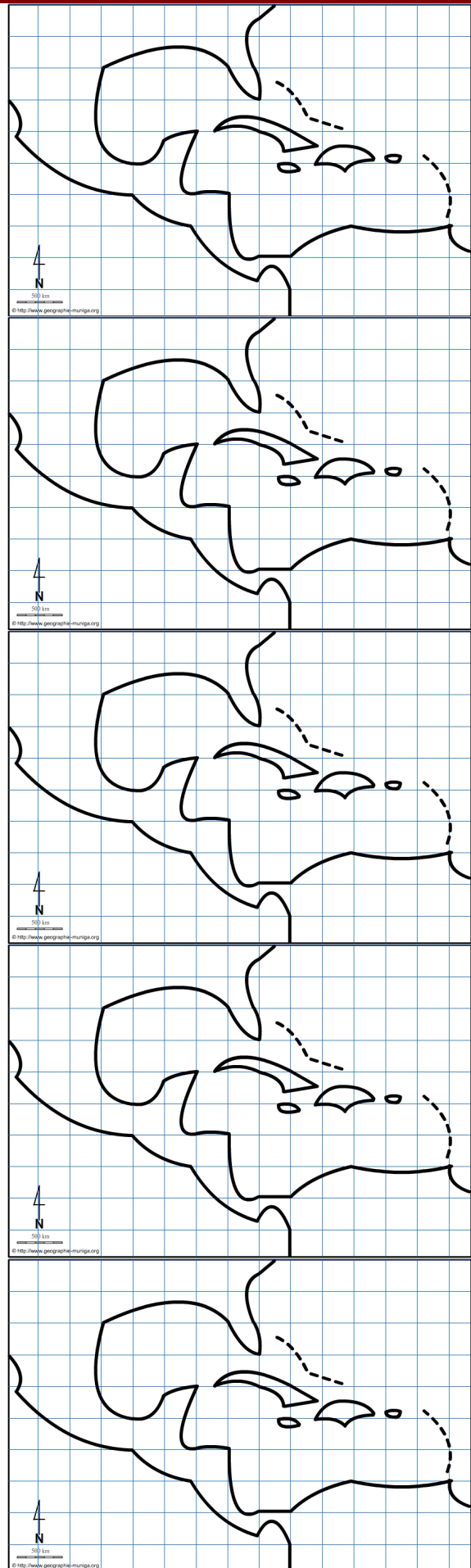
12) Mais le Bassin caraïbe est aussi une interface mondiale. Sa manifestation la plus connue est le canal de Panama. Comment allez-vous le représenter ?

13) Le Bassin caraïbe, grâce notamment au canal de Panama, est traversé par d'importants axes maritimes d'ampleur mondiale. Comment allez-vous les représenter ?

14) Le Bassin caraïbe est aussi une aire attractive, notamment grâce à ses aires de tourisme mondial. Comment allez-vous les représenter ?

15) Et le Bassin caraïbe est par ailleurs un espace où se concentrent de nombreux paradis fiscaux. Comment allez-vous les représenter ?

16) Enfin, une particularité du Bassin caraïbe réside dans le fait que plusieurs petites îles sont en fait des régions ultrapériphériques de l'U.E. ce qui engendre des migrations. Comment allez-vous représenter ces migrations ?



Le bassin caraïbe : interface américaine, interface mondiale



LEGENDE