

Croquis

L'organisation du territoire de l'Afrique du Sud

Ce croquis répond aux exigences des directives de l'inspection générale puisque la question : l'Afrique : les défis du développement est obligatoire au programme. Et plus précisément, pour sa mise en œuvre, le programme prévoit l'étude de l'Afrique du Sud qui peut donner lieu à la réalisation d'un croquis pour les épreuves du Bac.

Bien que les directives précisent que le sujet pourrait être : « l'Afrique du Sud : les espaces inégalement développés d'un pays émergent », il nous a paru utile de présenter ce croquis qui, tout en étant proche, pourra aussi servir à la réalisation de schémas à introduire dans les compositions ou les exercices d'étude critique de document. Nous consacrons cependant un croquis spécifique au sujet préconisé sur le même site.


Pour le présent croquis intitulé : l'organisation du territoire de l'Afrique du Sud, il s'agit d'un classique. Il nous faudra faire ressortir l'organisation en utilisant notamment la hiérarchie des couleurs pour marquer la hiérarchie des territoires, mais aussi la hiérarchie des tailles pour les figurés ponctuels.

C'est ce que nous allons vous proposer avec cette méthodologie complète, pas à pas, d'après le plan suivant :


- 1) Un territoire contrasté...
- 2) ...avec des ressources abondantes,
- 3) ...et une puissance régionale insérée dans la mondialisation

A) Un territoire contrasté...


1) L'Afrique du Sud, pays émergent présente un territoire contrasté avec des régions très actives qui dominent des périphéries. Comment allez-vous représenter les régions industrielles les plus actives ?




2) Les régions industrielles véritable cœur de l'Afrique du Sud, sont entourées de périphéries dites « intégrées ». Comment allez-vous représenter ces périphéries intégrées ?




3) Et nous avons par ailleurs, en Afrique du Sud, des périphéries qui restent en marge du développement. Comment allez-vous représenter ces périphéries en marge ?



4) En Afrique du Sud, nous observons également un contraste dans la répartition spatiale des métropoles. Nous avons tout d'abord la bicéphalie Pretoria-Johannesburg. Comment allez-vous la représenter ?




5) A côté de la bicéphalie Pretoria-Johannesburg coexistent d'autres métropoles importantes. Comment allez-vous les représenter ?




B) ...avec des ressources abondantes,


6) Pourtant, l'Afrique du Sud est un pays aux nombreuses ressources. Il dispose par exemple d'importants gisements de diamants, d'or, de minerais. Comment allez-vous les représenter ?




7) Parmi les nombreuses ressources figurent aussi en bonne place les parcs nationaux même si les plus importants sont à cheval sur plusieurs pays. Comment allez-vous les représenter ?



8) L'agriculture d'exportation compte également parmi les nombreuses ressources de l'Afrique du Sud. Comment allez-vous représenter les vastes espaces d'agriculture d'exportation ?




9) Et nous avons enfin, un tourisme balnéaire qui se développe sur les littoraux de l'Afrique du Sud et qui constitue à n'en pas douter une ressource. Comment allez-vous le représenter ?




**c) ...et une puissance régionale
insérée dans la mondialisation**


10) Mais l'Afrique du Sud est aussi une puissance régionale insérée dans la mondialisation. Ses littoraux dynamiques et ses interfaces portuaires y contribuent. Comment allez-vous les représenter ?



11) Les pays limitrophes de l'Afrique du Sud sont très intégrés à l'économie sud-africaine. Comment allez-vous représenter cette forme de rayonnement de l'Afrique du Sud ?



12) L'intégration des pays limitrophes à l'économie sud-africaine engendre inéluctablement des flux migratoires vers l'Afrique du Sud, puissance régionale. Comment allez-vous représenter ces flux migratoires ?



L'organisation du territoire de l'Afrique du Sud



LEGENDE