

Croquis

L'organisation du territoire français dans la dynamique de la mondialisation

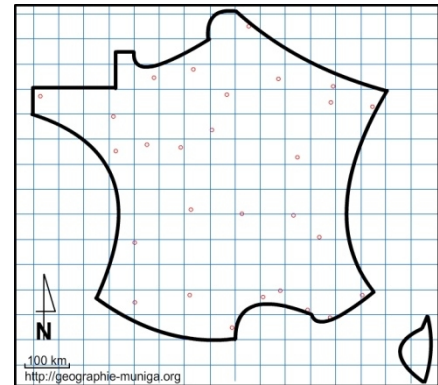
C'est un sujet très classique. L'organisation d'un territoire, ici la France, relève des métropoles et des axes qui structurent l'espace ainsi que des éléments (aéroports internationaux...) qui s'inscrivent dans la mondialisation. De ces éléments qu'il faudra faire apparaître avec des figurés adaptés, découlent différents espaces plus ou moins dynamiques qui recevront un figuré servant de fond. Que devez-vous donc dessiner ? Il faudra des figurés adaptés pour les métropoles et autres moteurs du dynamisme. Il y aura aussi des couleurs de fond qui devront hiérarchiser les différents espaces qui en résultent. Les tons et les couleurs devront en rendre compte. Il ne faudra pas succomber à la méthode « arlequin ».

Prenons donc le plan suivant :

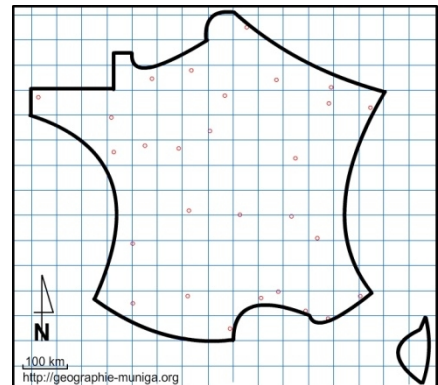
1. Les métropoles, moteurs du dynamisme
2. Contrastes et dynamiques spatiales du territoire
3. Un territoire ouvert sur le monde

A) Les métropoles, moteurs du dynamisme

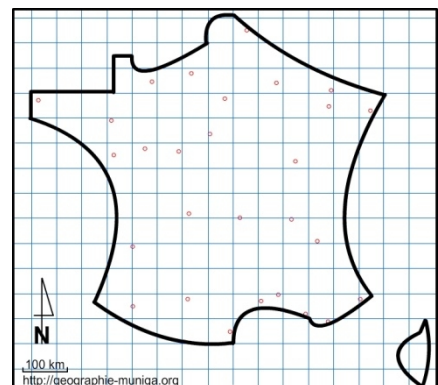
a) « Paris et le désert français » écrivait J-F Gravier en 1947 déjà. Aujourd'hui, Paris, ville mondiale domine largement le territoire français. Comment allez-vous la représenter ?



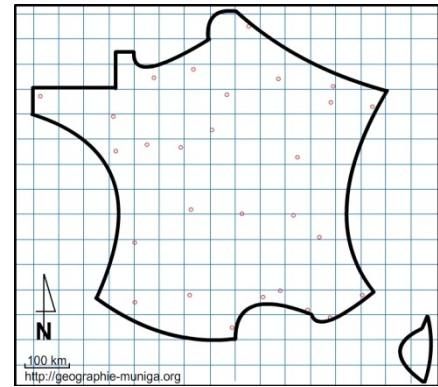
b) En dehors de Paris, ville mondiale, seule la ville de Lyon est une métropole avec des fonctions internationales importantes. Comment allez-vous la représenter ?



c) Le territoire français comprend de nombreuses métropoles plus ou moins importantes qui participent à son organisation. Comment allez-vous représenter les plus importantes ?

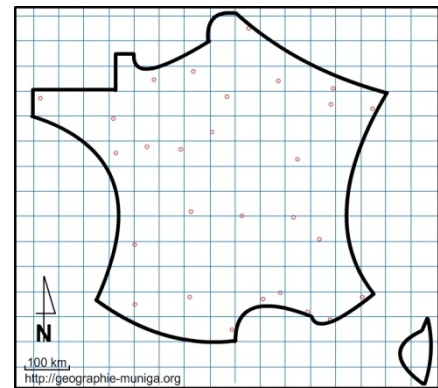


d) Des technopôles, véritables territoires de l'innovation ont été implantés à proximité de certaines métropoles françaises. Elles renforcent le dynamisme des métropoles. Comment allez-vous les représenter ?

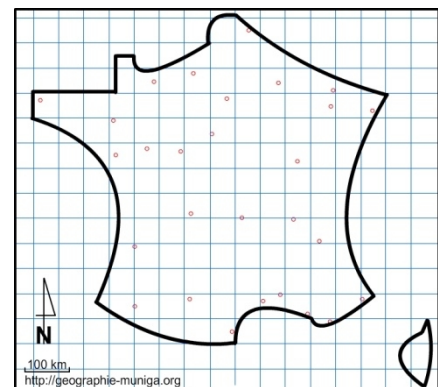


B) Contrastes et dynamiques spatiales du territoire

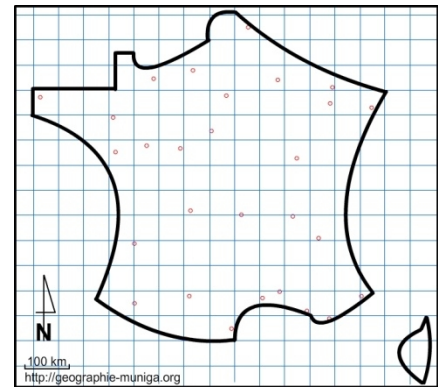
e) Nous l'avons déjà vu, Paris domine très largement l'espace français. Son rayonnement dépasse les frontières de sa seule commune. Comment allez-vous représenter ce « cœur », cet espace central ?



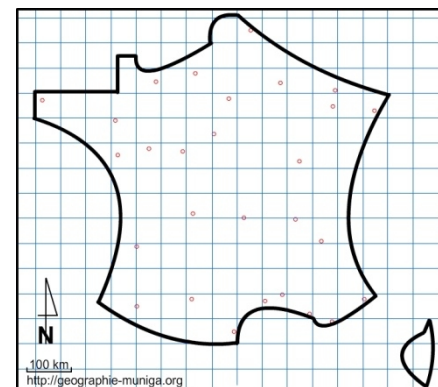
f) Nonobstant la prééminence de Paris et de son rayonnement, une périphérie dynamique s'est au fil des ans imposée non sans le concours des pouvoirs publics. Comment allez-vous représenter cette périphérie ?



g) La France possède également de nombreux espaces à dominante rurale qui sont souvent en déprise. C'est la « fameuse » diagonale du vide décrite dans de nombreux manuels. Comment allez-vous représenter cet espace ?

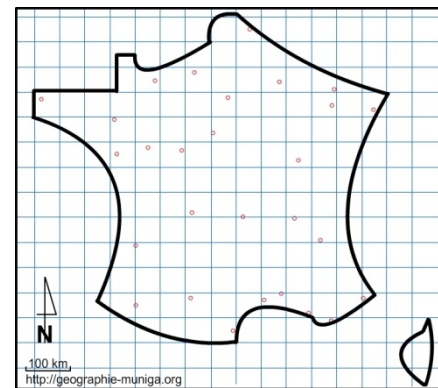


h) La France du Nord et de l'Est, jadis réputées pour leurs industries, ont connu la crise. Aujourd'hui, grâce au concours des pouvoirs publics, ces territoires ont entamé une reconversion. Comment allez-vous représenter ces espaces ?

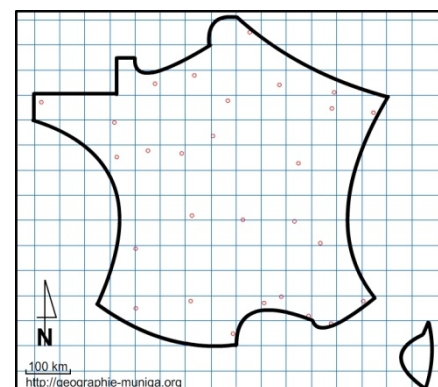


c) Un territoire ouvert sur le monde

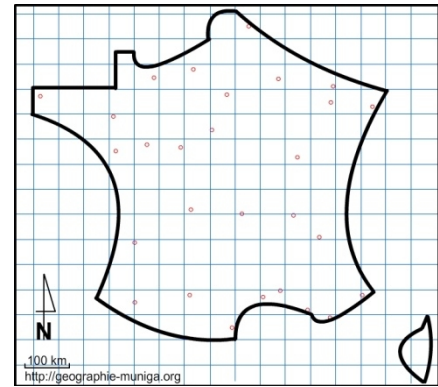
i) L'organisation du territoire relève en grande partie de la densité et de la distribution spatiale de ses axes de communications. Comment allez-vous représenter l'axe majeur Nord/Sud ?



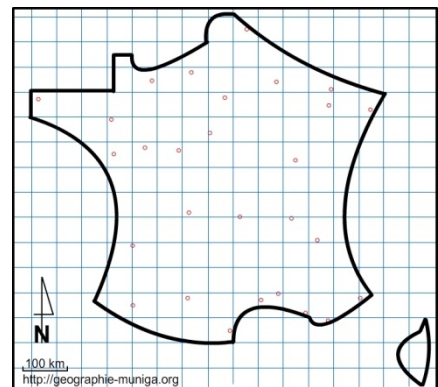
j) Outre l'Axe majeur Nord/Sud, la France compte d'autres axes importants qui maillent son territoire et qui contribuent ainsi à son organisation. Comment allez-vous les représenter ?



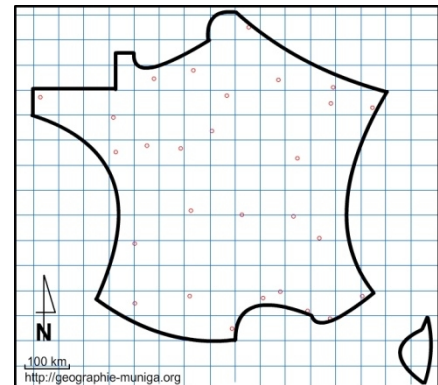
k) Grâce à ses grandes façades maritimes, La France possède quelques grands ports qui, avec leurs échanges assurent une ouverture sur le monde. Comment allez-vous représenter ces échanges maritimes ?



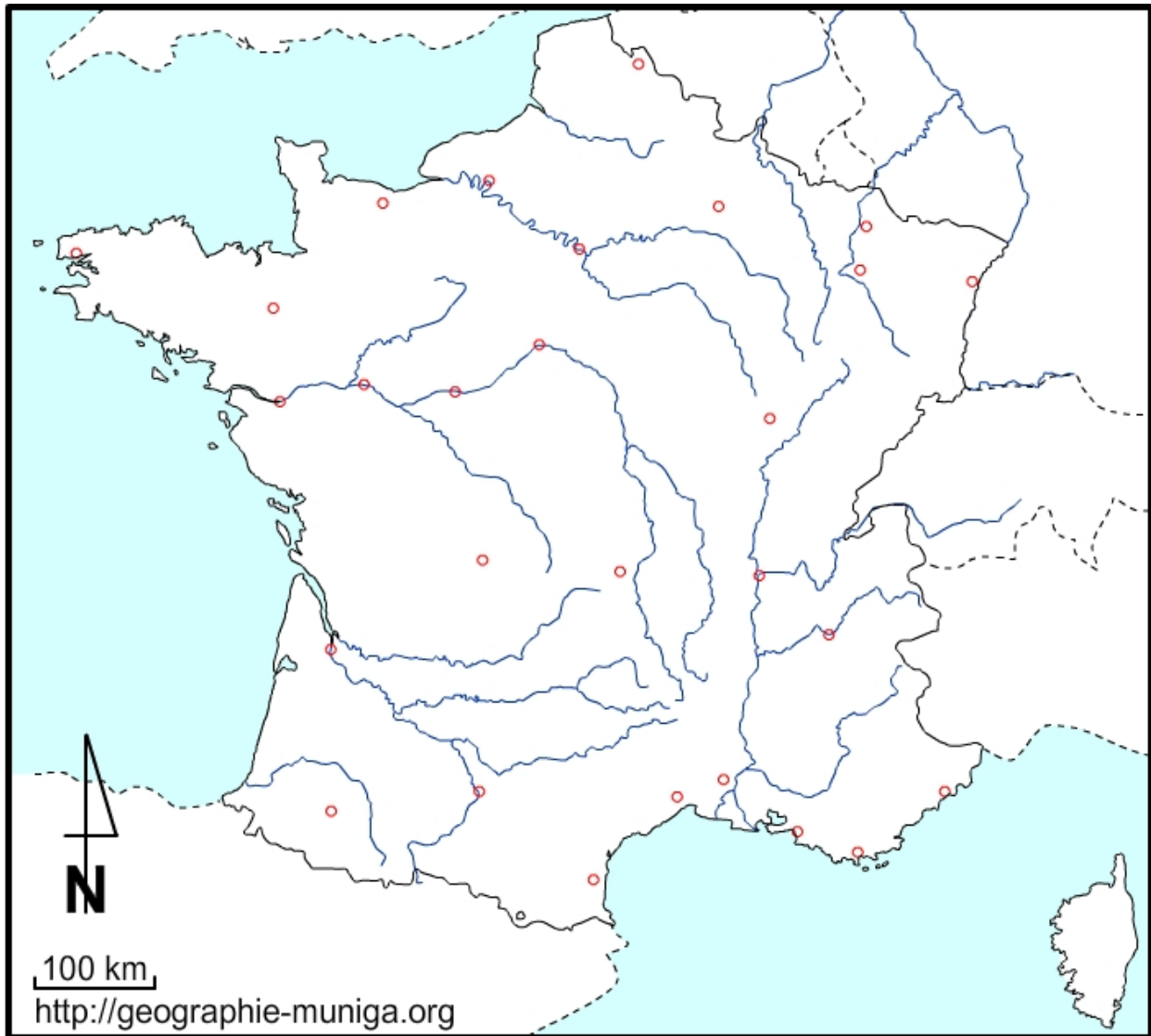
l) Mais la France possède, grand pays industriel possède aussi quelques grands aéroports qui, avec leurs échanges assurent une ouverture sur le monde. Comment allez-vous représenter ces aéroports ?



m) La France reçoit par ailleurs des investissements étrangers qui s'inscrivent dans la dynamique de la mondialisation. Comment allez-vous représenter ces apports d'investissements ?



L'organisation du territoire français dans la dynamique de la mondialisation



LEGENDE