

Croquis

L'organisation de l'espace de la région Provence Alpes Côte d'Azur

Ce croquis répond aux exigences des directives de l'inspection générale puisque l'étude de l'organisation spatiale de la région dans laquelle se trouve le lycée de l'élève est obligatoirement au programme.

Dès lors, pour produire un croquis de l'organisation de cet espace, il faut en dégager les points forts afin de les mettre en valeur graphiquement à savoir : cette région dispose d'une attractivité certaine. Son littoral saturé s'oppose à la Provence intérieure, enclavée et sujette à la déprise démographique. Malgré l'implantation de plusieurs technopôles, cette région reste sous-industrialisée. Le secteur tertiaire domine notamment grâce au tourisme. Le réseau urbain est caractérisé par la concurrence de deux métropoles : Marseille et Nice.

Toute la difficulté de ce croquis réside dans son « montage ». Il ne s'agit pas de jeter sur le papier tous les éléments structurants et les espaces différenciés qui en découlent, il faut construire un graphisme qui visuellement puisse traduire :

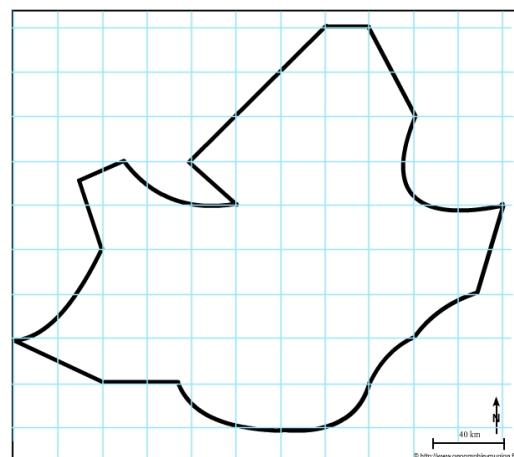
- L'armature urbaine
- L'organisation des réseaux de communications
- Le contraste littoral / intérieur
- La diversité des espaces

C'est ce que nous allons vous proposer avec cette méthodologie complète, pas à pas, d'après le plan suivant :

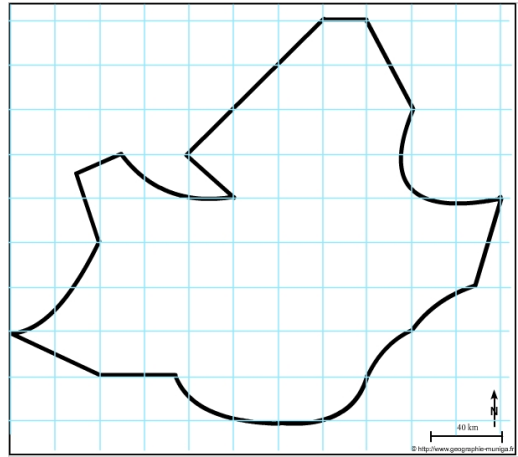
- 1) Une région fortement urbanisée sur le littoral
- 2) Une région intégrée dans l'espace national, européen et mondial
- 3) Un important contraste littoral / intérieur

A) Une région fortement urbanisée sur le littoral

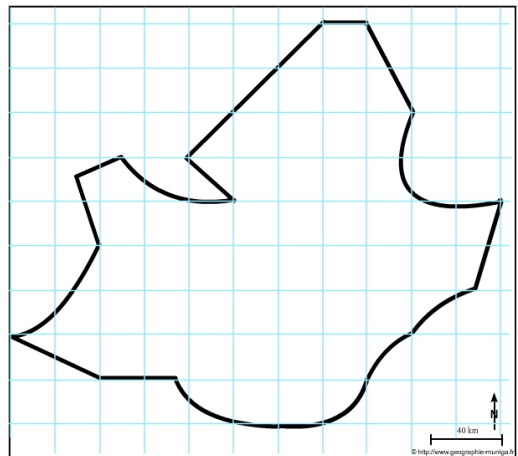
1) Dans la région PACA le réseau urbain constitue un chapelet sous forme d'arc. En son sein, deux métropoles sont en concurrence : Marseille et Nice. Comment allez-vous les représenter ?



2) Nous l'avons évoqué, le réseau urbain constitue un chapelet sous forme d'arc d'Avignon à la frontière italienne en longeant la côte. Comment allez-vous le représenter ?

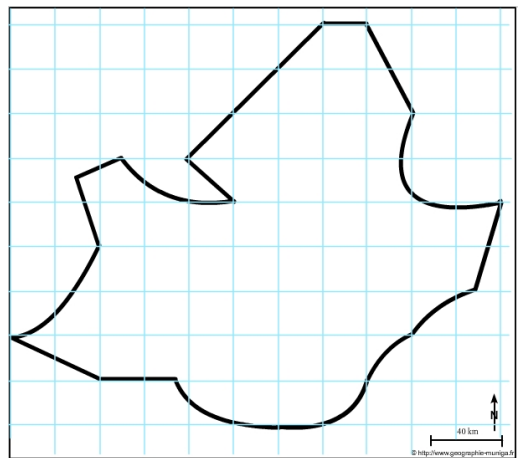


3) La région PACA est caractérisée par trois grandes aires urbaines saturées : autour d'Avignon, de Marseille-Toulon et de Nice. Comment allez-vous les représenter ?

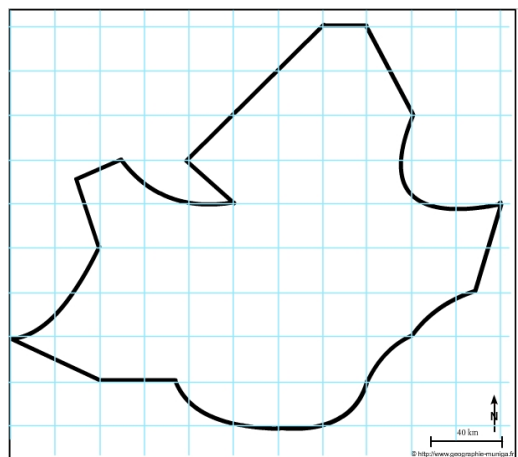


B) Une région intégrée dans l'espace national, européen et mondial

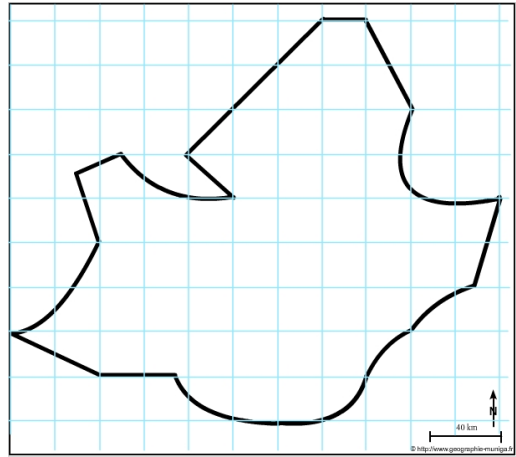
4) La région PACA n'est pas traversée par un grand axe national et européen. Cet axe important se situe à l'est de la région mais est déterminant car c'est sur lui que viennent se greffer tous les axes importants. Il mérite cependant d'être représenté. Comment ?



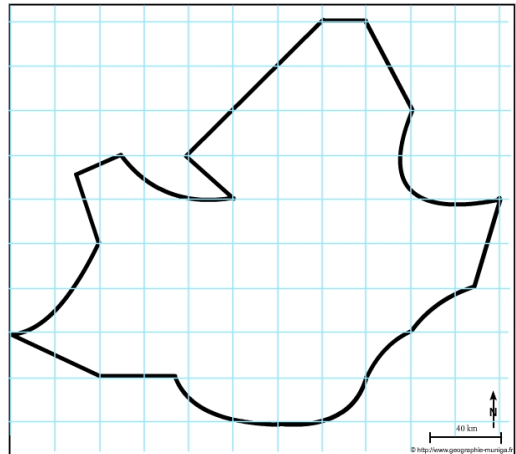
5) En PACA, les réseaux de communications importants relient les principales villes et épousent de fait le chapelet urbain avant de « s'arrimer » au grand axe national et européen. Comment allez-vous les représenter ?



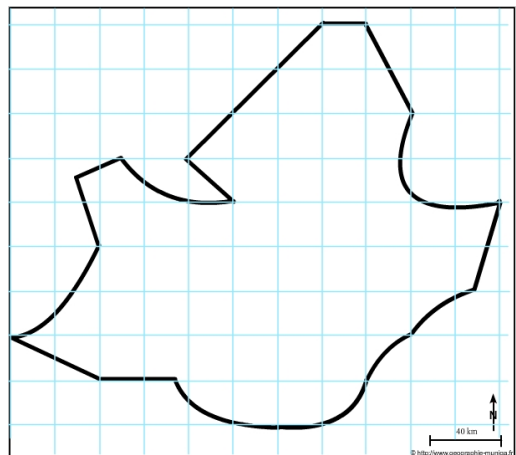
6) La région PACA dispose par ailleurs de plusieurs aéroports. Nous n'allons cependant retenir que les deux plus importants : Nice et Marseille-Provence. Comment allez-vous les représenter ?



7) Le port de Fos-Marseille, 1er port français, génère de nombreux échanges maritimes et participe ainsi à l'ouverture de la région sur le monde. Comment allez-vous représenter les flux ?

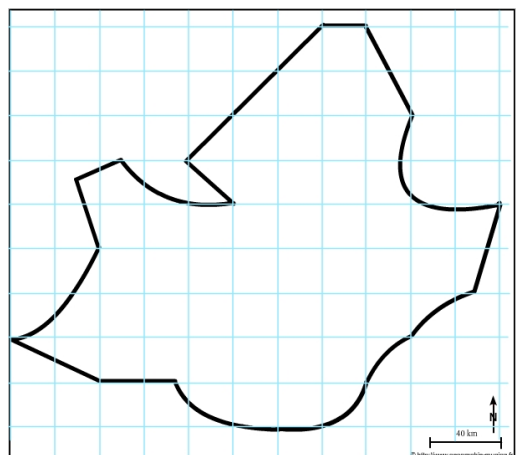


8) La région PACA est une région à forte attractivité. Les nombreux flux externes (migratoires, touristiques, commerciaux) en témoignent. Comment allez-vous représenter ces flux ?

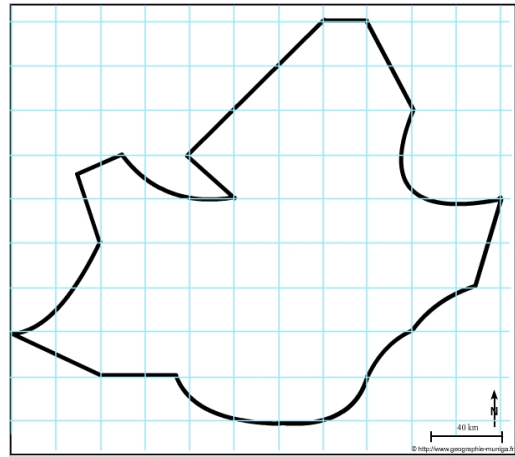


C) Un important contraste littoral / intérieur

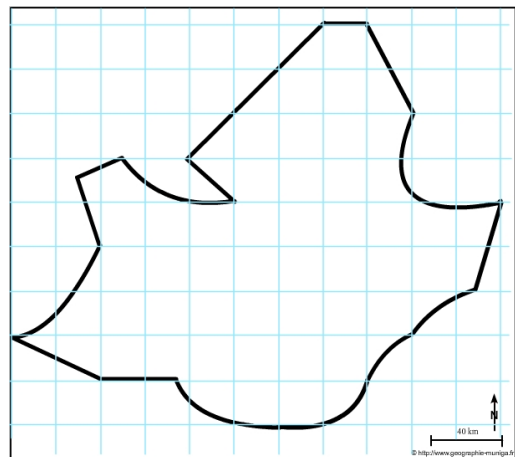
9) Dans l'imaginaire des populations, la région PACA c'est avant tout « la côte », St-Tropez, Cannes etc.. La réalité rejoint cet imaginaire. Le poids du littoral touristique est très important. Comment allez-vous le représenter ?



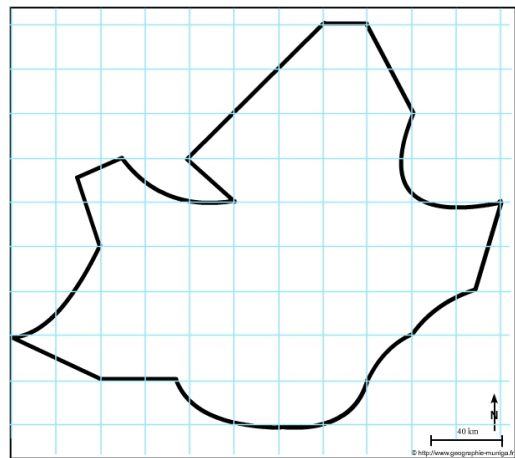
10) Bien que la zone industrialo-portuaire de Marseille-Fos soit en difficulté face au dynamisme de Rotterdam, Anvers ou Gênes, il n'en demeure pas moins que Marseille-Fos est le 1er port français et méditerranéen. Comment allez-vous le représenter ?



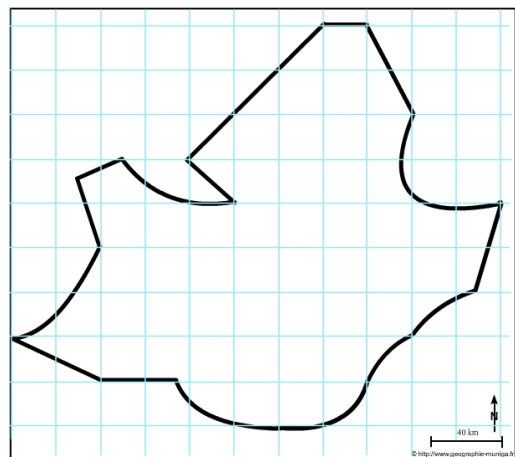
11) La région PACA, profitant d'un climat méditerranéen a su attirer des technopôles malgré la faiblesse de son tissu industriel. Comment allez-vous les représenter ?



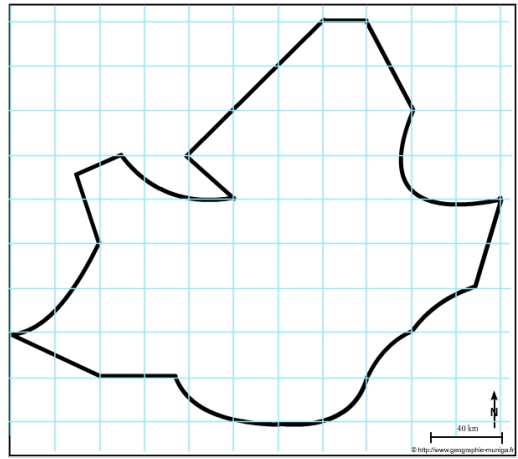
12) Hormis le littoral saturé, la région PACA décline plusieurs espaces différenciés à fondement rural. Nous avons tout d'abord l'espace d'agriculture intensive mais qui est soumis à une forte pression urbaine. Comment allez-vous la représenter ?



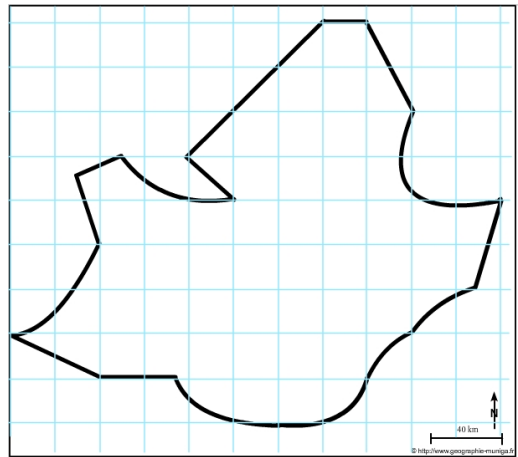
13) Et, nous avons par ailleurs une bonne partie de la Provence et du Var occupée, à l'arrière du littoral, par une agriculture fragilisée, de surcroît en proie au tourisme. Comment allez-vous la représenter ?



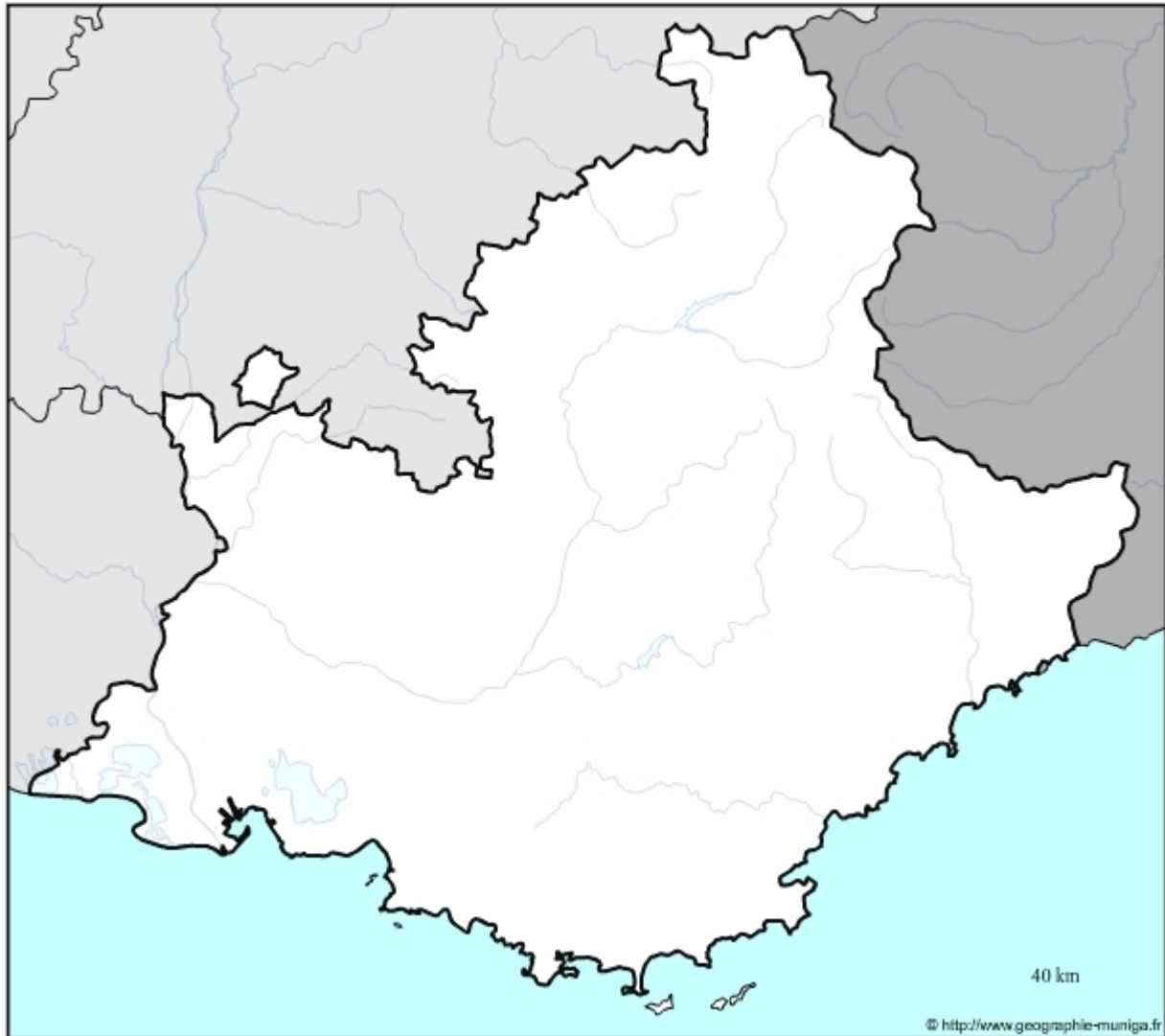
14) Enfin, nous avons l'arrière pays alpin et préalpin qui apparaît davantage comme une montagne en déprise. Comment allez-vous la représenter ?



15) Et pour finir, il faut signaler la fermeture que constitue la barrière montagneuse au nord-est de la région PACA. Comment allez-vous la représenter ?



L'organisation de l'espace de la région Provence Alpes Côte d'Azur



LEGENDE