

# Croquis- version collègue

## L'organisation du territoire chinois

Ce croquis doit vous permettre de traduire par le graphisme l'organisation du territoire chinois, en insistant sur l'inégale intégration à la mondialisation des différents espaces qui composent ce pays émergent.

Pour cela il faut (à l'aide du *Carto\_Flash Chine*):

- identifier les contrastes de développement en s'appuyant sur les cartes du PIB, du revenu annuel, de l'investissement,
- identifier les espaces fortement industrialisés, moteurs du développement,
- identifier les principales zones portuaires d'exportation des produits chinois
- repérer les fortes densités humaines
- repérer les métropoles puissantes
- dégager les dynamiques de peuplement liées à l'exode rural
- identifier les principaux flux qui montrent l'émergence de la Chine

Avec le plan de légende suivant :

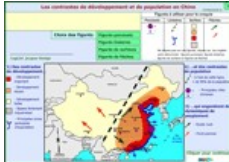
- 1) **Des espaces dynamiques intégrés à la mondialisation**
- 2) **Des espaces en marge de la mondialisation**
- 3) **Des flux qui montrent l'émergence de la Chine**

### Pour bien réussir il faut :

- Faire cet exercice en vous aidant du *Carto\_Flash\_SDLV\_Chine*



Vérifier vos différentes réponses sous forme de schémas avec ceux du corrigé



- Enfin après correction éventuelle, réaliser votre propre croquis à l'aide du *Munigraphie*.



### A) Des espaces dynamiques intégrés à la mondialisation

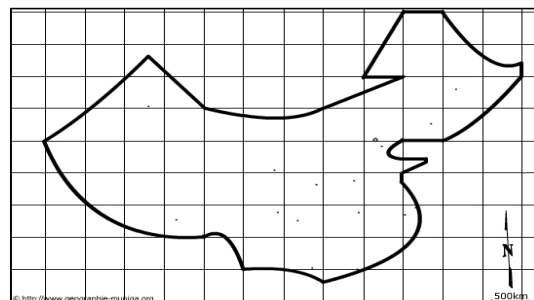
1) Les contrastes de développement que vous pouvez identifier sur les cartes du PIB, du Revenu annuel ou de l'Investissement (voir *Carto\_Flash CHINE*), vous permettent de dégager les régions à fort dynamisme intégrés à la mondialisation. Comment allez-vous les représenter ?

*Aide Carto\_Flash\_SDLV\_CHINE : (de préférence 3 paliers)*

*Catégories : Revenus / Carte : Revenus annuel/hbt*

*Catégories : PIB / Carte : PIB 2012*

*Catégories : Investissement / Carte : Investissement total 2012*




2) La Chine a souvent été qualifiée d'usine du monde. Ses nombreuses usines lui permettent d'assurer son développement et lui assure un dynamisme. Comment allez-vous représenter les régions intégrées à la mondialisation et fortement industrialisées ?

Aide Carto Flash SDLV CHINE :

Catégories : Emplois / Carte : % secteur secondaire

Catégories : Emplois / Carte : % emplois usines




3) En Chine, de nombreuses villes millionnaires concentrées sur le littoral renforcent les espaces dynamiques intégrés à la mondialisation. Comment allez-vous les représenter ?

Aide Carto Flash SDLV CHINE :

Catégories : Densités / Carte : Densités 2011

Couches / les villes importantes



4) La Chine s'est ouverte à l'économie de marché grâce à ses ports les plus importants. Ils constituent des lieux intégrés à la mondialisation par excellence. Comment allez-vous les représenter ?


Aide Carto Flash SDLV CHINE :

Catégories : Emplois/ Carte : transport stockage

Catégories : Transport(cercles) / Carte : Trafic marchandises

Couches / les ports

Couches / les flux d'exportation



## **B) Des espaces en marge de la mondialisation**


5) Mais la Chine compte également d'importantes régions à faible développement et à l'écart de la mondialisation. Avec les mêmes cartes que précédemment,(paliers 3) vous pouvez les identifier. Comment allez-vous les représenter ?

Aide Carto Flash SDLV CHINE : (de préférence 3 paliers)

Catégories : Revenus / Carte : Revenus annuel/hbt

Catégories : PIB / Carte : PIB 2012

Catégories : Investissement / Carte : Investissement total 2012



6) Le développement lié notamment à l'industrialisation de la Chine a engendré l'exode rural qui par son ampleur souligne les espaces en marge. Comment allez-vous représenter ce phénomène ?


Aide Carto Flash SDLV CHINE :

Catégories : Densités / Carte : Densités 2011

Catégories : Densités / Carte : Variation pop. Urbaine

Catégories : Densités / Carte : Variation pop. rurale

Couches / les villes importantes



### C) Des flux qui montrent l'émergence de la Chine

7) La Chine est un pays émergent. Certains flux le confirment comme par exemple les flux entrants et sortants d'IDE. Comment allez-vous les représenter ?

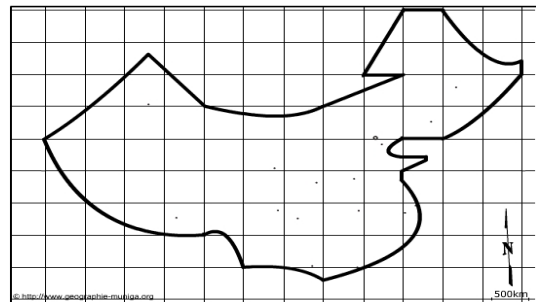
Aide Carto Flash SDLV CHINE :

Catégories : Emplois / Carte : % secteur secondaire

Catégories : Emplois / Carte : % secteur tertiaire

Catégories : Investissement / Carte : Investissement total 2012

Couches / les IDE entrants / sortants



8) Enfin, un indicateur important de l'émergence de la Chine est constitué par les flux d'exportation. Comment allez-vous les représenter ?

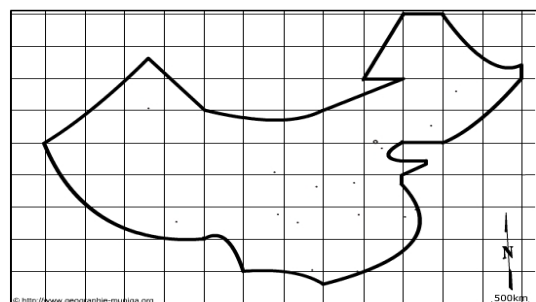
Aide Carto Flash SDLV CHINE :

Catégories : Emplois / Carte : transport stockage

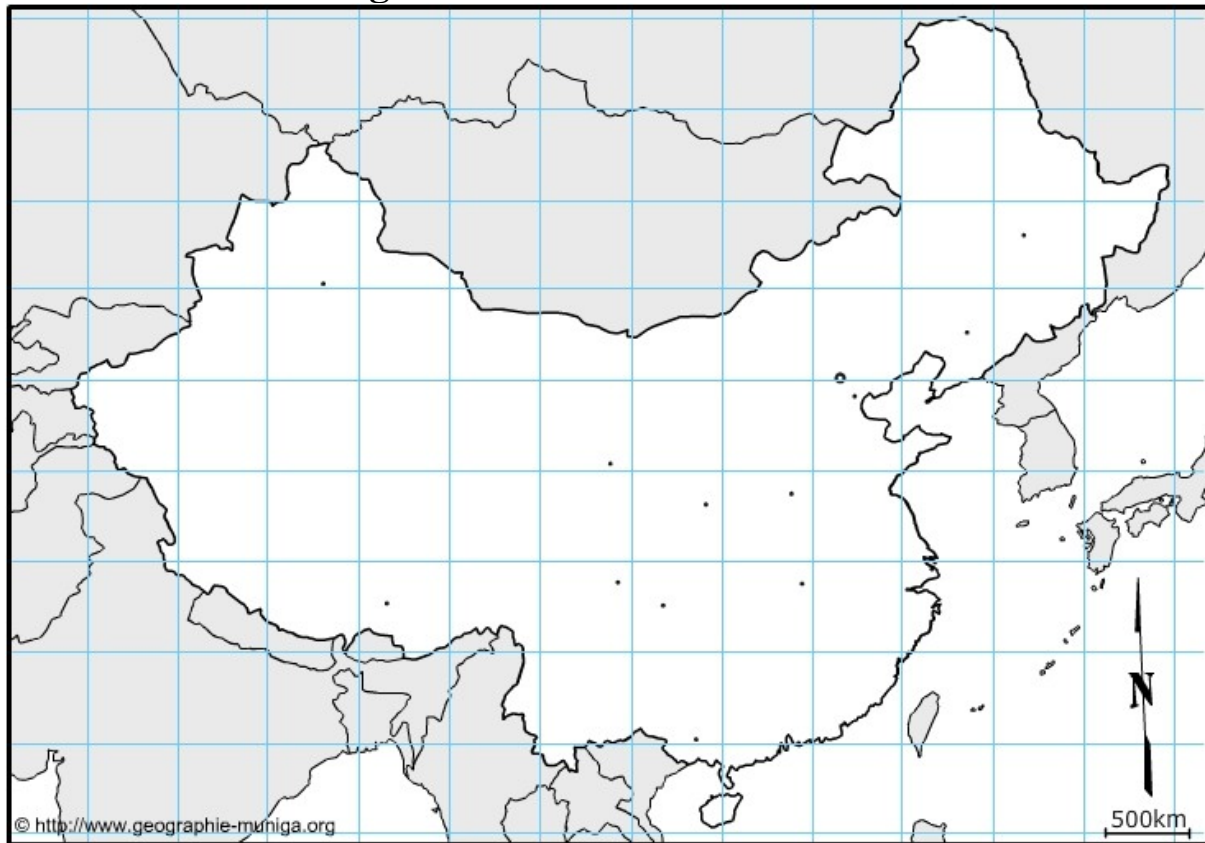
Catégories : Transport(cercles) / Carte : Trafic marchandises

Couches / les ports

Couches / les flux d'exportation



## L'organisation du territoire chinois



### LEGENDE :

#### **1) Des espaces dynamiques intégrés à la mondialisation**

- Espaces les plus dynamiques
- Espaces fortement industrialisés
- Grandes métropoles
- Grands ports

#### **2) Des espaces en marge de la mondialisation**

- Régions plus à l'écart de la mondialisation
- Exode rural

#### **3) Des flux qui montrent l'émergence de la Chine**

- I.D.E. Entrants et sortants
- Flux d'exportations