

# Croquis- version lycée 2e

## Les problèmes alimentaires en Afrique subsaharienne

Ce croquis trouve sa place dans le thème : « nourrir les hommes » car il répond à la mise en œuvre stipulée dans le B.O. à savoir : l'étude de cette question prend appui sur les problématiques [...] assurer la sécurité alimentaire, développer des agricultures durables[...]. Bien que l'étude d'un pays pouvait convenir, le choix de l'Afrique subsaharienne s'inscrit dans une logique de préparation au Bac. En effet, l'étude du continent africain figure au programme du Bac général, Ici, Il convient donc de « mettre en scène graphiquement » le constat de la situation alimentaire alarmante en Afrique subsaharienne tout en inscrivant dans l'espace les facteurs explicatifs ainsi que les solutions mise en œuvre pour combattre la faim. Outre les figurés, la hiérarchie des couleurs sera déterminante pour répondre graphiquement à la problématique.

Pour cela il faut (à l'aide du *Carto\_Flash l'Afrique*) :

- identifier les différentes situations liées à la sous-alimentation des populations en Afrique subsaharienne
- repérer les espaces où sévissent des famines depuis les trente dernières années
- identifier les facteurs explicatifs de cette situation alarmante en :
  - repérant les pays à l'IDH le plus faible du monde
  - repérant les principaux conflits depuis les années 1990
  - repérant les grandes zones de désertification
- identifier les principales solutions mise en oeuvre pour combattre la faim en :
  - repérant le tracé du projet de Grande Muraille verte
  - repérant les pays dont plus de 5% du budget national est consacré à l'agriculture

Avec le plan de légende suivant :

- 1) **Une situation alimentaire alarmante**
- 2) **Des facteurs explicatifs multiples**
- 3) **Des solutions pour combattre la faim**



**Pour bien réussir il faut :**



- 1) Faire cet exercice en vous aidant du *Carto\_Flash\_SDLV Afrique*
- 2) Vérifier vos différentes réponses sous forme de schémas avec ceux du corrigé
- 3) Enfin après correction éventuelle, réaliser votre propre croquis à l'aide du *Munigraphie*.

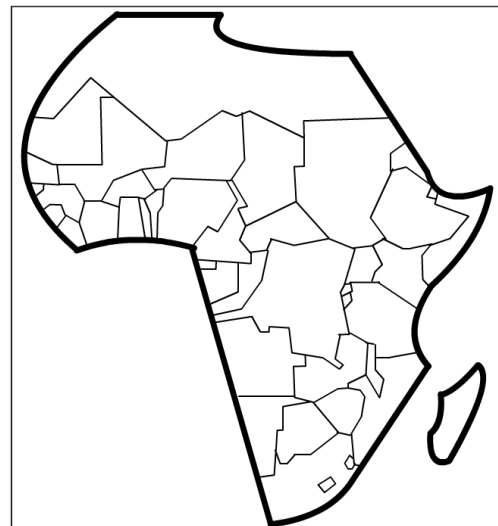
### **A) Une situation alimentaire alarmante**

1) Parmi les paramètres permettant de mesurer l'ampleur des problèmes alimentaires de l'Afrique subsaharienne, nous retiendrons la sous-alimentation. Comment allez-vous représenter les pays où elle est le plus aigüe (>30%) ?

*Aide Carto\_Flash\_SDLV AFRIQUE : (de préférence 3 paliers)  
Catégories : Défis alimentaires / Carte : % sous-alimentés 2013*

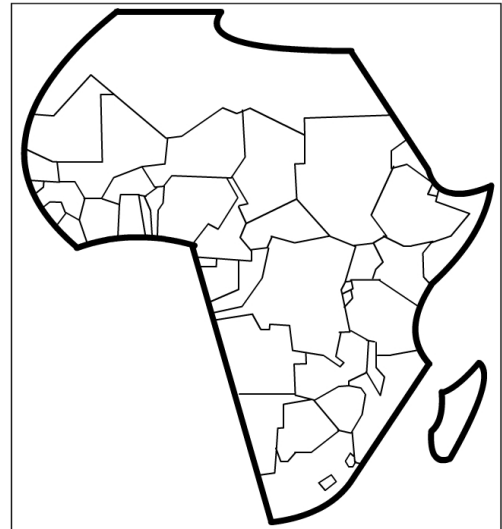
*Catégories : Défis alimentaires / Carte : prévalence malnutrition 2013*

*Catégories : Défis alimentaires / Carte : % - 5 ans insuffisance pondérale*



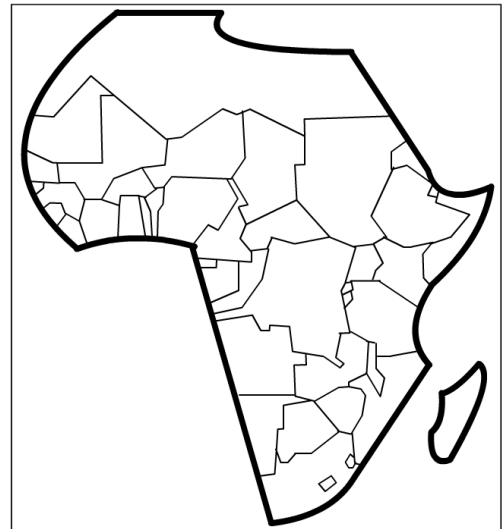
2) Après les pays où la sous-alimentation de la population est la plus aigüe, il nous faut identifier ceux où elle est moyenne (entre 10-30%). Comment allez-vous représenter ces pays ?

*Aide Carto Flash SDLV AFRIQUE : (de préférence 3 paliers)  
Catégories : Défis alimentaires / Carte : % sous-alimentés 2013  
Catégories : Défis alimentaires / Carte : prévalence malnutrition 2013  
Catégories : Défis alimentaires / Carte : % - 5 ans insuffisance pondérale*



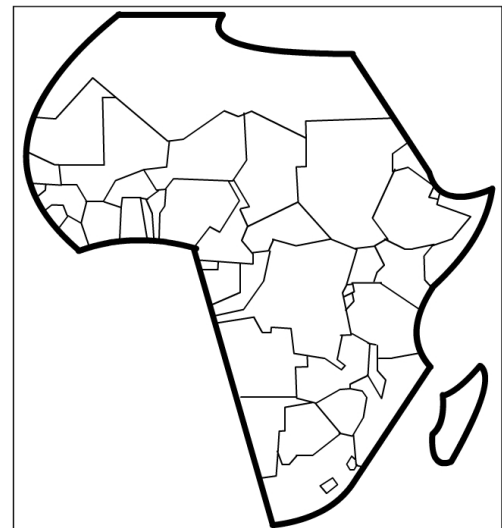
3) Puis il nous faut identifier les pays où les populations sous-alimentées représentent moins de 10%. Comment allez-vous représenter ces pays ?

*Aide Carto Flash SDLV AFRIQUE : (de préférence 3 paliers)  
Catégories : Défis alimentaires / Carte : % sous-alimentés 2013  
Catégories : Défis alimentaires / Carte : prévalence malnutrition 2013  
Catégories : Défis alimentaires / Carte : % - 5 ans insuffisance pondérale*



4) Enfin, il y a le cas de la Somalie avec sa situation très catastrophique mais sans données statistiques fiables. Comment allez-vous représenter ce pays ?

*Aide Carto Flash SDLV AFRIQUE : (de préférence 3 paliers)  
Catégories : Défis alimentaires / Carte : % sous-alimentés 2013  
Catégories : Défis alimentaires / Carte : prévalence malnutrition 2013  
Catégories : Défis alimentaires / Carte : % - 5 ans insuffisance pondérale*



5) L'Afrique subsaharienne n'est pas seulement exposée à une sous-alimentation généralisée, plus ou moins aigüe, elle connaît aussi de nombreuses famines. Comment allez-vous représenter les zones de famines de ces trente dernières années ?

Aide Carto Flash SDLV AFRIQUE :

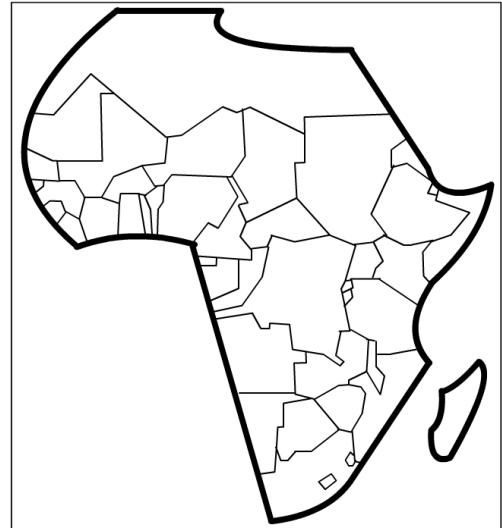
Catégories : Défis alimentaires / Carte : valeurs moyenne production alimentaire

Catégories : Défis alimentaires / Carte : Apport protéine animale

Catégories : Défis alimentaires / Carte : Apport en protéine

Catégories : Défis alimentaires / Carte : % énergie

Couches / zones de famines régulières



## **B) Des facteurs explicatifs multiples**

6) La situation alimentaire alarmante que connaît l'Afrique subsaharienne est due à de multiples facteurs. Les nombreux pays à très faible IDH nous en donne un éclairage. Comment allez-vous représenter les pays à l'IDH le plus faible de la planète ?

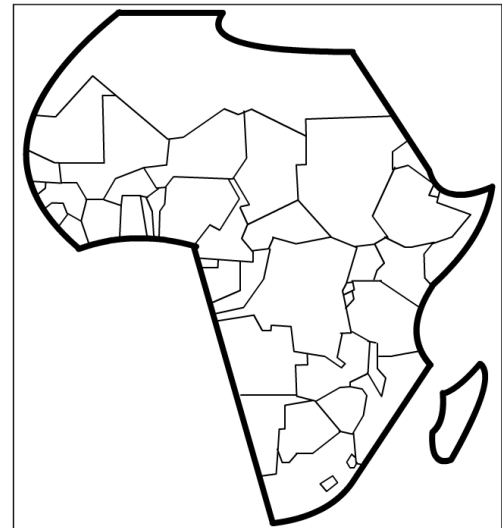
Aide Carto Flash SDLV AFRIQUE :

Catégories : IDH / Carte : IDH 2011

Catégories : Santé / Carte : Dépense santé par habitant

Aide Carto Flash SDLV Espace mondial (3 paliers) :

Catégories : IDH / Carte : IDH 2011



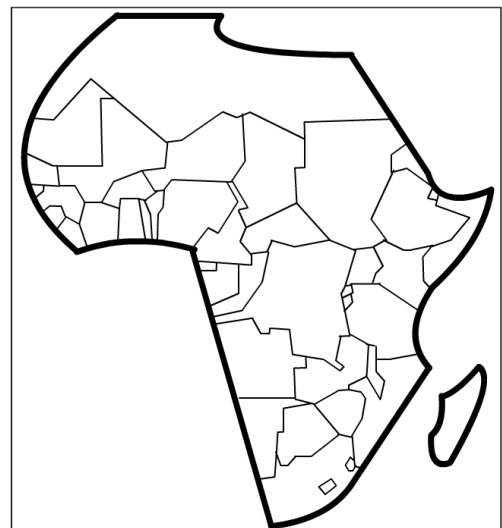
7) Les nombreux conflits qui sévissent dans beaucoup de pays de l'Afrique subsaharienne constituent aussi un facteur d'aggravation de la situation alimentaire. Comment allez-vous représenter ces conflits ?

Aide Carto Flash SDLV AFRIQUE :

Catégories : Défis alimentaires / Carte : Stabilité politique 1996

Catégories : Défis alimentaires / Carte : Stabilité politique 2012

Couches / Principaux conflits depuis 1990



8) La désertification (avancée des zones désertiques) constitue un autre facteur aggravant de la situation alimentaire. Comment allez-vous la représenter ?

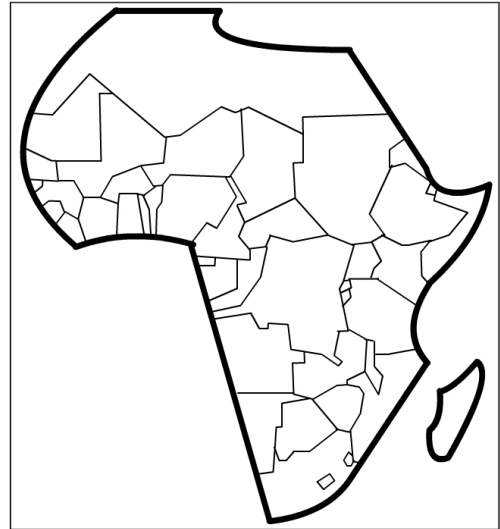
Aide Carto Flash SDLV AFRIQUE :

Catégories : Eau / Carte : Retrait eau douce

Catégories : Eau / Carte : Ressources renouvelables

Catégories : Eau / Carte : Variations

Couches / Désertification progressive



### **C) Des solutions pour combattre la faim**

9) Annoncé dès 2002 lors du sommet spécial de N'Djamena, le projet de grande muraille verte vise à lutter contre l'avancée du désert par le reboisement d'une bande de territoire de 15 km de large et de 7800 km de long. Comment allez-vous la représenter ?

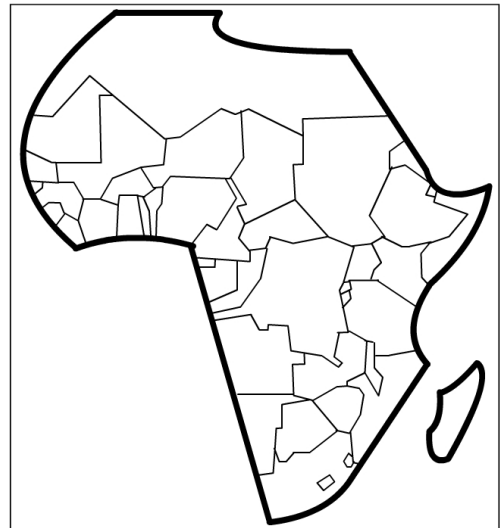
Aide Carto Flash SDLV AFRIQUE :

Catégories : Agriculture / Carte : Terres arables 1960

Catégories : Agriculture / Carte : Terres arables 2010

Catégories : Agriculture / Carte : Variations Terres arables

Couches / Projet grande muraille verte



10) En 2003, à la conférence le Maputo, les pays d'Afrique subsaharienne ont décidé de tendre vers 10% du budget national consacré à l'agriculture. Peu y sont arrivés. Comment allez-vous représenter ceux qui ont au moins atteint les 5% ?

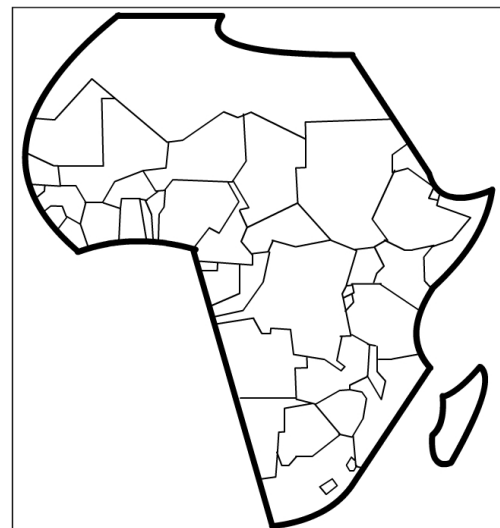
Aide Carto Flash SDLV AFRIQUE :

Catégories : Eau / Carte : Retrait eau douce agriculture 2002

Catégories : Eau / Carte : Retrait eau douce agriculture 2011

Catégories : Défi alimentaire / Carte : % budget national

consacré agriculture



## Les problèmes alimentaires en Afrique subsaharienne

