

Croquis- version lycée 2e

Les contrastes de développement et de population au Maroc

Ce croquis trouve sa place dans le thème obligatoire : du développement au développement durable car il répond à la mise en œuvre stipulée dans le B.O. à savoir : l'étude de cette question prend appui sur les problématiques [...] un développement inégal et déséquilibré [...]. Il convient donc de « mettre en scène graphiquement » que les contrastes de développement et de population organisent l'espace marocain. Mais au-delà, il faut préciser que le Maroc, pays émergent, dans le cadre de son développement économique, prend réellement en compte le développement durable ce qui permet de nombreuses études de cas pour les élèves des classes secondaires.

Et pour le présent croquis il faut :

- identifier les contrastes de développement en s'appuyant sur les cartes du PIB, du % des actifs, des densités, des couches représentant les voies de communications et les principales villes réalisées à partir du Carto_Flash Maroc),
- identifier les espaces fortement industrialisés, moteurs du développement,
- identifier les principales zones portuaires d'exportation du Maroc
- repérer les fortes densités humaines
- repérer les la hiérarchie urbaine
- dégager les dynamiques de peuplement liées à l'exode rural
- repérer les dynamiques liées au retour des provinces du sud marocain à la mère patrie

Avec le plan de légende suivant :

- 1) Des contrastes de développement...
- 2) ...et des contrastes de population...
- 3) ...qui engendrent des dynamiques

Pour bien réussir il faut :

- Faire cet exercice en vous aidant du Carto_Flash SDVL Maroc – Version 2



- Enfin après correction éventuelle, réaliser votre propre croquis à l'aide du Munigraphie.

Vérifier vos différentes réponses sous forme de schémas avec ceux du corrigé



A) Des contrastes de développement...

1) Les contrastes de développement que vous pouvez identifier sur les cartes du PIB, % actifs, densités, voies communications (voir Carto_Flash MAROC), vous permettent de dégager les régions à fort développement. Comment allez-vous les représenter ?

Aide Carto_Flash SDLV MAROC: (de préférence 3 paliers)

Catégories : PIB / Carte : PIB régional/total 2010

Catégories : Emplois / Carte : Actifs 2012

Catégories : Populations / Carte : densités 2012

Couches : Villes, trains, autoroutes,aéroports



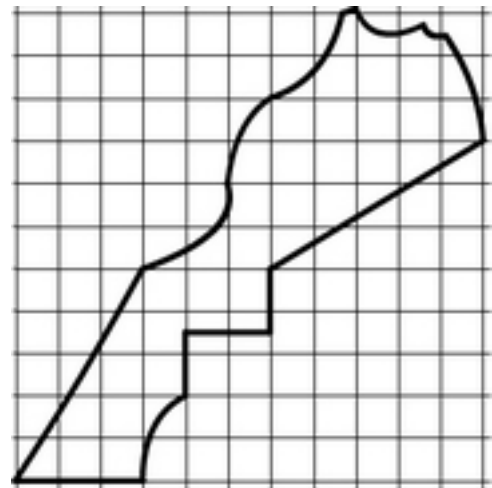
2) Vous avez représenté les régions à fort développement, vous devez maintenant, avec les mêmes cartes identifier les régions à développement moyen. Comment allez-vous les représenter ?

Aide Carto Flash SDLV MAROC: (de préférence 3 paliers)
Catégories : PIB / Carte : PIB régional/total 2010
Catégories : Emplois / Carte : Actifs 2012
Catégories : Populations / Carte : densités 2012
Couches : Villes, trains, autoroutes, aéroports



3) Après les régions à fort développement et les régions à développement moyen, vous devez maintenant, avec les mêmes cartes identifier les régions à faible développement. Comment allez-vous les représenter ?

Aide Carto Flash SDLV MAROC: (de préférence 3 paliers)
Catégories : PIB / Carte : PIB régional/total 2010
Catégories : Emplois / Carte : Actifs 2012
Catégories : Populations / Carte : densités 2012
Couches : Villes, trains, autoroutes, aéroports



4) Enfin, le Maroc a, depuis son indépendance, amorcé son industrialisation principalement autour de la capitale 'économique'. Comment allez-vous représenter la concentration spatiale de ces usines ?

Aide Carto Flash SDLV MAROC:
Catégories : PIB / Carte : % PIB secteur secondaire
Catégories : PIB branches / Carte : Industrie extractive et de transformation

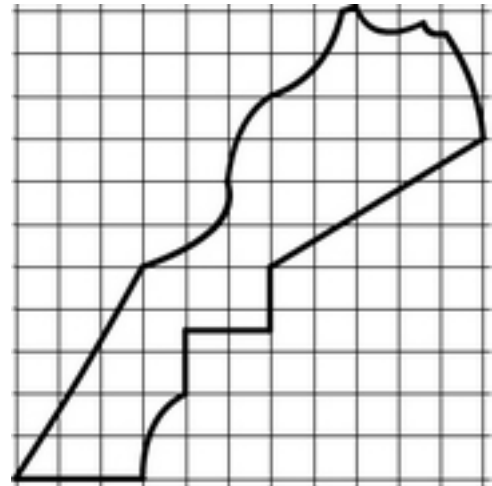


5) Mais le développement du Maroc est aussi le fruit de 'son ouverture' aux échanges mondiaux grâce à ses zones portuaires. Comment allez-vous représenter ces interfaces ?

Aide Carto Flash SDLV MAROC:

Couches / les ports de commerces

Couches / les façades maritimes en développement



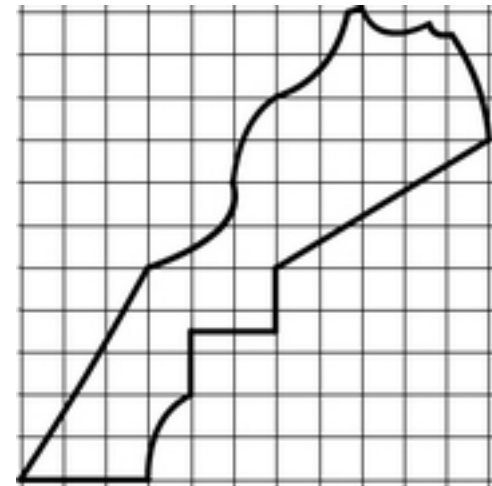
B) ...et des contrastes de population...

6) Le Maroc concentre près de 90% de sa population dans la partie nord-ouest de son territoire. Comment allez-vous représenter ce contraste ?

Aide Carto Flash SDLV MAROC:

Catégories : Populations / Carte : Densités 2012

Catégories : Populations (cercles proportionnels) / Carte : population en 2012

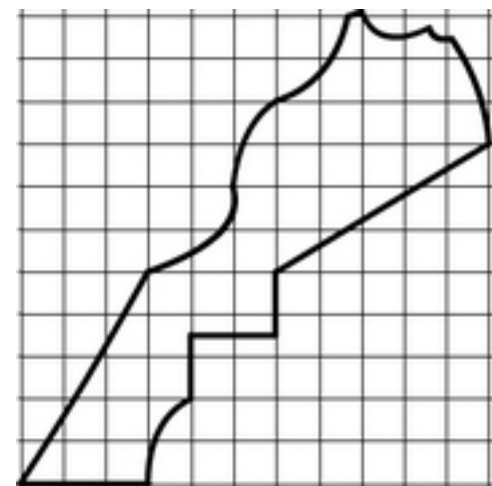


7) Au Maroc, les villes concentrées dans la partie nord-ouest participent aussi au déséquilibre et accentuent les contrastes. Comment allez-vous les représenter ?

Aide Carto Flash SDLV MAROC:

Catégories : Populations / Carte : Densités 2012

Couches / les villes importantes



C) ...qui engendrent des dynamiques

8) Le développement lié notamment à l'industrialisation du Maroc a engendré un exode rural qui par son ampleur participe aux contrastes comme le souligne l'explosion urbaine de Casablanca. Comment allez-vous représenter ce phénomène ?

Aide Carto Flash SDLV MAROC:

Catégories : Populations / Carte : Variations populations rurales 2003-2012

Catégories : Populations-cercles proportionnels / Carte population urbaine en 2003

Catégories : Populations-cercles proportionnels / Carte population urbaine en 2012



9) Les provinces du sud marocain sont restées à l'écart du développement jusqu'en 1975 où, à la faveur de la marche verte, elles ont été rattachées à la mère patrie. Depuis, le Maroc en a fait de cet axe de développement économique une priorité. Comment allez-vous représenter ce phénomène ?

Aide Carto Flash SDLV MAROC:

Catégories : Populations / Carte : Variations populations 2003-2012

Catégories : PIB / Carte : Variation PIB régional 2007/2010

Catégories : PIB / Carte : Variation PIB régional par habitant 2007/2010



Les contrastes de développement et de population au Maroc

