

Croquis

L'inégale intégration des territoires dans la mondialisation

Ce croquis répond aux exigences des directives de l'inspection générale qui écrit dans la rubrique « orientation pour le baccalauréat » de la question « les territoires dans la mondialisation » : « trois réalisations cartographiques sont possibles à l'examen : [...], un croquis de l'inégale intégration des territoires dans la mondialisation ».

A partir de ces indications, plusieurs sujets sont possibles. Certes très proches les uns des autres mais il faut toujours respecter la problématique induite par le sujet.

Ici, contrairement au sujet déjà traité « Des territoires inégalement intégrés à la mondialisation », il ne s'agit pas d'un sujet constat. Le mot clef est inégalement c'est : D'une manière inégale. Donc un constat.

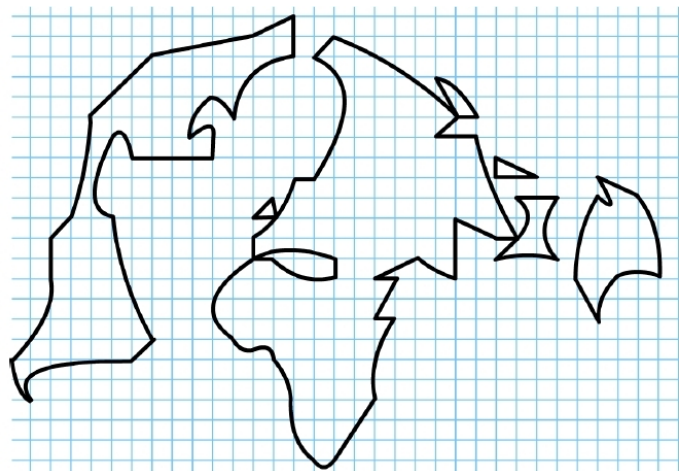
Or, nous avons, nous, « l'inégale comme mot clef ». C'est-à-dire « Qui n'est pas égalé ». Dès lors nous avons « une intégration des territoires qui n'est pas égale dans.. » Et nous tirons comme axe de travail : quelles en sont les causes et les conséquences.

D'où nous tirons le plan suivant :

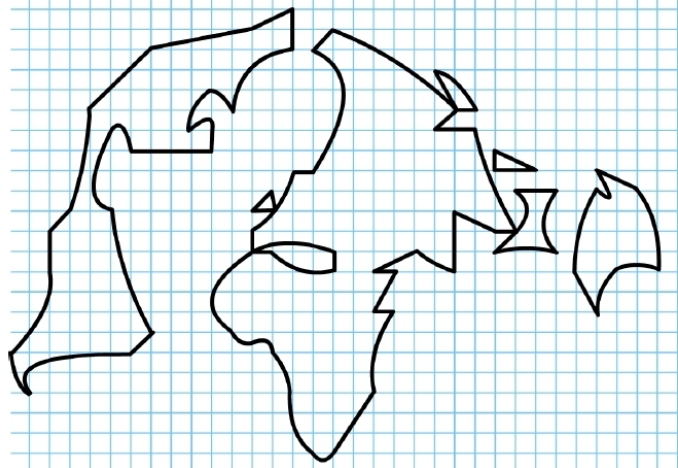
- 1) Des dynamiques de mise en concurrence des territoires, source d'inégalité...
- 2) ...qui engendrent des territoires inégalement valorisés par la mondialisation.

A) Des dynamiques de mise en concurrence des territoires, source d'inégalité...

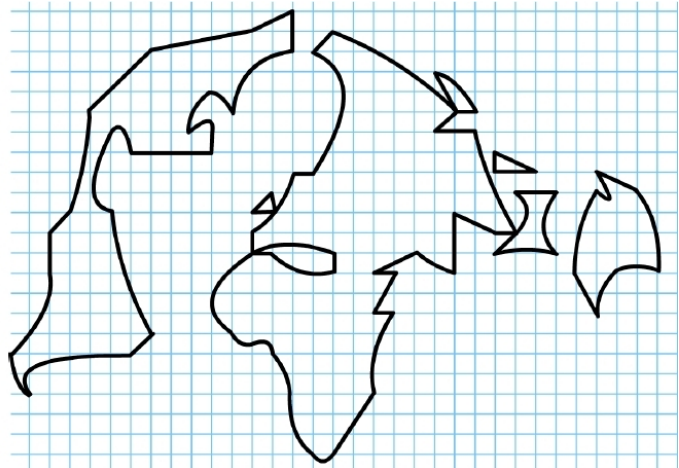
- a) La mise en concurrence des territoires, résultante de la mondialisation est impulsée par les échanges asymétriques et polarisés. Parmi eux, il y a les flux majeurs comme les capitaux, marchandises, informations, services.... Comment allez-vous les représenter ?



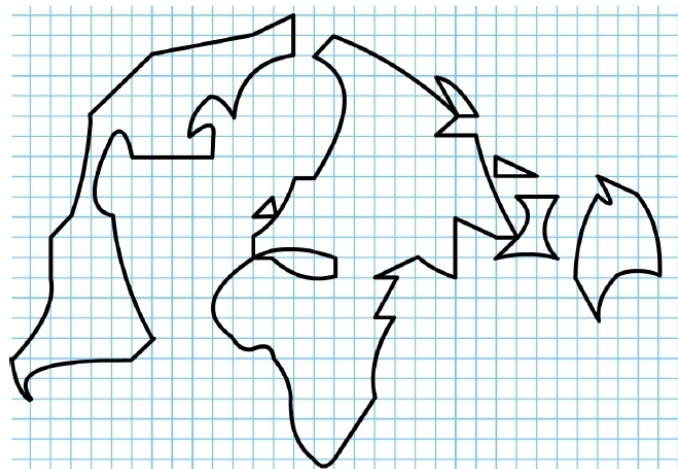
b) Mais il y a également des flux secondaires comme les matières premières, la main d'œuvre peu qualifiée ou les produits illicites qui participent à la mise en concurrence des territoires. Comment allez-vous les représenter ?



c) Et il y a aussi d'autres flux secondaires concernant les capitaux et le tourisme qui participent à la mise en concurrence des territoires. Comment allez-vous les représenter ?

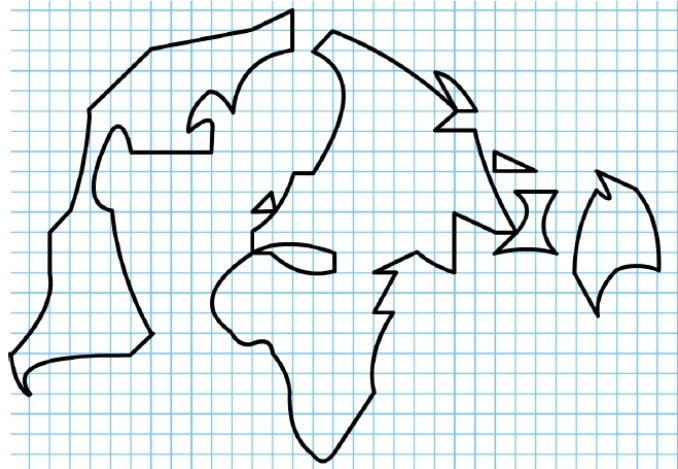


d) Malgré les échanges asymétriques et polarisés, nous observons certaines puissances ascendantes qui tentent un rééquilibrage. Comment allez-vous les représenter ?

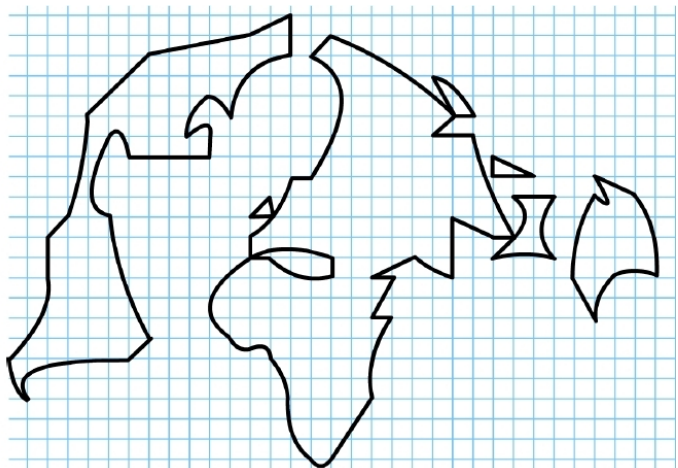


B) **...qui engendrent des territoires inégalement valorisés par la mondialisation.**

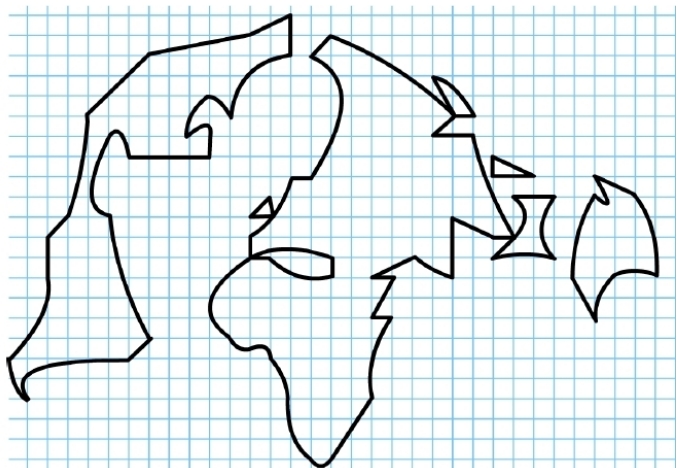
e) Les dynamiques que nous venons de représenter, engendrent une inégale valorisation des territoires. Il y a tout d'abord les territoires de la triade, moteurs de la mondialisation. Comment allez-vous les représenter ?



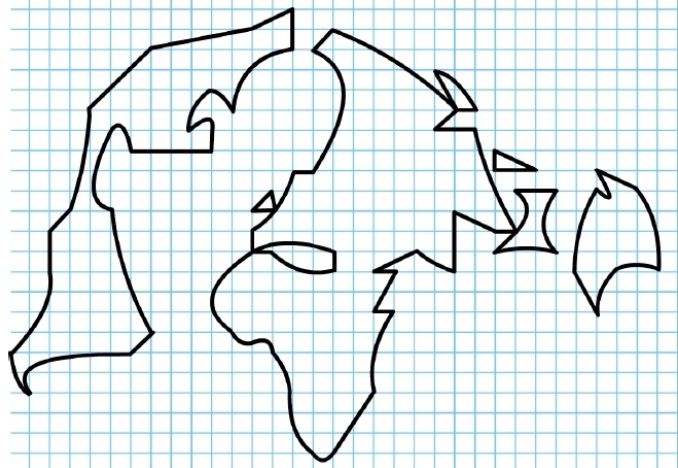
f) Mais nous avons également des périphéries très intégrées qui constituent à n'en pas douter des territoires moteurs de la mondialisation. Comment allez-vous les représenter ?



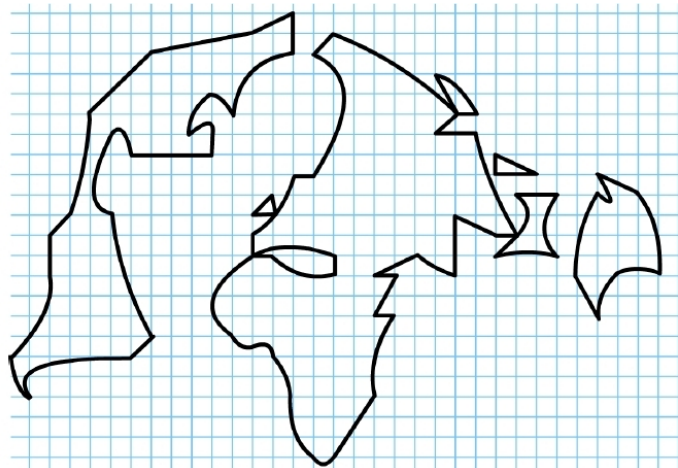
g) Au titre des territoires moteurs de la mondialisation il ne faut pas oublier les villes mondiales. En effet le sujet invite à considérer les territoires à différentes échelles. Comment allez-vous les représenter ?



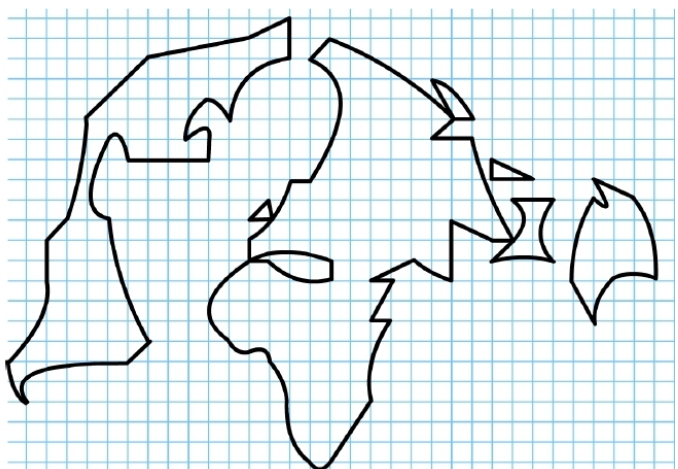
h) Et, toujours au titre des territoires moteurs de la mondialisation il ne faut pas oublier les façades littorales dynamiques. Car le sujet invite à considérer les territoires à différentes échelles. Comment allez-vous les représenter ?



i) Enfin, il y a les périphéries plus ou moins intégrées. Et parmi elles il y a celles qui sont intégrées mais dominées. Comment allez-vous les représenter ?



j) Et pour finir, il y a les périphéries marginalisées. Comment allez-vous les représenter ?



L'inégale intégration des territoires dans la mondialisation



LEGENDE