

# Croquis de géographie à partir d'un texte

## Les contrastes de développement et de population au Maroc

Ce croquis répond aux exigences des directives de l'inspection générale puisque pour le thème 2 – Territoires, populations et développement : quels défis ? - du programme de géographie des classes de Seconde, il est mentionné : « L'objectif de ce thème est l'analyse du développement et de ses conséquences pour les territoires et les populations par le biais de deux processus de transition, démographique et économique, et de leurs conséquences [...] Problématique générale du thème : Quels sont les changements induits par le développement ? Quelles réponses les sociétés apportent-elles aux défis imposés par les transitions démographique et économique ? [...] Les élèves sont amenés à travailler les capacités «savoir lire une série statistique» et «réaliser des productions cartographiques».

Dès lors, il convient donc de « mettre en scène graphiquement » que les contrastes de développement et de population organisent l'espace marocain. Mais au-delà, il faut préciser que le Maroc, pays émergent, dans le cadre de son développement économique, prend réellement en compte le développement durable ce qui permet de nombreuses études de cas pour les élèves des classes secondaires.

Et pour le présent croquis il faut :

- identifier les contrastes de développement en s'appuyant sur les cartes du PIB, du % des actifs, des densités, des couches représentant les voies de communications et les principales villes réalisées à partir du Carto\_Flash\_Maroc),
- identifier les espaces fortement industrialisés, moteurs du développement,
- identifier les principales zones portuaires d'exportation du Maroc
- repérer les fortes densités humaines
- repérer les la hiérarchie urbaine
- dégager les dynamiques de peuplement liées à l'exode rural
- repérer les dynamiques liées au retour des provinces du sud marocain à la mère patrie

**ATTENTION** : Parce que dans le cas d'un croquis à partir d'un texte c'est un peu comme au tribunal « je dis toute la vérité, rien que la vérité ». Ici ce sera « je représente tous les éléments cités dans le texte mais rien que ces éléments. Aussi, avec les hiérarchies de couleurs, de formes vous serez amenés à faire apparaître ces contrastes et ces dynamiques mais également avec es figurés appropriés.

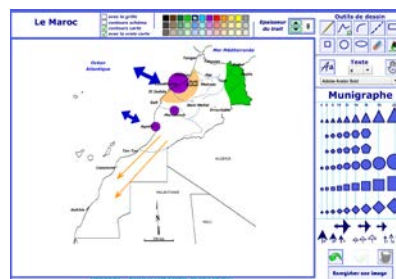
Et n'oubliez pas qu'un bon croquis est comme un bon dessert. Il doit être correctement dosé pour avoir la juste réponse (*saveur pour le dessert*). Et bien présenté. Pour cela utilisez le Munigraphe pour vos figurés.

Avec le plan de légende suivant :

- 1) Des contrastes de développement...
- 2) ...et des contrastes de population...
- 3) ...qui engendrent des dynamiques

**Avant de commencer, il est impératif de lire le texte en fin de ce document et de visionner ce petit film** : <https://www.youtube.com/watch?v=T6JDc1DRK5U>

**Note** : Avant de réaliser votre croquis final, vous pouvez le tester en utilisant le Muni\_Carto Maroc. Ce logiciel vous permet de produire votre croquis dans des conditions réelles. Le nombre couleurs est limité à celui d'une boîte traditionnelle de crayons de couleurs, trois dégradés sont disponibles qui correspondent à : appuyez fort sur votre crayon, appuyez moyennement sur votre crayon et passez très légèrement votre crayon sur la feuille. En outre, le logiciel intègre le Munigraphe (normographe indispensable pour réaliser un bon croquis). Enfin les fonds de carte traditionnelle et schématique sont intégrés ainsi que les carreaux de cahier pour vous repérer



## A) Des contrastes de développement...

- 1) Le territoire marocain qui épouse l'angle nord-ouest du continent africain fait apparaître des disparités. Ces contrastes de développement que vous pouvez identifier sur les cartes du PIB, % actifs, densités, voies communications (voir Carto\_Flash MAROC), vous permettent de dégager les régions à fort développement. Comment allez-vous les représenter ?

**Consignes :**

Utilisez le Carto\_Flash\_Prof\_SDLV Maroc

**Aide :** Carto\_Flash\_SDLV MAROC: ( de préférence 3 paliers)

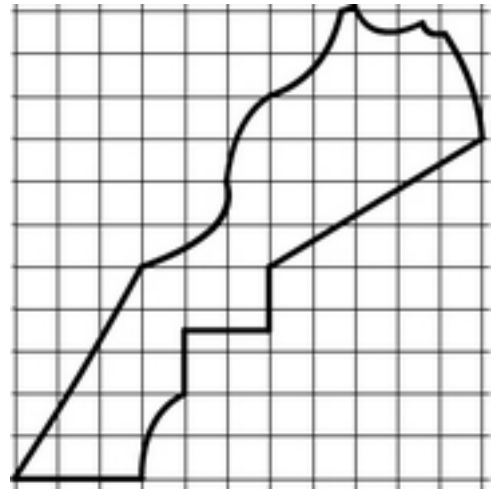
1-Catégories : PIB / Carte : PIB régional/total 2010

2-Catégories : Emplois / Carte : Actifs 2012

3-Catégories : Populations / Carte : densités 2012

4-Couches : Villes, trains, autoroutes, aéroports

**Attention :** il est important ici de définir le bon figuré, la bonne couleur et la localisation ainsi que la taille du figuré.



- 2) Vous avez représenté les régions à fort développement, vous devez maintenant, avec les mêmes cartes identifier les régions à développement moyen. Comment allez-vous les représenter ?

**Consignes :**

Utilisez le Carto\_Flash\_Prof\_SDLV Maroc

**Aide :** Carto\_Flash\_SDLV MAROC: ( de préférence 3 paliers)

1-Catégories : PIB / Carte : PIB régional/total 2010

2-Catégories : Emplois / Carte : Actifs 2012

3-Catégories : Populations / Carte : densités 2012

4-Couches : Villes, trains, autoroutes, aéroports

**Attention :** il est important ici de définir le bon figuré, la bonne couleur et la localisation ainsi que la taille du figuré.



- 3) Après les régions à fort développement et les régions à développement moyen, vous devez maintenant, avec les mêmes cartes identifier les régions à faible développement. Comment allez-vous les représenter ?

**Consignes :**

Utilisez le Carto\_Flash\_Prof\_SDLV Maroc

**Aide :** Carto\_Flash\_SDLV MAROC: ( de préférence 3 paliers)

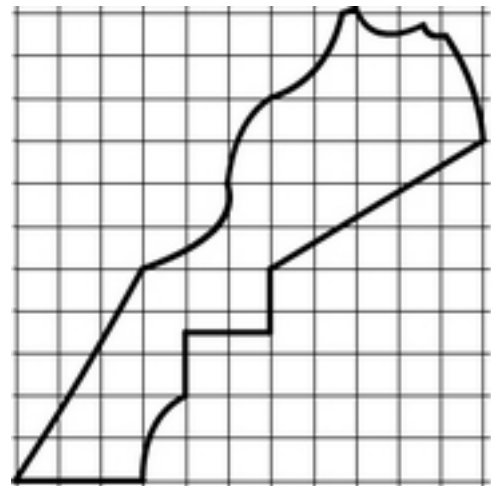
1-Catégories : PIB / Carte : PIB régional/total 2010

2-Catégories : Emplois / Carte : Actifs 2012

3-Catégories : Populations / Carte : densités 2012

4-Couches : Villes, trains, autoroutes, aéroports

**Attention :** il est important ici de définir le bon figuré, la bonne couleur et la localisation ainsi que la taille du figuré.



- 4) Mais, si l'industrialisation a été un moteur important du développement du Maroc, il faut souligner que l'une des caractéristiques qui a longtemps marqué l'industrie marocaine est sa concentration dans la ville principale et portuaire, Casablanca.

**Consignes :**

Utilisez le Carto\_Flash\_Prof\_SDLV Maroc

**Aide :**

1-Catégories : PIB / Carte : % PIB secteur secondaire

2-Catégories : PIB branches / Carte : Industrie extractive et de transformation

**Attention :** il est important ici de définir le bon figuré, la bonne couleur ainsi que la localisation du figuré.



- 5) Mais le développement du Maroc est aussi le fruit de 'son ouverture' aux échanges mondiaux grâce à ses zones portuaires. Comment allez-vous représenter ces interfaces ?

**Consignes :**

Utilisez le Carto\_Flash\_Prof\_SDLV Maroc

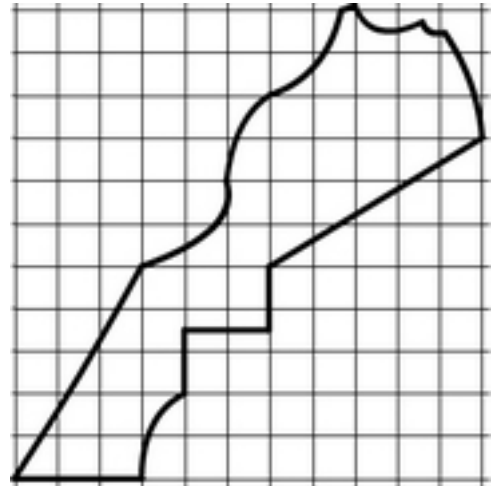
**Aide :**

1-Couches / les ports de commerces

2-Couches / les façades maritimes en développement

**Attention :** il est important ici de définir le bon figuré, la bonne couleur ainsi que la localisation du figuré.

Utilisez le Munigraphie.



**B) ...et des contrastes de population...**

- 6) Le Maroc concentre près de 90% de sa population dans la partie nord-ouest de son territoire. Comment allez-vous représenter ce contraste ?

**Consignes :**

Utilisez le Carto\_Flash\_Prof\_SDLV Maroc

**Aide :**

1-Catégories : Populations / Carte : Densités 2012

2-Catégories : Populations (cercles proportionnels) / Carte : population en 2012

**Attention :** il est important ici de définir le bon figuré, la bonne couleur ainsi que la localisation du figuré.



- 7) Au Maroc, les villes concentrées dans la partie nord-ouest participent aussi au déséquilibre et accentue les contrastes. Comment allez-vous les représenter ?

**Consignes :**

Utilisez le Carto\_Flash\_Prof\_SDLV Maroc

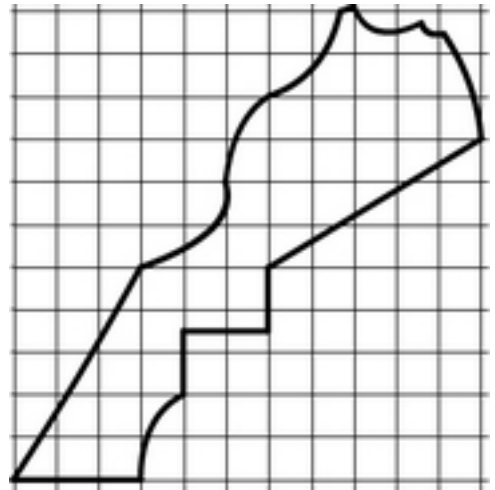
**Aide :**

1-Catégories : Populations / Carte : Densités 2012

2-Couches / les villes importantes

**Attention :** il est important ici de définir le bon figuré, la bonne couleur ainsi que la localisation du figuré.

Utilisez le Munigraphie.



**C) ...qui engendrent des dynamiques**

- 8) Le développement lié notamment à l'industrialisation du Maroc a engendré un exode rural qui par son ampleur participe aux contrastes comme le souligne l'explosion urbaine de Casablanca. Comment allez-vous représenter ce phénomène ?

**Consignes :**

Utilisez le Carto\_Flash\_Prof\_SDLV Maroc

**Aide :**

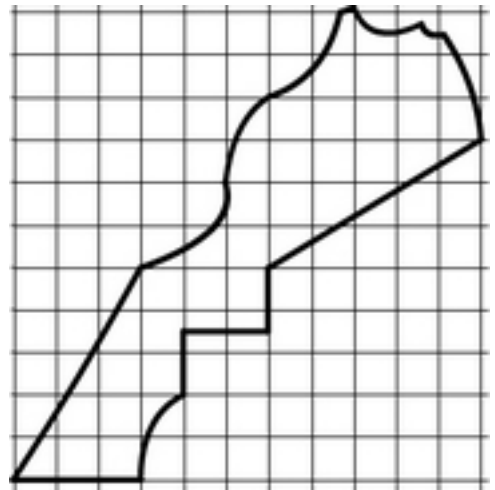
1-Catégories : Populations / Carte : Variations populations rurales 2003-2012

2-Catégories : Populations-cercles proportionnels / Carte population urbaine en 2003

3-Catégories : Populations-cercles proportionnels / Carte population urbaine en 2012

**Attention :** il est important ici de définir le bon figuré, la bonne couleur ainsi que la localisation du figuré.

Utilisez le Munigraphie.



- 9) Enfin, les provinces du sud, rattachées à la mère patrie à la faveur de la marche verte de 1975, bénéficient d'un développement économique particulier comme l'annonce Sa Majesté le Roi Mohammed VI dans son Discours adressé à la Nation à l'occasion du 44ème anniversaire de la Marche verte : "le Sahara marocain constitue le portail du Maroc vers l'Afrique subsaharienne". Comment allez-vous représenter ce phénomène ?

**Consignes :**

Utilisez le Carto\_Flash\_Prof\_SDLV Maroc

**Aide :**

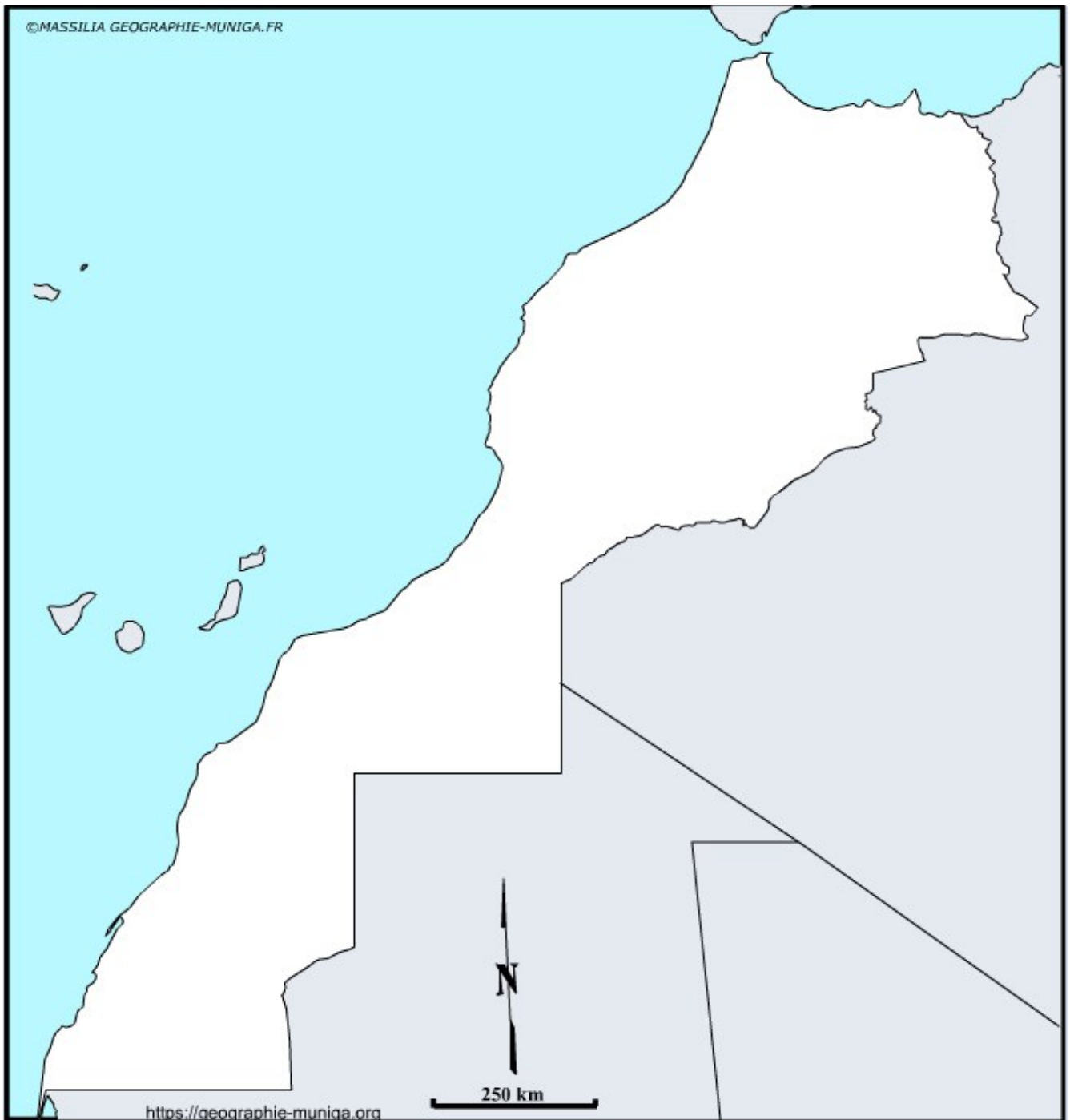
1-Catégories : Populations / Carte : Variations populations 2003-2012

2-Catégories : PIB / Carte : Variation PIB régional 2007/2010

3-Catégories : PIB / Carte : Variation PIB régional par habitant 2007/2010



## Les contrastes de développement et de population au Maroc



### LEGENDE

## Les contrastes de développement et de population au Maroc

### A) Des contrastes de développement...

Le territoire marocain qui épouse l'angle nord-ouest du continent africain fait apparaître des disparités. *Ces disparités concernent à la fois la croissance démographique, les secteurs sociaux et la dynamique économique, et leur évolution est déterminée principalement par trois facteurs : l'urbanisation, les migrations et la localisation des activités. En effet, nos analyses montrent une concentration démographique et économique le long du littoral atlantique et des clivages entre la région centre et les régions périphériques d'une part et d'autre part entre les régions fortement urbanisées et les régions agricoles<sup>1</sup>.*

Si l'industrialisation a été un moteur important du développement du Maroc, il faut souligner que *l'une des caractéristiques qui a longtemps marqué l'industrie marocaine est sa concentration dans la ville principale et portuaire, Casablanca<sup>2</sup>.*

Mais le développement du Maroc est aussi le fruit de 'son ouverture' aux échanges mondiaux grâce à ses zones portuaires comme le souligne la revue Organisation et Territoires (n°3, Octobre 2017)<sup>3</sup> dans laquelle on peut lire : « *Concernant l'évolution du nombre des ports marocain, il est passé de 9 ports en 1961 à 24 ports en 1994 et à 38 ports actuellement dont 13 ports ouverts au commerce extérieur (Nador, Al Hoceima, Tanger, Tanger-Med, Kenitra, Mohammedia, Casablanca, Jorf Lasfar, Safi, Agadir, Tantan, Laâyoune et Dakhla)<sup>3</sup>.* » Une évolution qui a été, en 2012, consacrée par une stratégie portuaire dont l'objectif est non seulement d'accompagner l'évolution de l'économie, mais aussi de saisir de nouvelles opportunités afin d'intégrer davantage le Maroc à la compétitivité mondiale<sup>3</sup>.

### B) des contrastes de population...

Le Maroc concentre près de 90% de sa population dans la partie nord-ouest de son territoire comme le soulignent les notes issues du recensement de la population : « *Selon le nouveau découpage régional en 12 régions, 70,2% de la population marocaine se concentre au niveau de cinq régions dont la population dépasse les trois millions d'habitants chacune. La région du Grand Casablanca-Settat est classée en tête avec une population de 6.861.739, soit une part de 20,3% de la population totale du pays, suivie par les régions de Rabat-Salé-Kénitra avec une population de 4.580.866 (13,5%), de Marrakech-Safi avec 4.520.569 personnes (13,4%), de Fès-Meknès avec une population de 4.236.892 (12,5%) et enfin de Tanger-Tétouan-Al Hoceima avec une population de 3.556.729 (10,5%). Le reste de la population du Maroc se répartit entre les autres régions avec des parts allant de 7,9% pour la région de Souss-Massa à 0,4% pour la région de Dakhla-Oued Eddahab. »<sup>4</sup>*

Par ailleurs, les villes concentrées dans la partie nord-ouest participent aussi au déséquilibre et accentue les contrastes comme on peut le lire dans ces mêmes notes : « *La répartition de la population selon les villes montre que sept grandes villes abritent environ le quart de la population du Royaume (24,9%), ce qui représente une part de 41,3% de la population urbaine. Ces villes sont Casablanca avec une population de 3.359.818, Fès avec une population de 1.112.072, Tanger avec 947.952, Marrakech avec 928.850, Salé avec 890.403, Meknès avec 632.079 et enfin la ville de Rabat avec une population de 577.827 »<sup>4</sup>.*

### C) qui engendrent des dynamiques

Le développement lié notamment à l'industrialisation du Maroc a engendré un exode rural qui par son ampleur participe aux contrastes comme le souligne l'explosion urbaine de Casablanca que confirme l'article du journal « le Matin »<sup>5</sup> qui nous apporte l'information suivante : « *Notons que quatre régions du Royaume attirent près de 6 migrants sur 10. Naturellement, Casablanca-Settat tient la corde avec 16,3% de l'exode rural, suivie de Fès-Meknès (13,9%), Tanger-Tétouan-Al Hoceïma (13,2%) et de Souss-Massa (12,8%). Les bassins migratoires les plus importants sont essentiellement la région Marrakech-Safi, le plus grand pourvoyeur de l'exode rural national avec 17 %, la région Fès-Meknès (14,6%), Tanger-Tétouan-Al Hoceïma (11,6%) et Souss-Massa (11%), soit au total 54,3% »*

Enfin, les provinces du sud, rattachées à la mère patrie à la faveur de la marche verte de 1975, bénéficient d'un développement économique particulier comme l'annonce Sa Majesté le Roi Mohammed VI dans son Discours adressé à la Nation à l'occasion du 44ème anniversaire de la Marche verte : "*le Sahara marocain constitue le portail du Maroc vers l'Afrique subsaharienne*"<sup>6</sup>.

*Ainsi, les provinces du Sud sont les premières à bénéficier du modèle de régionalisation avancée dont les fondements convergent parfaitement avec le Plan d'autonomie, proposé par le Maroc pour résoudre définitivement le conflit artificiel du Sahara marocain. Ce plan, jugé crédible et réaliste par la communauté internationale dont les membres permanents du Conseil de Sécurité de l'ONU, constitue une forme fiable de l'autodétermination au niveau du Sahara dont a été issue la plupart des dynasties ayant régné sur le Maroc.*<sup>6</sup>

*Le nouveau modèle de développement des provinces du Sud repose sur les fondamentaux définis par la Constitution, par les conventions internationales ratifiées par le Maroc ainsi que sur les objectifs de la Charte sociale élaborée par le Conseil Economique Social et Environnemental. Quatre principes sont au cœur de ce modèle :*

- *Le développement humain inclusif et durable.*
- *La participation des acteurs représentatifs et de la population locale à toutes les phases d'élaboration et de mise en œuvre des programmes de développement de la région.*
- *Le respect et l'effectivité des droits humains fondamentaux des citoyens.*
- *La consolidation de la place de l'Etat dans son rôle de régulateur et de garant de l'application de la loi.*<sup>6</sup>

*Une première phase à court et moyen terme (2015-2025) consistant en le lancement et l'opérationnalisation de la nouvelle dynamique de développement et pour la préparation des relais de croissance à plus long terme. L'objectif de cette phase est d'optimiser l'exploitation du potentiel existant tout en structurant, de façon volontariste, le cadre et les mécanismes en faveur de l'emploi, de la formation, et de la protection sociale.*<sup>6</sup>

*Une deuxième phase à moyen et long terme au cours de laquelle le développement basé sur le potentiel existant aurait atteint sa vitesse de croisière et serait soutenu par de nouveaux relais de croissance.*<sup>6</sup>

- 
- 1) <http://gdri.dreem.free.fr/wp-content/c2-3el-ansari-communication.pdf>
  - 2) <http://www.amse.ma/doc/PUM%20Kamal.pdf>
  - 3) [https://geographie-muniga.org//Carto\\_Flash\\_MAROC\\_SDLV/Ports\\_Maroc.pdf](https://geographie-muniga.org//Carto_Flash_MAROC_SDLV/Ports_Maroc.pdf)
  - 4) [https://geographie-muniga.org//Carto\\_Flash\\_MAROC\\_SDLV/Population\\_Maroc.pdf](https://geographie-muniga.org//Carto_Flash_MAROC_SDLV/Population_Maroc.pdf)
  - 5) <https://lematin.ma/express/2023/exode-rural-maroc-femmes-jeunes-instruits-tete-hcp/386202.html>
  - 6) <https://www.ires.ma/images/Flach-info1/LES-PROVINCES-DU-SUD-EN-TANT-QUE-HUB-ET-PORTAIL-VERS-LAFRIQUE-SUBSAHARIENNE.pdf>