

Croquis de géographie *à partir d'un texte*

L'inégal dynamisme démographique des régions métropolitaines françaises

Ce croquis répond aux exigences des directives de l'inspection générale puisque pour le thème 2 - Territoires, populations et développement : quels défis ? - du programme de géographie des classes de Seconde, il est mentionné : « *Question spécifique sur la France - La France : dynamiques démographiques, inégalités socio-économiques.*

Commentaire

Au-delà des processus de vieillissement et d'accroissement de la richesse d'ensemble – sensibles à l'échelle mondiale comme à l'échelle nationale – les territoires de la métropole et de l'Outre-mer sont marqués par la diversité des dynamiques démographiques et une évolution différenciée des inégalités socio-économiques. Des actions nationales et européennes sont mises en œuvre pour y répondre. »

Ce croquis à partir d'un texte est un excellent exercice pour des élèves de la classe de Seconde du lycée. En effet, il permet tout d'abord de faire des prolongements à partir du texte vers une étude de l'Insee d'où est tiré ledit texte. Ensuite, sa traduction graphique demande une certaine maîtrise des figurés et surtout des hiérarchies (*tailles et couleurs*), apprises au collège. En revanche il n'y a aucune difficulté pour trouver la problématique. Le mot clef est « inégal ». Le Robert nous dit « dont la quantité, la nature, la qualité n'est pas la même dans plusieurs objets considérés ». Dès lors on comprend bien qu'il faut, pour ce croquis, faire une typologie et avancer des explications à cette inégalité. C'est d'autant plus aisé que tout est dans le texte. Il n'est guère besoin de chercher ailleurs. Les éléments à représenter se retrouvent aussi dans le texte de manière très explicite.

ATTENTION : dans le cas d'un croquis à partir d'un texte c'est un peu comme au tribunal « je dis toute la vérité, rien que la vérité ». Ici ce sera « je représente tous les éléments cités dans le texte mais rien que ces éléments.

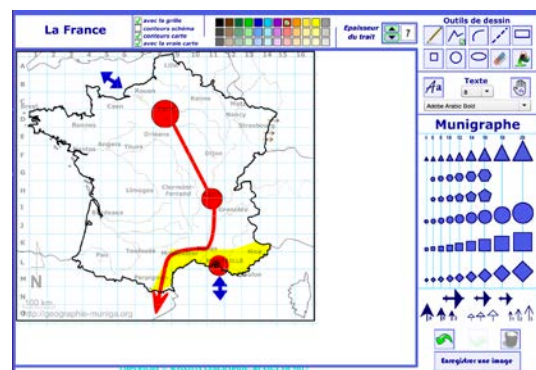
Et n'oubliez pas qu'un bon croquis est comme un bon dessert. Il doit être correctement dosé pour avoir la juste réponse (*saveur pour le dessert*). Et bien présenté. Pour cela utilisez le Munigraphie pour vos figurés.

Avec le plan de légende suivant :

- 1) Un inégal dynamisme démographique des régions françaises métropolitaines...
- 2) ...dû à des facteurs multiples

Avant de commencer, il est impératif de lire le texte en fin de ce document.

Note : Avant de réaliser votre croquis final, vous pouvez le tester en utilisant le Muni_Carto France. Ce logiciel vous permet de produire votre croquis dans des conditions réelles. Le nombre couleurs est limité à celui d'une boîte traditionnelle de crayons de couleurs, trois dégradés sont disponibles qui correspondent à : appuyez fort sur votre crayon, appuyez moyennement sur votre crayon et passez très légèrement votre crayon sur la feuille. En outre, le logiciel intègre le Munigraphie (normographe indispensable pour réaliser un bon croquis). Enfin les fonds de carte traditionnelle et schématique sont intégrés ainsi que les carreaux de cahier pour vous repérer



A) Un inégal dynamisme démographique des régions françaises métropolitaines...

- 1) Le dynamisme démographique des régions métropolitaines françaises offre un contraste saisissant. Dans un grand arc qui va de la Bretagne à la Corse exceptée la région PACA, les taux sont les plus forts. Comment allez-vous les représenter ?

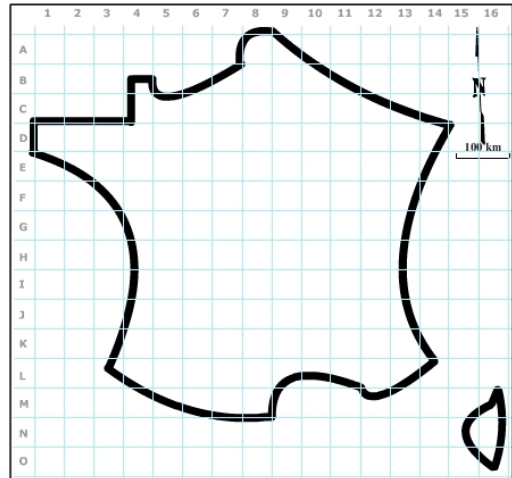
Consignes :

Pensez à utiliser le Carto_Flash_Prof_SDLV France

Attention : il est important ici de définir le bon figuré, la bonne couleur et la localisation ainsi que la taille du figuré.

Pour comprendre :

https://geographie-muniga.org/ATLAS_SDLV/Insee_Focus_221.pdf



- 2) D'autres régions avec une faible croissance affichent un taux moyen. Comment allez-vous les représenter ?

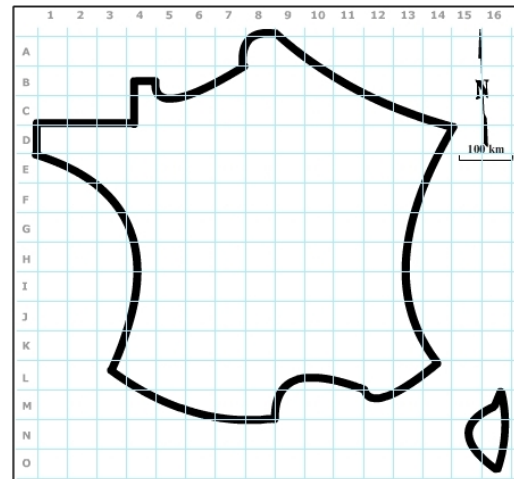
Consignes :

Pensez à utiliser le Carto_Flash_Prof_SDLV France

Attention : il est important ici de définir le bon figuré, la bonne couleur et la localisation ainsi que la taille du figuré.

Pour comprendre :

https://geographie-muniga.org/ATLAS_SDLV/Insee_Focus_221.pdf



- 3) Enfin, quatre régions coiffent la partie la plus septentrionale de la France et enregistrent la plus faible croissance. Comment allez-vous les représenter ?

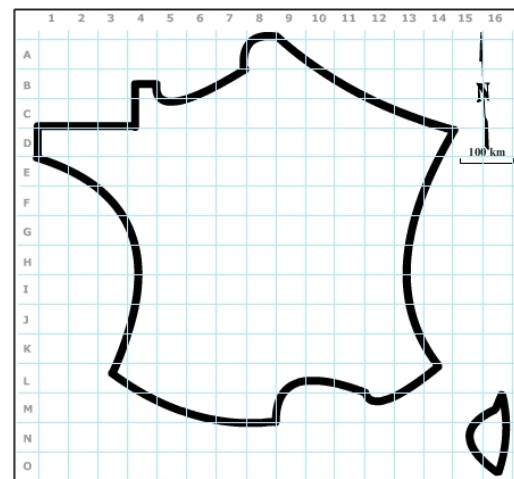
Consignes :

Pensez à utiliser le Carto_Flash_Prof_SDLV France

Attention : il est important ici de définir le bon figuré, la bonne couleur et la localisation ainsi que la taille du figuré.

Pour comprendre :

https://geographie-muniga.org/ATLAS_SDLV/Insee_Focus_221.pdf



B) ...dû à des facteurs multiples

- 4) Cette disparité est due, notamment, aux métropoles qui jouent un rôle d'attractivité important en attirant les activités et les hommes avec des croissances autour de 1,0 % par an. Comment allez-vous les représenter ?

Consignes :

Pensez à utiliser le *Carto_Flash_Prof_SDLV France*

Attention : il est important ici de définir le bon figuré, la bonne couleur ainsi que la localisation du figuré.

Utilisez le Munigraphie.

Pour comprendre :

<https://www.insee.fr/fr/statistiques/4277602?sommaire=43182>

91

- 5) D'autres métropoles comme Paris, Strasbourg, Marseille, Lille et Grenoble ont des croissances plus faibles. Comment allez-vous les représenter ?

Consignes :

Pensez à utiliser le *Carto_Flash_Prof_SDLV France*

Attention : il est important ici de définir le bon figuré, la bonne couleur ainsi que la localisation du figuré.

Utilisez le Munigraphie.

Pour comprendre :

<https://www.insee.fr/fr/statistiques/4277602?sommaire=43182>

91

- 6) Dans Il faut par ailleurs souligner le rôle important du cadre attractif des climats et littoraux atlantique et méditerranéen. Comment allez-vous le représenter ?

Consignes :

Pensez à utiliser le *Carto_Flash_Prof_SDLV France*

Attention : il est important ici de définir le bon figuré, la bonne couleur ainsi que la localisation du figuré.

Pour comprendre :

https://geographie-muniga.org/ATLAS_SDLV/FET2021.pdf

- 7) Cette attractivité entraîne des flux internes de population entre régions moins dynamiques et régions attractives. Comment allez-vous le représenter ?

Consignes :

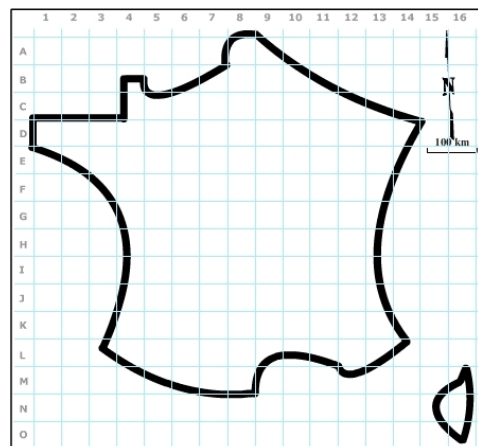
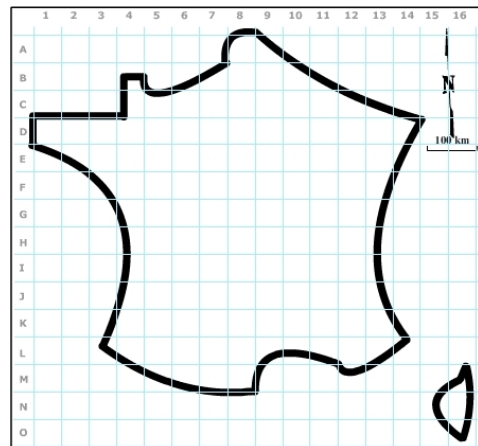
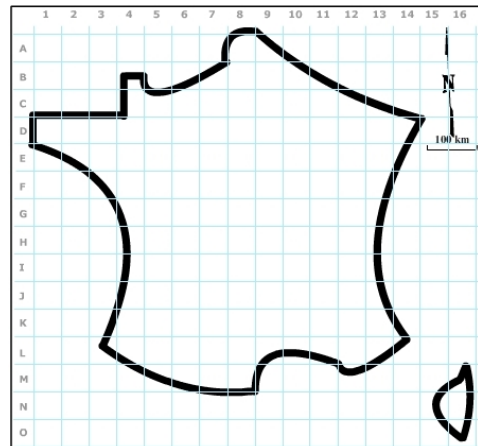
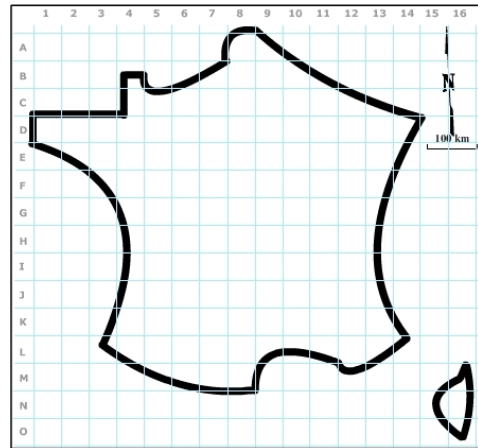
Pensez à utiliser le *Carto_Flash_Prof_SDLV France*

Attention : il est important ici de définir le bon figuré, la bonne couleur ainsi que la localisation du figuré.

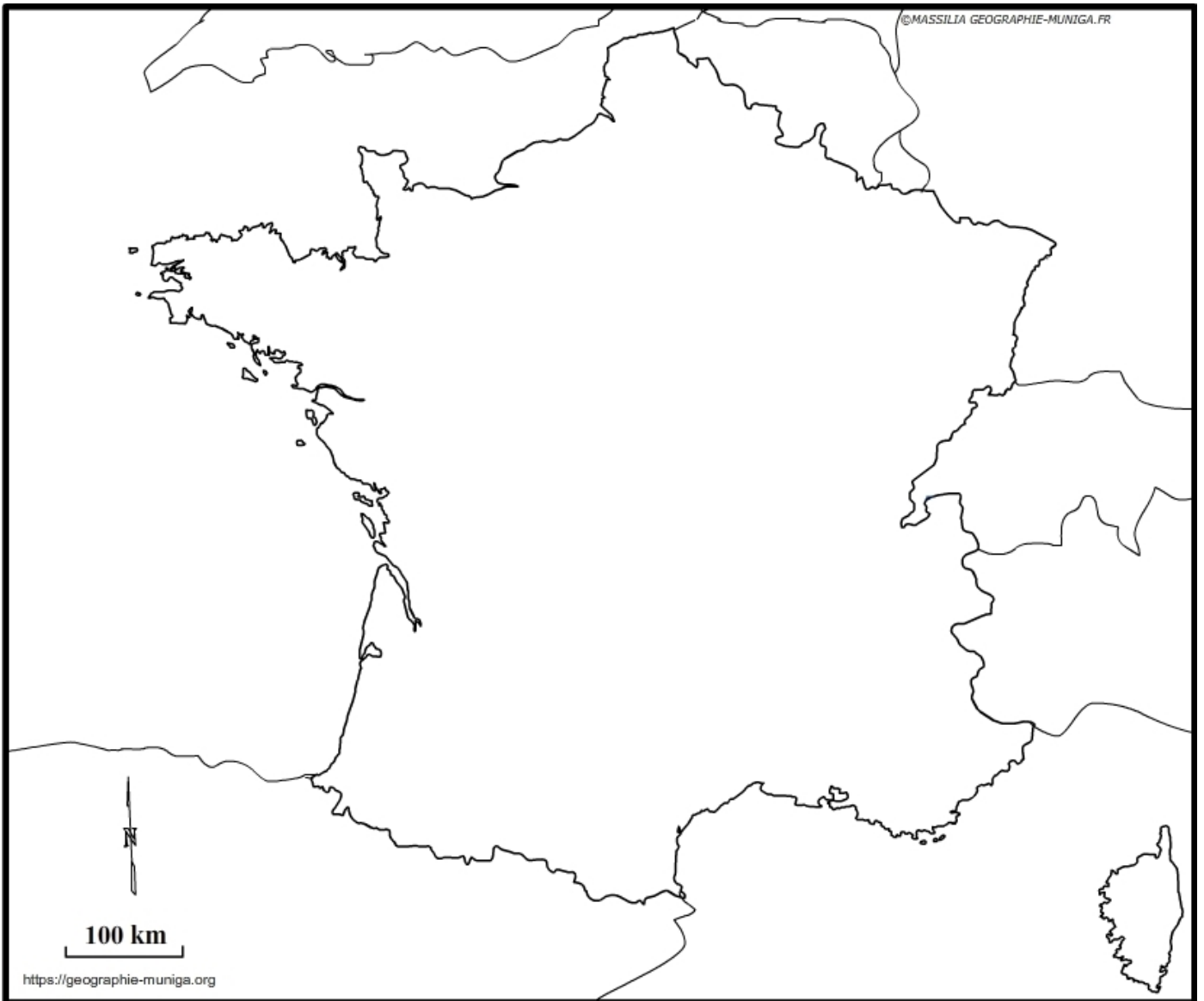
Utilisez le Munigraphie.

Pour comprendre :

https://geographie-muniga.org/ATLAS_SDLV/FET2021.pdf



L'inégal dynamisme démographique des régions métropolitaines françaises



LEGENDE

L'inégal dynamisme démographique des régions métropolitaines françaises

Le dynamisme démographique des régions métropolitaines françaises offrent un contraste saisissant. Si la population augmente régulièrement on remarque cependant que, pendant la période 2008-2013, selon une étude l'INSEE⁽¹⁾, le solde naturel des régions métropolitaines françaises s'est globalement réduit, mais a été compensé par un solde migratoire positif.

Au cours de cette période trois régions⁽²⁾ qui coiffent la partie la plus septentrionale de la France enregistrent la plus faible croissance, entre 0,1 et 0,2. En revanche, dans un grand arc qui va de la Bretagne à la Corse exceptée la région PACA, les taux sont les plus forts même si les valeurs affichées ne vont que, modestement, de 0,6 à 1,1.

L'étude de l'INSEE précitée, nous apporte des explications à cette évolution contrastée.

Tout d'abord, on relève que les croissances les plus fortes caractérisent des régions dans lesquelles les métropoles jouent un rôle d'attractivité important en attirant les activités et les hommes. Des croissances qui dépassent ou atteignent 1,0 % par an pour Nantes (+ 1,4 %), Montpellier (+ 1,4 %), Bordeaux (+ 1,4 %), Toulouse (+ 1,3 %) et Rennes (+ 1,1 %). Quant à Lyon (+ 0,9 %), elle se rapproche de ces taux.

Et Paris, la plus peuplée avec 13 millions d'habitants en 2018, augmente seulement comme la moyenne nationale (+ 0,4 %).

Quant au dynamisme démographique des autres métropoles, il est plus faible : Strasbourg (+ 0,6 %), Marseille (+ 0,4 %), Lille (+ 0,3 %) et Grenoble (+ 0,2 %).

Ensuite, il faut souligner le rôle important du cadre attractif des climats et littoraux atlantique et méditerranéen. C'est indubitablement un facteur d'attractivité pour les populations, tout comme peuvent l'être les Alpes.

Une attractivité qui entraîne des flux internes de population entre régions moins dynamiques et régions attractives.

(1) https://www.insee.fr/fr/statistiques/4999744#tableau-figure2_radio1

(2) https://geographie-muniga.org/ATLAS_SDLV/Insee_Focus_221.pdf