

Croquis

L'organisation du territoire de la Martinique

Ce croquis répond aux exigences des directives de l'inspection générale puisque pour le thème conclusif – La France et ses régions dans l'Union européenne et dans la mondialisation : lignes de force et recompositions- du programme de géographie des classes de Terminale générale, il est mentionné : « *L'étude de la France et de ses régions vise à interroger le rôle des acteurs, à différentes échelles, dans l'intégration européenne et mondiale, et les effets territoriaux différenciés de cette intégration.*

L'étude de la région du lycée permet de mobiliser les connaissances acquises sur la France pour les appliquer à une autre échelle d'analyse. Il s'agit d'envisager avec les élèves les territoires de proximité et les divers aspects de leur attractivité. Cette approche leur fournit des clés de lecture pour comprendre leur territoire de proximité.

Cet exercice permet de mettre en œuvre la capacité « réaliser des productions graphiques et cartographiques dans le cadre d'une analyse » et, dans le cadre du thème conclusif, d'approfondir « l'élaboration de croquis plus complexes ».

Ce croquis vient clôturer la scolarité du secondaire. Il invite à une réflexion approfondie sur la traduction graphique de l'organisation d'un espace connu par l'élève dans lequel se trouve son lycée.

Mais commençons par comprendre le sujet. Le mot clef est « organisation ». Organiser c'est agencer, placer des éléments d'une certaine manière. D'après le dictionnaire Robert, c'est disposer les éléments (une matière, un corps) de sorte que les propriétés de la vie et des organismes s'y manifestent. Nous devons donc avec notre croquis faire une description la plus fidèle possible de la manière dont les éléments (naturels ou création de l'homme) qui contribuent « à la vie » de cette région administrative sont répartis et s'articulent entre eux.

ATTENTION : avec une "toile de fond", un arrière-plan, représentant les grandes tendances de la typologie des espaces, il faudra surimposer les éléments créés par l'homme ou ceux qui découlent de la création de l'homme, pour faire ressortir le fonctionnement de cet espace.

Et n'oubliez pas qu'un bon croquis est comme un bon dessert. Il doit être correctement dosé pour avoir la juste réponse (saveur pour le dessert). Et bien présenté. Pour cela utilisez le Munigraphie pour vos figurés.

Avec le plan de légende suivant :

- 1) Une économie tertiaire qui souligne la domination de la métropole régionale**
- 2) Des atouts touristiques et agricoles inégalement mis en valeur**
- 3) Une île toujours tournée vers la métropole**

**Avant de commencer,
prenez connaissance du texte en fin de document
et du document :**

https://geographie-muniga.org/ATLAS_SDLV/Dossier_Martinique_SDLV.pdf

A) Une économie tertiaire qui souligne la domination de la métropole régionale

- 1) Son économie est principalement tertiarisée et se reflète dans l'organisation de son territoire. On note une concentration spatiale au centre de l'île prenant appui sur la métropole régionale. Comment allez-vous représenter la métropole régionale ?

Aide :

Utilisez le Muni_Carto SDLV avec son atlas intégré

Consignes :

Etape 1 : dans le Muni_Carto SDLV choisissez la carte physique

Etape 2 : dans le Muni_Carto SDLV choisissez la carte de l'urbanisme

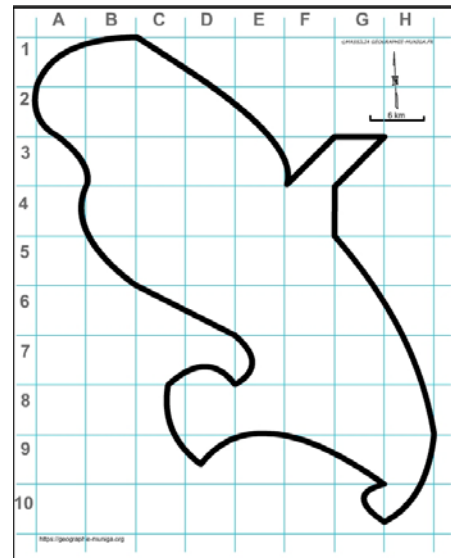
Attention : il est important ici de définir le bon figuré, la bonne couleur et la localisation.

Pour comprendre :

<https://www.martinique.org/fort-de-france>

<https://www.insee.fr/fr/statistiques/2011101?geo=COM-97209>

https://www.youtube.com/watch?v=MDK_-6kP_1Y



- 2) Une urbanisation qui, en prenant appui sur la métropole régionale, s'étend progressivement ; un étalement de l'agglomération illustré par l'article de Géoconfluence. Comment allez-vous représenter cet étalement de l'agglomération ?

Aide :

Utilisez le Muni_Carto SDLV avec son atlas intégré

Consignes :

Etape 1 : dans le Muni_Carto SDLV choisissez la carte physique

Etape 2 : dans le Muni_Carto SDLV choisissez la carte de l'urbanisme

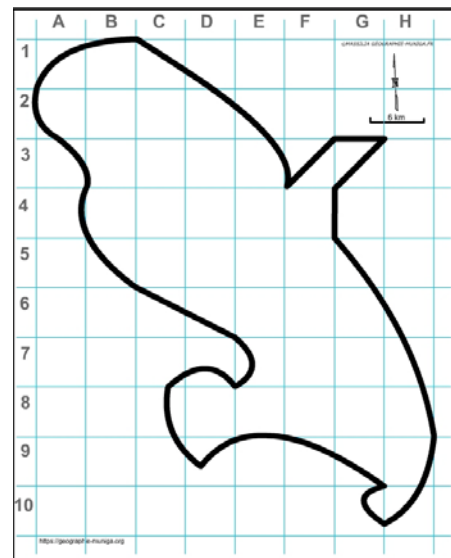
Etape 3 : dans le Muni_Carto SDLV choisissez la carte du trafic routier

Attention : il est important ici de définir le bon figuré, la bonne couleur et la localisation.

Pour comprendre :

<https://www.cacem.fr/agglomeration/>

<https://www.youtube.com/watch?v=7PQW8HpGtG0>



- 3) Si l'on prend le territoire de la Communauté d'Agglomération du Centre de la Martinique celui-ci polarise 42 % de la population, 80 % des activités économiques. Comment allez-vous représenter les principales villes (voir le Pdf) ?

Aide :

Utilisez le Muni_Carto SDLV avec son atlas intégré

Consignes :

Etape 1 : dans le Muni_Carto SDLV choisissez la carte physique

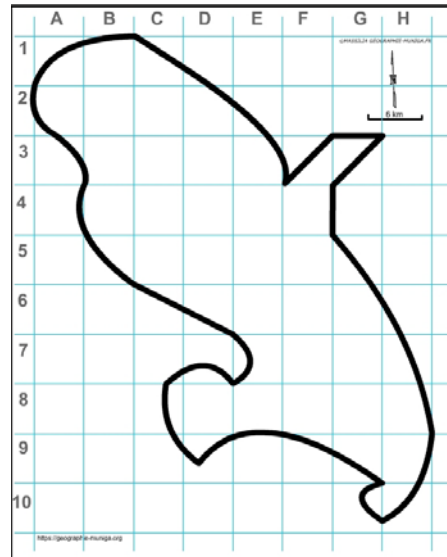
Etape 2 : dans le Muni_Carto SDLV choisissez la carte de l'urbanisme

Etape 3 : dans le Muni_Carto SDLV choisissez la carte du trafic routier

Attention : il est important ici de définir le bon figuré, la bonne couleur et la localisation.

Pour comprendre :

<https://escaledenuit.com/les-plus-grandes-villes-de-martinique/>



B) Des atouts touristiques et agricoles inégalement mis en valeur

- 4) Le tourisme est un marqueur fort de l'économie de l'île. Elle attire les touristes par ses plages de sable blanc qui baignent dans les eaux turquoise et chaudes de la mer des caraïbes. Comment allez-vous représenter le littoral touristique ?

Aide :

Utilisez le Muni_Carto SDLV avec son atlas intégré

Consignes :

Etape 1 : dans le Muni_Carto SDLV choisissez la carte plages

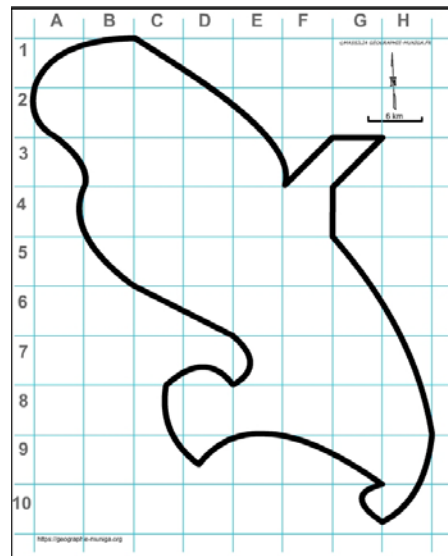
Etape 2 : dans le Muni_Carto SDLV choisissez la carte tourisme

Attention : il est important ici de définir le bon figuré, la bonne couleur et la localisation.

Pour comprendre :

<https://www.costacroisieres.fr/costa-club/maazine/plaques/plaques-martinique.html>

<https://www.youtube.com/watch?v=njulfU0biTs>



- 5) Le Mais elle offre aussi une jungle luxuriante, des fleurs exotiques, et un volcan perché au cœur du parc naturel régional (nord). Comment allez-vous représenter le parc naturel régional ?

Aide :

Utilisez le Muni_Carto SDLV avec son atlas intégré

Consignes :

Etape 1 : dans le Muni_Carto SDLV choisissez la carte parc naturel régional

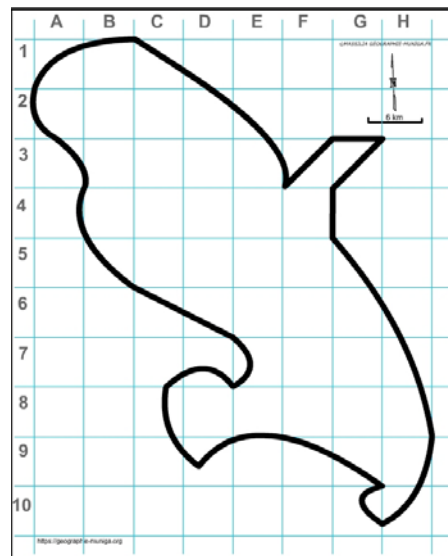
Attention : il est important ici de définir le bon figuré, la bonne couleur et la localisation.

Pour comprendre :

<http://pnr-martinique.com/la-charte-du-pnrm/>

<https://www.youtube.com/watch?v=oNuibhRt3y4>

<https://www.youtube.com/watch?v=9zurEylx6No>



- 6) La filière canne-sucre-rhum intègre à la fois une composante agricole, une dimension industrielle et une valorisation touristique. Certaines distilleries (non fumantes) ne fabriquent plus de rhum mais ont été reconverties en sites touristiques. Comment allez-vous les représenter ?

Aide :

Utilisez le Muni_Carto SDLV avec son atlas intégré

Consignes :

Etape 1 : dans le Muni_Carto_SDLV choisissez la carte distilleries

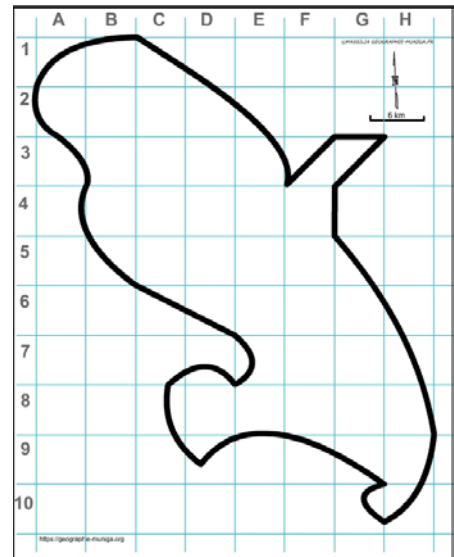
Attention : il est important ici de définir le bon figuré, la bonne couleur et la localisation.

Pour comprendre :

<http://pnr-martinique.com/la-charte-du-pnrm/>

<https://www.voyage-martinique.fr/musee-du-rhum.html>

<https://rhum-saintjames.com/visiter/>



- 7) Plus qu'une simple boisson, le rhum est un pan de la culture locale qui se transmet au même titre que la littérature créole, la gastronomie et la yole de Martinique. Comment allez-vous représenter les distilleries fumantes ?

Aide :

Utilisez le Muni_Carto SDLV avec son atlas intégré

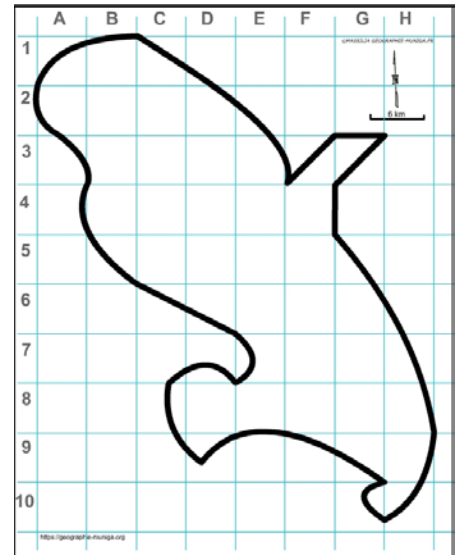
Consignes :

Etape 1 : dans le Muni_Carto_SDLV choisissez la carte distilleries

Attention : il est important ici de définir le bon figuré, la bonne couleur et la localisation

Pour comprendre :

<https://www.youtube.com/watch?v=2YesG1eQ1sq&t=2318s>



- 8) Quant à l'agriculture, elle exploite 30% de la surface de l'île avec la banane, la canne à sucre, le melon et l'ananas. La production de banane joue un rôle prédominant dans l'économie de la Martinique avec ses 5000 hectares. Comment allez-vous représenter les bananeraies ?

Aide :

Utilisez le Muni_Carto SDLV avec son atlas intégré

Consignes :

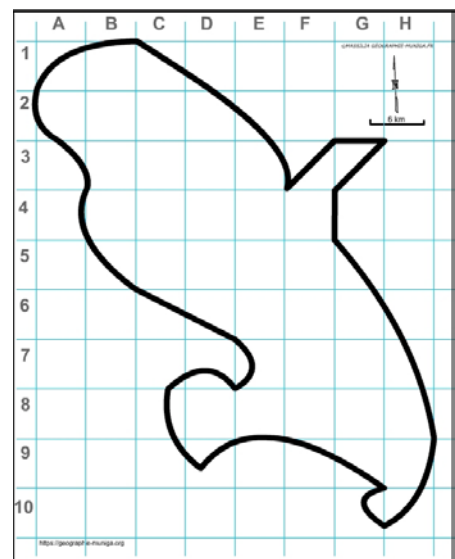
Etape 1 : dans le Muni_Carto_SDLV choisissez la carte culture de la banane

Attention : il est important ici de définir le bon figuré, la bonne couleur et la localisation

Pour comprendre :

<https://extraordinairebanane.fr/2018/11/23/martinique-terre-bananes/>

<https://www.youtube.com/watch?v=UfVHFwCpzAw>



- 9) La canne à sucre, le melon et l'ananas et les cultures vivrières occupent le reste du territoire de l'île. Comment allez-vous représenter ces surfaces agricoles ?

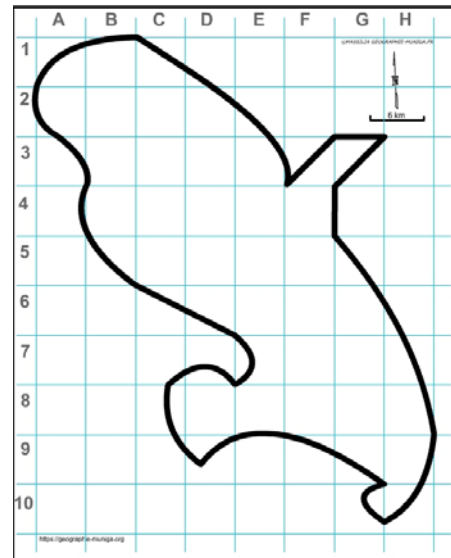
Aide :

Utilisez le Muni_Carto SDLV avec son atlas intégré

Consignes :

Etape 1 : dans le Muni_Carto SDLV choisissez la carte culture canne à sucre

Attention : il est important ici de définir le bon figuré, la bonne couleur et la localisation



C) Une île toujours tournée vers la métropole

- 10) L'activité aérienne en Martinique se concentre sur un petit nombre de liaisons s'effectuant à 90 % dans l'espace national à partir du seul Aéroport International Martinique Aimé Césaire. Comment allez-vous le représenter ?

Aide :

Utilisez le Muni_Carto SDLV avec son atlas intégré

Consignes :

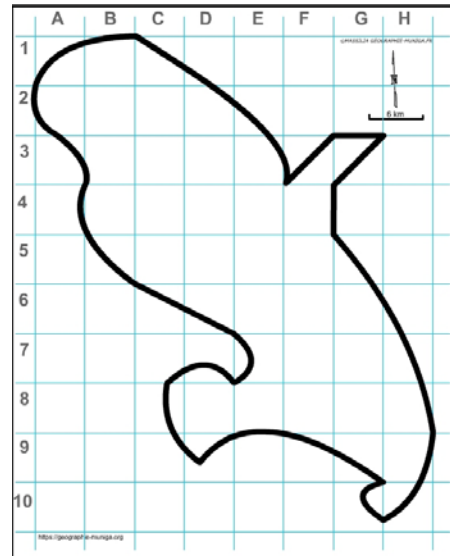
Etape 1 : dans le Muni_Carto SDLV choisissez la carte physique

Attention : il est important ici de définir le bon figuré, la bonne couleur et la localisation

Pour comprendre :

<https://www.martinique.aeroport.fr/>

<https://www.youtube.com/watch?v=gc-eSg6d-Ao>



- 11) Quant aux liaisons maritimes faites à partir du seul Grand port autonome de Martinique, les trafics restent essentiellement concentrés sur la Métropole. Comment allez-vous le représenter ?

Aide :

Utilisez le Muni_Carto SDLV avec son atlas intégré

Consignes :

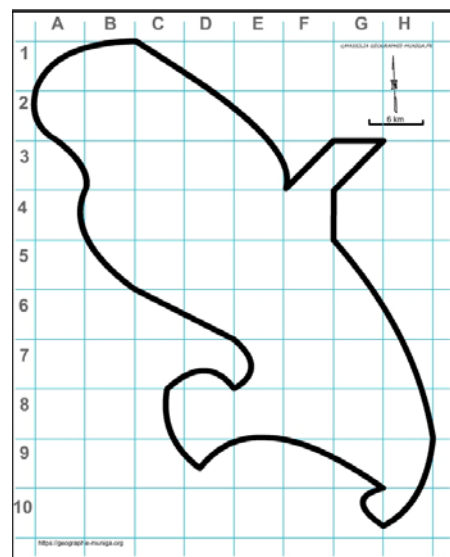
Etape 1 : dans le Muni_Carto SDLV choisissez la carte physique

Attention : il est important ici de définir le bon figuré, la bonne couleur et la localisation

Pour comprendre :

<https://www.martinique.port.fr/>

<https://www.youtube.com/watch?v=pBtY9eaGVj4>



12) Malgré la volonté affichée de s'intégrer davantage dans l'espace caraïbe cette dernière peine à se concrétiser dans l'île, car les échanges régionaux sont toujours principalement tournés vers les autres territoires français. Comment allez-vous représenter cette polarisation ?

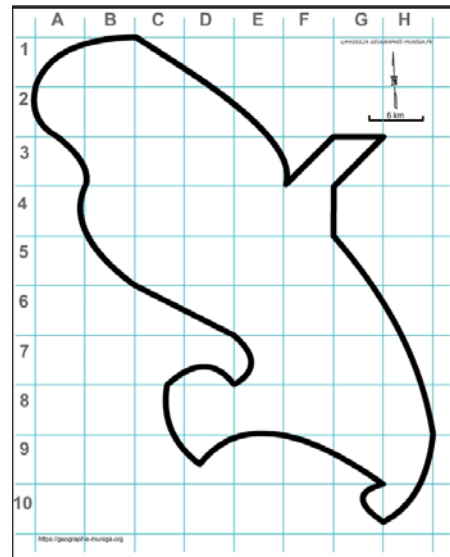
Aide :

Utilisez le Muni_Carto SDLV avec son atlas intégré

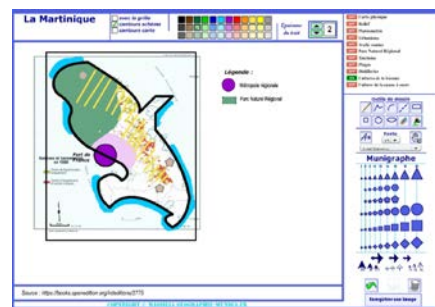
Pour comprendre :

<http://geoconfluences.ens-lyon.fr/informations-scientifiques/dossiers-thematiques/mobilites-flux-et-transports/articles-scientifiques/insularite-martinique>

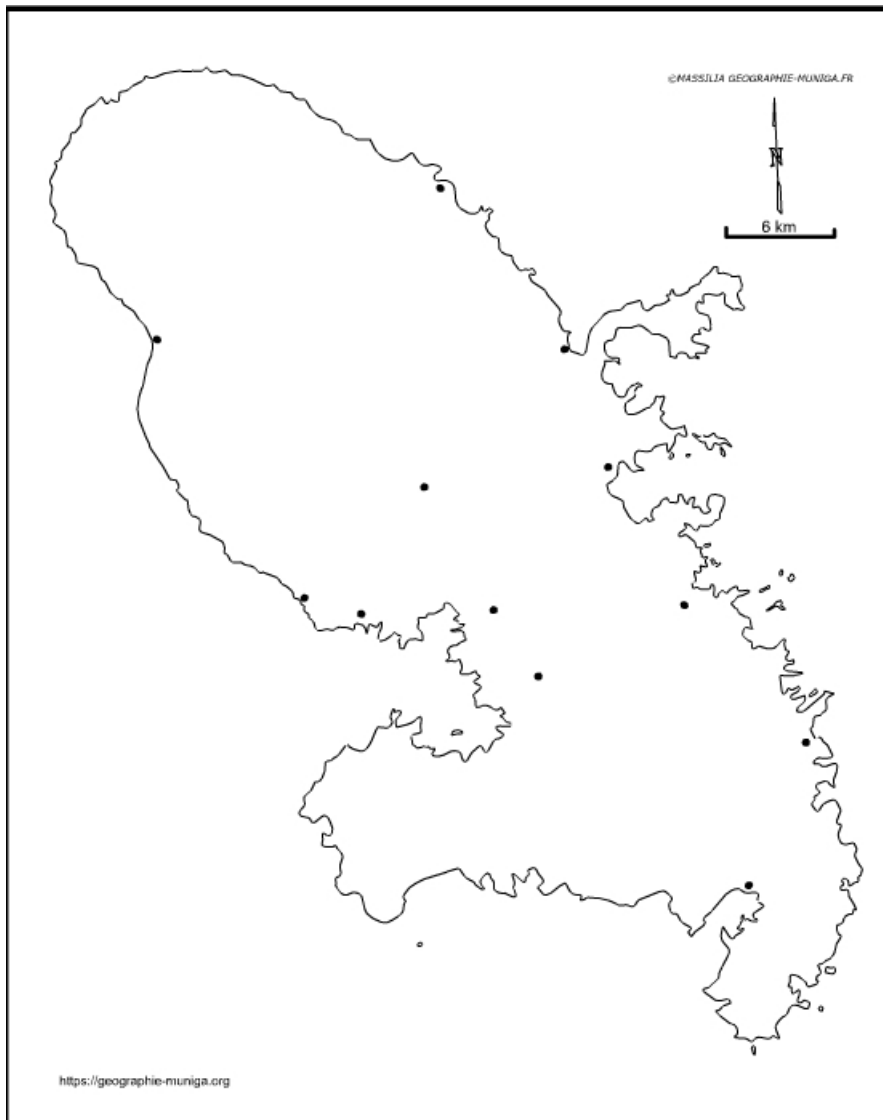
https://geographie-muniga.org/ATLAS_SDLV/Dossier_Martinique_SDLV.pdf



Note : Avant de réaliser votre croquis final, vous pouvez le tester en utilisant le Muni_Carto Martinique. Ce logiciel vous permet de produire votre croquis dans des conditions réelles. Le nombre couleurs est limité à celui d'une boîte traditionnelle de crayons de couleurs, trois dégradés sont disponibles qui correspondent à : appuyez fort sur votre crayon, appuyez moyennement sur votre crayon et passez très légèrement votre crayon sur la feuille. En outre, le logiciel intègre le Munigraph (normographe indispensable pour réaliser un bon croquis). Enfin les fonds de carte traditionnelle et schématique sont intégrés ainsi que les carreaux de cahier pour vous repérer.



L'organisation du territoire de la Martinique



LEGENDE

Martinique : l'île aux fleurs qui peine à valoriser ses atouts

Située dans la mer des Caraïbes entre la Dominique et Sainte-Lucie. L'île est française depuis 1816.

Ses 1 128 km² de terres volcaniques peuvent se séparer en trois zones distinctes :

- *le nord, plus montagneux où s'épanouit la forêt tropicale humide ;*
- *le sud, plus sec et moins accidenté où se trouvent les principales infrastructures touristiques de l'île ;*
- *entre ces deux zones, le centre abrite les principales activités économiques du territoire, concentrées dans la capitale, Fort-de-France, et les villes du Lamentin, de Saint-Joseph et de Schœlcher (1)*

Son économie est principalement tertiarisée et se reflète dans l'organisation de son territoire. En effet, si 75,3% des effectifs salariés relèvent du secteur tertiaire dont 42% dans le seul secteur public, on note une concentration spatiale au centre de l'île évoquée ci-dessus. Une urbanisation qui, en prenant appui sur la métropole régionale, s'étend progressivement, un étalement de l'agglomération illustré par l'article de Géoconfluence lorsqu'il souligne que « *si l'on prend le territoire de la Communauté d'Agglomération du Centre de la Martinique (CACEM, qui regroupe Fort-de-France, Le Lamentin, Schœlcher et Saint-Joseph), celui-ci polarise 42 % de la population (161 021 habitants en 2015), 60 % des emplois salariés, 80 % des activités économiques, 45 % de la population active, sur seulement 17 % du territoire martiniquais.*(2) »

Le tourisme est un marqueur fort de l'économie de l'île. Elle est une vitrine de l'Europe sur le continent américain qui bénéficie du rattachement au territoire douanier de l'Union européenne mais est exclue de son territoire fiscal parce qu'elle est devenue une zone défiscalisée. La Martinique est une destination touristique d'outremer privilégiée.

Elle attire les touristes par ses plages de sable blanc qui baignent dans les eaux turquoises et chaudes de la mer des caraïbes.

Mais elle offre aussi une jungle luxuriante, des fleurs exotiques, et un volcan perché au cœur du parc naturel régional (nord).

Par ailleurs, la filière canne-sucre-rhum intègre à la fois une composante agricole, une dimension industrielle et une valorisation touristique. Les distilleries fumantes se distinguent des 4 distilleries dites non fumantes qui ne fabriquent plus de rhum mais ont été reconverties en sites touristiques. Plus qu'une simple boisson, il est un pan de la culture locale qui se transmet au même titre que la littérature créole, la gastronomie et la yole de Martinique (inscrite en décembre 2020 au patrimoine culturel immatériel de l'humanité par l'UNESCO). Le rhum représente ainsi un vecteur de la valorisation du patrimoine touristique de la Martinique.(3)

Quant à l'agriculture, elle exploite 30% de la surface de l'île avec la banane, la canne à sucre, le melon et l'ananas. *La production de banane joue un rôle prédominant dans l'économie de la Martinique avec ses 5000 hectares.*

Si le bananier est présent sur l'ensemble de la Martinique dans les jardins familiaux, les exploitations agricoles, elles, se concentrent dans trois zones de l'île.

La première se situe dans le nord de la Martinique. Dans le centre de l'île à l'est de Fort-de-France. Et dans le sud sur le littoral Atlantique.(4)

Malgré la volonté affichée de s'intégrer davantage dans l'espace caraïbe cette dernière peine à se concrétiser dans l'île, car les échanges régionaux sont toujours principalement tournés vers les autres territoires français.⁽²⁾

On note ainsi que l'activité aérienne en Martinique (1,85 million de passagers en 2017) se concentre sur un petit nombre de liaisons s'effectuant à 90 % dans l'espace national. La relation se fait aujourd'hui uniquement avec les aéroports parisiens et le réseau transatlantique est élémentaire, se limitant à un axe polarisé par Paris.⁽²⁾

Quant aux liaisons maritimes, même si les ports des Antilles françaises ambitionnent, depuis plusieurs années, de développer les activités de transbordement et de redistribution de marchandises dans l'espace caraïbe et en dépit de la qualité des équipements, leurs projets ont du mal à aboutir. La géographie des trafics reste essentiellement concentrée sur la Métropole.⁽²⁾ Et, l'importante installation portuaire de Fort de France ne fait pas exception.

⁽¹⁾https://www.lemonde.fr/elections-regionales-2015/article/2015/11/26/martinique-une-ile-qui-peine-a-valoriser-ses-atouts_4818239_4640869.html

⁽²⁾<http://geoconfluences.ens-lyon.fr/informations-scientifiques/dossiers-thematiques/mobilites-flux-et-transport/articles-scientifiques/insularite-martinique>

⁽³⁾<http://geoconfluences.ens-lyon.fr/informations-scientifiques/dossiers-regionaux/france-espaces-ruraux-periurbains/articles-scientifiques/martinique-filiere-rhum-canne>

⁽⁴⁾<https://extraordinairebanane.fr/2018/11/23/martinique-terre-bananes/>

	Population légale Au 1 ^{er} janvier 2019
Fort-de-France	76512
Le Lamentin	40095
Le Robert	21913
Schoelcher	19612
Ducos	17655
Le François	15980
Saint-Joseph	15883
Sainte-Marie	15487
La Trinité	12025
Rivière-Salée	11874
Saint-Esprit	9890
Gros-Morne	9689
Sainte-Luce	9487
Le Marin	8751
Les Trois-Îlets	7242
Le Lorrain	6768
Le Diamant	5511

Source : <https://www.insee.fr/fr/statistiques/6012596>